




SINDHI HIGH SCHOOL, K.K.ROAD, BENGALURU – 01

WORKSHEET 6 (2022 -23)

ENGLISH



Name: _____

Roll No: _____

Class: 2 A/B/C

Date: 27/03/2023

No. of printed sides: 4

Reading time: 8:00 to 8:15am

Writing time: 8:15 to 9:15am

Section A – Reading

(5 marks)

I. Read the given passage and answer the questions that follow:

My Big Brother Akash

Asha and Akash were happy because it was holiday time. But their parents had to go to work. They both had to be at home. Asha had to take care of her big brother Akash as he was naughty. One day they decided to do something for their mother. They thought of painting a picture on the garden wall. They took their paints and painted a basketball net and a red ball on the wall. The wall looked amazing. When their parents returned from work, they were surprised and happy to see the great work of their children.

1. What is the title of the story?

2. Why were Akash and Asha happy?

Grammar

III. Fill in the blanks by writing the antonyms of the underlined words

(1/2x2=1)

1. My bag is heavy, but your bag is _____.
2. The pool for the elders is deep but the pool for children is _____.

IV. Rewrite the following sentences using conjunctions from the box: (1x2=2)

and because or but

1. Raju is studying. He has his exams.

2. You can wear the blue dress. You can wear the purple dress.

V. Circle the correct homophone:

(1/2x 2=1)

1. The teacher asked Mohan to bring a piece / peace of chalk.
2. The heard / herd of cows was grazing in the field.

VI. Choose the correct preposition to fill in the blanks:

(1/2x 2=1)

1. The fun does not end when friends are _____ us. (around/above)
2. Radha is sitting in _____ Reema and Lata. (by / between)

Section C- Literature

VI. Answer the following questions:

(1x3=3)

1. What did Raghu thank the thieves for?

2. What did the young boy say when he saw the oranges?

3. What is hard to miss in the jungle?

VII. Say whether the statements are true or false:

(1x2=2)

1. The thieves were clever. _____

2. The man and his son were travelling in a bus. _____



SINDHI HIGH SCHOOL
K.K. ROAD BENGALURU -01 (2022-2023)



WORKSHEET-6

SUBJECT: EVS

Name: _____

Class: II A/ B/ C

Roll no: _____

Date: 28/3/2023

Marks: 20

Time: 8.00-9.30 AM

No of sides printed:2

I. Fill in the blanks:

(1*5 = 5M)

1. _____ is celebrated on 25th December every year.
2. Animals that fly in the air are called _____.
3. We get _____ from the cocoon of silkworms.
4. Very small animals are called _____.
5. Cow lives in a _____.

II. Match the following:

(1/2*4=2M)

- | | | |
|-------------|-----|---------------|
| 1. Bihu | () | a) Kerala |
| 2. Pongal | () | b) Assam |
| 3. Onam | () | c) Punjab |
| 4. Baisakhi | () | d) Tamil Nadu |

III. Name the following :

(1*4 = 4M)

1. The main attraction of Onam - _____
2. Festival of colours - _____
3. The festival celebrated on 26th January every year - _____
4. The young one of a sheep - _____



SINDHI HIGH SCHOOL, K.K.ROAD, BENGALURU -01



WORKSHEET - 6 (2022-23)

SUB : MATHEMATICS

No. of printed sides : 3

Name : _____

Date : 24/3/23

Class : 2 A/B/C

Time : 1 hour

Roll no : _____

Marks : 20

1) Complete the following :

(1 X 4 = 4)

- a) The answer of multiplication is called as _____.
- b) One rupee is equal to _____ paise .
- c) $4 + 4 + 4 =$ _____ times _____.
- d) We can change ₹ 10 for _____ five rupee coins.

2) Write the amount in words

(1 X 2 = 2)

- a) ₹ 18.50 - _____
- b) ₹ 235.00 - _____

3) Fill in the missing tables

($\frac{1}{2} \times 4 = 2$)

- a) $4 \times \underline{\quad} = 16$
- b) $3 \times \underline{\quad} = 21$
- c) $\underline{\quad} \times 9 = 18$
- d) $\underline{\quad} \times 6 = 30$

4) Add or subtract :

(1x2=2)

a) T 0
 ₹ 2 5
+ ₹ 1 8

b) T 0
 ₹ 9 0
- ₹ 4 6

5) Multiply :



$$\begin{array}{r} \text{a) T O} \\ 12 \\ \times 4 \\ \hline \\ \hline \end{array}$$

$$\begin{array}{r} \text{b) T O} \\ 30 \\ \times 3 \\ \hline \\ \hline \end{array}$$

(1X2=2)

6) Draw pictures to show the given multiplication fact (1)

$$2 \times 5 = 10$$



7) Answer the following :

$$(1\frac{1}{2} \times 2 = 3)$$

a) Anil reads 3 pages in a day. How many pages does he read in 9 days ?

Ans. _____

b) Krishna bought a story book for ₹ 86 and colour pencils for ₹ 54. How much did he spend in all ?

Ans. _____

8) Divya purchased a few items from the shop. Prepare a bill for the items shown below : (4marks)

Toy

₹ 48




Comic book

₹ 25



Greeting card

₹ 15



Sl.No.	Items	Amount (₹)
1.		
2.		
3.		
	Total	



SINDHI HIGH SCHOOL,, K K ROAD BENGALURU-01

Work sheet - 6 (2022-2023)

Subject : II Language kannada



Class: 2, Sec: _____

Date:30- 3 - 2023

Name _____

Roll no: _____

No of Printed sides – 3

Max Marks:20

Time: 1 Hour

Reading time : 8 – 8.10 AM

I ಅರ್ಥ ಬರೆಯಿರಿ.

$\frac{1}{2} \times 2 = 1$

ಅ) ಜಗಿ - _____ ಆ) ಆಜ್ಞೆ - _____

II ವಿರುದ್ಧ ಪದಗಳನ್ನು ಬರೆಯಿರಿ.

$\frac{1}{2} \times 2 = 1$

ಅ) ನಷ್ಟ X _____ ಆ) ಬಿಸಿಲು X _____

III ವಚನ ಬದಲಿಸಿ ಬರೆಯಿರಿ.

$\frac{1}{2} \times 2 = 1$

ಅ) ಕಟ್ಟಿಗೆ - _____ ಆ) ರಾಜ - _____

IV ಲಿಂಗ ಬದಲಿಸಿ ಬರೆಯಿರಿ.

$\frac{1}{2} \times 2 = 1$

ಅ) ಅಜ್ಜ - _____ ಆ) ಸೇವಕಿ - _____

V ಅಂತ್ಯಾಕ್ಷರವನ್ನು ಬಳಸಿ ಎರಡು ಪದ ರಚಿಸಿ.

$\frac{1}{2} \times 2 = 1$

ಅ) ಆಹಾರ - _____ , _____

VI ಬಿಟ್ಟ ಜಾಗವನ್ನು ತುಂಬಿರಿ.

೧. ಏನೂ ತಿನ್ನದೆ _____ ನೋಡುತ ಇದ್ದವು ಮರದಲ್ಲಿ.

೨. ಅಜ್ಜಿಯು ಕೋತಿಗಳಿಗೆ _____ ನೀಡಿದಳು.

1X2 = 2

ii ಅ) ಈ ಪದಗಳನ್ನು ಬಿಡಿಸಿ ಬರೆಯಿರಿ.

೧. ಅಜ್ಜಿಯನ್ನು = _____ + _____

೨. ಖುಷಿಯಿಂದ = _____ + _____

1X1 = 1

ಆ) ಕೊಟ್ಟಿರುವ ಪದಕ್ಕೆ ಸ್ವಂತ ವಾಕ್ಯ ರಚಿಸಿ.

೧. ಕಾಪಾಡು - _____

1X4=4

VIII ಕೆಳಗಿನ ಪ್ರಶ್ನೆಗಳಿಗೆ ಒಂದು ವಾಕ್ಯದಲ್ಲಿ ಉತ್ತರಿಸಿ.

೧. ರಾಜನ ಸೇವಕರು ಎಲ್ಲಿಗೆ ಬಂದರು?

೨. ಮರಿ ಕಪಿ ಏನು ಹೇಳಿತು?

೩. ರಾಜನು ಯಾರ ರಕ್ಷಣೆ ಮಾಡೋಣ ಎಂದನು?

೪. ಮಂಗಳಗಳು ಉಪವಾಸವನ್ನು ಹೇಗೆ ಮುಗಿಸಿದವು ?

IX ಅ) ಕೆಳಗಿನ ಪ್ರಶ್ನೆಗೆ ಎರಡು / ಮೂರು ಪಾಠ್ಯಗಳಲ್ಲಿ ಉತ್ತರಿಸಿ.

2X1=2

೧. ರಾಜನ ಸೇವಕನು ಅಭಿಯನ್ನು ಏನೆಂದು ಗೇರಿ ಮಾಡಿದನು?

ಅ) ಈ ಮಾತನ್ನು ಯಾರು, ಯಾರಿಗೆ ಹೇಳಿದರು?

2X1=2


೧. "ಈ ಮರವನ್ನು ಯಾರೂ ಕಡಿಯುವಂತಿಲ್ಲ"

X ಕೊಟ್ಟಿರುವ ಯಾವುದಾದರೂ ಒಂದು ವಿಷಯಕ್ಕೆ 2 ಪಾಠ್ಯಗಳಲ್ಲಿ ಬರೆಯಿರಿ.

2X1=2

೧. ಹಸು

೨. ನಾಯಿ



SINDHI HIGH SCHOOL, K.K. ROAD BENGALURU - 01

ADDITIONAL LANGUAGE HINDI (2022-23)

WORKSHEET - 6

CLASS: 2 A B C

DATE: 31.3.2023

Name : _____ Roll no - _____

TIME : 1hr

MARKS:20

No of printed sides- 3

। दिए गए गद्यांश को पढ़कर सही उत्तर पर (✓) का निशान लगाओ :- (5)

एक बार एक शेर किसी प्रकार पिंजरे में बंद हो गया था। पिंजरे से बाहर निकलने का वह उपाय सोचता रहा। तभी वहाँ से एक आदमी गुज़र रहा था। शेर उसे देखते ही उससे विनती करने लगा कि उसे बहुत प्यास लगी है इसलिए उसके पिंजरे का दरवाज़ा खोल दें। आदमी को उस पर तरस आ गया और वह शेर के पिंजरे का दरवाज़ा खोल दिया। जैसे ही दरवाज़ा खुला शेर आदमी पर झपटा। वह बहुत डर गया और गीदड़ से मदद माँगी और उसे पूरी बात बताई। गीदड़ की होशियारी से शेर वापस पिंजरे में बंद हो गया।

1) शेर कहाँ बंद था ?

घर में () स्कूल में () पिंजरे में ()

2) शेर पिंजरे से बाहर क्यों आना चाहता था ?

प्यास लगी थी () भूख लगी थी () घर जाना था ()

3) शेर का पिंजरा किसने खोला था ?

गीदड़ ने () आदमी ने () हाथी ने ()

4) पिंजरे से निकलते ही शेर ने क्या किया ?

आदमी पर झपटा () आदमी को खा गया () पेड़ पर चढ़ गया ()

5) आदमी ने किससे मदद माँगी ?

बंदर से () पुजारी से () गीदड़ से ()

II समान अर्थ वाले शब्द लिखो :- (2)

1) हवा - _____ 2) हरियाली - _____

3) स्वच्छ - _____ 4) बारिश - _____

III दिए गए संयुक्ताक्षर से एक-एक शब्द बनाओ :- (2)

1) न्य - _____ 2) च्च - _____

3) स्त - _____ 4) त्त - _____

IV समान तुक वाले शब्द लिखो :- (2)

1) राजा - _____ 2) रंग - _____

3) आती - _____ 4) प्यारा - _____

V वाक्य बनाओ :- (2)

1) पेड़ - _____

2) महान - _____

VI निम्नलिखित प्रश्नों के उत्तर लिखिए :- (1x5=5)

1) हवा को स्वच्छ कौन बनाता है ?

2) हमारा राष्ट्रीय पुष्प कौन सा है ?

3)तिरंजे में कौन -कौन से रंग हैं ?

4)पेड़ों से हमें क्या मिलता है ?

5)जंगल का राजा कौन है ?

VII चित्र को ध्यान से देखकर उसके बारे में 4 से 5 वाक्य लिखिए :- (2)