



SINDHI HIGH SCHOOL, KK ROAD, BENGALURU- 1.

PERIODIC TEST – 1. (2022-23)

MATHEMATICS.

NAME: -----

DATE: 11 . 07. 2022

CLASS; III STD A / B / C

TIME: 1 HOUR

ROLL NO. ----

MARKS: 30

NO. OF PRINTED SIDES: 3

SECTION – A

Complete the following.

(8)

1. The number name of 909 is -----
2. The predecessor of 1568 is -----.
3. The place value of 8 in 2872 is -----.
4. The face value of 2 in 8271 is -----.
5. The greatest four digit number is -----.
6. The successor of 6019 is -----
7. $6000 + 0 + 90 + 2 =$ -----
8. The digit in the hundreds place of the number 8790 is -----

SECTION – B

(8)

Answer the following.

9. Identify the odd numbers and even numbers in this group.
786 , 281 , 974 , 301.

Odd numbers	Even numbers

10. Draw the following numbers in the abacus.

a. 6478

b. 3078

11. Fill in the missing numbers.

a. 7200 , 7300 , _____ , _____

b. 9315 , 9325 , _____ , _____

12. Write in short form.

a. $6000 + 200 + 30 + 8 =$ _____

b. $7000 + 400 + 10 + 9 =$ _____

SECTION - C

(9)

13. Put the correct sign in the blank. ($<$, $>$, $=$)

a. 7916 _____ 9761

b. 8898 _____ 8988

c. 7355 _____ 5733

14. Add the numbers and find out if the sum is even or odd.

a. $31 + 14 =$ _____

b. $44 + 26 =$ _____

c. $17 + 42 =$ _____

Write the numerals.

- a. Two thousand two hundred seven -----
- b. Four thousand four hundred forty six -----
- c. Nine thousand three hundred eighty eight.-----

Section- D

(5)

16. Form the number which has

- a. 2 in the ones place
- b. 3 in the tens place
- c. 9 in the thousands place
- d. 0 in the hundreds place. Answer: -----
- e. Write the above number in expanded form.

----- + ----- + ----- + -----

f. Arrange in ascending order.

6762 , 6672 , 6927 , 6972

Ans: ----- , ----- , ----- , -----

g. Write the smallest and the greatest four digit number formed using the digits 4, 5, 9, 7

CLASS : 3 , sec _____

DATE : 14-7-2022

NO.of printed sides- 3

Time : 1hour


NAME: _____

Max . Marks : 30

Roll No : _____

I ಕೆಳಗಿನ ಗದ್ಯಭಾಗವನ್ನು ಓದಿ , ಬಹುಆಯ್ಕೆಗಳನ್ನು ಉತ್ತರಿಸಿ .

(1/2*4=2)



ನಾನು ಹಸು. ಬಹಳ ಸಾಧುವಾದ ಪ್ರಾಣಿ . ನಿಮಗೆಲ್ಲಾ ಹಾಲು ಕೊಡುತ್ತೇನೆ. ನನ್ನ ಪುಟ್ಟ ಮಕ್ಕಳೇ ಕರುಗಳು ಮತ್ತು ಎತ್ತುಗಳು. ಎತ್ತುಗಳು ಹೊಲ ಉಳಲು , ಗಾಡಿ ಎಳೆಯಲು ಸಹಾಯ ಮಾಡುತ್ತವೆ. ಆದ್ದರಿಂದ ಜನರು ಮನೆಗಳಲ್ಲಿ ನನ್ನನ್ನು ಸಾಕುತ್ತಾರೆ. ನನಗೆ ಮನೆಯನ್ನು ಕಟ್ಟಿಕೊಡುತ್ತಾರೆ. ಈ ನನ್ನ ಮನೆಯೇ ಹಸುವಿನ ಕೊಟ್ಟಿಗೆ.

1) ಹಸುವಿನ ಮನೆಯನ್ನು _____ ಎನ್ನುವರು .

ಅ) ಗುಹೆ ಆ) ಬಿಲ ಇ) ಗೂಡು ಈ) ಕೊಟ್ಟಿಗೆ

2) _____ ಸಾಧುವಾದ ಪ್ರಾಣಿ .

ಅ) ಸಿಂಹ ಆ) ಹದ್ದು ಇ) ಹಸು ಈ) ಕಾಗೆ

3) _____ ಹೊಲ ಉಳಲು , ಗಾಡಿ ಎಳೆಯಲು ಸಹಾಯ ಮಾಡುತ್ತವೆ.

ಅ) ಕರುಗಳು ಆ) ಎತ್ತುಗಳು ಇ) ಬೆಕ್ಕುಗಳು ಈ) ಇಲಿಗಳು

4) ಹಸುವು _____ ಕೊಡುತ್ತದೆ.

ಅ) ಹಾಲು ಆ) ನೀರು ಇ) ತುಪ್ಪ ಈ) ಕಬ್ಬಿನ ಹಾಲು

II ಸೂಚನೆಯಂತೆ ಉತ್ತರಿಸಿ .

ಅ) ವಿರುದ್ಧ ಪದಗಳನ್ನು ಬರೆಯಿರಿ .

(2)

1) ಒಳಗೆ * _____

2) ಹತ್ತಿರ * _____

ಆ) ವಚನಬದಲಿಸಿ ಬರೆಯಿರಿ .

(2)

1) ಚಿಟ್ಟೆಗಳು = _____

2) ಹುಡುಗ = _____

(2)

ಇ) ಕನ್ನಡದಲ್ಲಿ ಅರ್ಥವನ್ನು ಬರೆಯಿರಿ.

1) ಪೋರಿ = _____

2) ತಟ್ಟನೆ = _____

ಉ) ನಾವು ಶಾಲೆಗೆ ಸಮಯಕ್ಕೆ ಬರಬೇಕು ಸರಿಯಾದ-> ಕೊಟ್ಟಿರುವ ವಾಕ್ಯವನ್ನು ಸರಿಪಡಿಸಿ ಬರೆಯಿರಿ.

(1)

ಊ) ಬಣ್ಣ -> ಈ ಪದಕ್ಕೆ ಸ್ವರ, ವ್ಯಂಜನ ಬಿಡಿಸಿ ಬರೆಯಿರಿ .

(1)

ಋ) ಕೆಳಗಿನ ಪದಗಳಿಗೆ ಪ್ರಾಸಪದಗಳನ್ನು ಬರೆಯಿರಿ.

(1/2*2=1)

1) ಚಿಟ್ಟೆ = _____

2) ಸಿಟ್ಟು = _____

(1/2*8=4)

ಎ) ಬಿಟ್ಟು ಸ್ಥಳ ತುಂಬಿರಿ .

1) ಖಿ _____ ಖಿ _____

2) _____ ಕೂ _____

3) ಗೆ _____ ಗೈ _____

4) ಪೋ _____ ಪಂ _____

ಏ) ಸ್ + ಅ + ಣ್ + ಣ್ + ಅ + ಮ್ + ಅ + ರ್ + ಅ -> ಕೊಟ್ಟಿರುವ ಸ್ವರ , ವ್ಯಂಜನ ಅಕ್ಷರವನ್ನು ಕೂಡಿಸಿ ಬರೆಯಿರಿ.

(1)

III (ಅ) ಕೆಳಗಿನ ಪ್ರಶ್ನೆಗಳಿಗೆ ಒಂದು ವಾಕ್ಯದಲ್ಲಿ ಉತ್ತರಿಸಿ .

(1*4=4)

1) ಮುಟ್ಟಲು ಬಂದರೆ ಚಿಟ್ಟೆ ಏನು ಮಾಡುತ್ತದೆ ?

ಉತ್ತರ: _____

2) ಚಿಟ್ಟೆ ಯಾರಿಗೆ ಗುಟ್ಟನ್ನು ಹೇಳುತ್ತದೆ ?

ಉತ್ತರ: _____

3) ಚಿಟ್ಟೆಗೆ ಏನು ಕೊಡುವೆನೆಂದು ಕವಿ ಹೇಳುವರು ?

ಉತ್ತರ: _____

4) ಚಿಟ್ಟೆ ಪದ್ಯವನ್ನು ಬರೆದ ಕವಿಯ ಹೆಸರೇನು ?

ಉತ್ತರ: _____

(ಆ) ಕೊಟ್ಟಿರುವ ಪದಗಳನ್ನು ಸಜಾತೀಯ ಮತ್ತು ವಿಜಾತೀಯ ಪದಗಳನ್ನಾಗಿ ಬೇರ್ಪಡಿಸಿ (1/2*6=3)

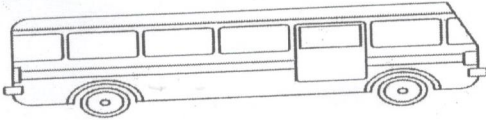

ಉಯ್ಯಾಲೆ , ಶ್ವಾನ , ಆಸ್ಥಾನ , ಸಕ್ಕರೆ , ಶಕ್ತಿ , ತೊಟ್ಟಿಲು

ಸಜಾತೀಯ ಪದಗಳು

ವಿಜಾತೀಯ ಪದಗಳು

IV ಕೆಳಗಿನ ಚಿತ್ರವನ್ನು ಗಮನಿಸಿ, ಹೆಸರಿಸಿ.

(1*4=4)



V ಕೆಳಗೆ ಕೊಟ್ಟಿರುವ ಒತ್ತಕ್ಷರಕ್ಕೆ ಸಂಬಂಧಿಸಿದ ಒಂದು ಪದ ಬರೆಯಿರಿ.

(1*3=3)

ಉದಾಹರಣೆ : ಪ್ರ = ಹಪ್ಪಳ , ಕೊಪ್ಪಳ

1) ಕ್ಷ = _____

2) ಣ್ಣ = _____

3) ಳ್ಳ = _____



SINDHI HIGH SCHOOL, K.K.ROAD BENGALURU -01
PERIODIC TEST 1, 2022-2023

Class: 3 A/B/C
Marks: 30
No. of printed sides: 3

Subject: HINDI
Time : hours
Date: 12/7/2022

1. दिए गए गद्यांश को पढ़कर प्रश्नों के सही उत्तर चुनिए :

1x5=5

एक था बंदर | उसका नाम था बबुआ | वह बड़ा नटखट था | सारा दिन शरारतें ही करता रहता था | वह पेड़ों के फल तोड़कर इधर -उधर फेंकता | एक दिन सड़क पर बबुआ को एक थैला मिला | थैले में एक आईना था | आईने में उसे एक बंदर दिखा | वह घबरा गया |

१. बंदर का नाम क्या था ?

बबलू / बबुआ / बूबआ

२. बबुआ कैसा था ?

सुंदर / नटखट / अच्छा

३. बबुआ सारा दिन क्या करता था ?

शरारतें / पढ़ाई / काम

४. बबुआ को एक दिन क्या मिला?

फल / थैला / शेर

५. थैले में एक क्या था?

आईना / किताब / मोबाइल

2] पर्यायवाची शब्द लिखिए :

1/2x4=2

1. पेड़ - _____

3. दीप - _____

2. लक्ष्य - _____

4. छोटा - _____

3] विलोम शब्द लिखिए :

1/2x4=2

1. अपना x _____

3. मीठा x _____

2. अंधकार x _____

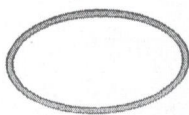
4. अच्छा x _____

4] दिए गए चित्र में रंग भरिए :

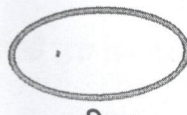
1/2x4=2



गुलाबी



हरा




नीला



पीला

5] दिए गए पशु को पहचान कर नाम लिखिए:

1/2x4=2



6] लिंग बदलकर लिखिए :

1/2x4=2

1. माता - _____

2. भाई - _____

3. दादा - _____

4. लड़का - _____

7] वचन बदलकर लिखिए :

1/2x4=2

1. केला - _____

2. ताला - _____

3. बेटा - _____

4. चूहा - _____

8] सही उत्तर चुनिए :

1x4=4

1. नन्हा बीज बोने पर क्या बन जाता है ?

पेड़ / फूल / पत्ती

2. मीठे बोल बोलने से क्या बढ़ता है ?

उजाला / हरियाली / अपनापन

3. महल खड़ा करने के लिए एक के ऊपर एक क्या रखना होगा ?

मिट्टी / ईंटे / किताबें

4. बिना रुके चलते जाने से क्या मिलेगा ?

स्कूल / लक्ष्य / मकान

9] नीचे दिए गए प्रश्नों के उत्तर लिखिए :

2x3=6

1. लक्ष्य की प्राप्ति के लिए क्या करना चाहिए ?

2. देश को बड़ा बनाने के लिए क्या करना चाहिए ?

3. एक छोटा सा बीज बड़ा सा पेड़ कैसे बन जाता है ?

10] भारत का झंडा बनाकर रंग भरिए।



SINDHI HIGH SCHOOL
PERIODIC TEST 1 - (2022-23)
SUBJECT : ENGLISH

Name: _____

Roll No: _____

Date: 15/7/2

Marks: 30

Class 3 Section----

Number of printed sides: 4

Time: 1Hr

General Instructions:

This paper contains three sections

Section A-- Reading- 5 M

Section B- Writing & Grammar-10M

Section C-Literature-15 M

All Sections are Compulsory

Section A –Reading (5 Marks)

Read the following passage

- 1) Hardik lives in a big city. He is a tailor and a very poor man. So he is not able to get enough food for his family. He has a wife and a small son. His son, Anil is very naughty and a lazy boy. He never listens or obeys his parents and always plays with other naughty boys.
- 2) One day his father takes him to a school. There he sees many children who obey their teachers. and were learning many good habits in the school. They were also reading and writing well. Anil felt ashamed and started changing himself. His parents are proud of Hardik now.

Choose the correct answers from the given options.

(1x2=2M)

1) Hardik lives in a

- a) Small city b) village c) in a town d) big city

2) Hardik is a

- a) rich man b) poor man c) he is a small boy d) big boy

ANSWER THE FOLLOWING:

(1X2=2M)

1) What kind of a boy was Anil?

2) Who stitches clothes?

3) **Find the opposites of the given words from the passage:**

(1/2*2=1M)

i) disobey X _____ (PARA- 1) ii) bad X _____ (PARA-2)

Section -B Writing & Grammar(10 Marks)

With the help of the given picture of an "Apple Fruit". Write a paragraph. (5M)



3. Identify the types of the underlined nouns in the following sentences : (1/2*4=2m)

It was a Sunny day. Mom and dad took my younger sister to the park. There were swings, ice -cream on carts and many people. The balloon man had a bunch of balloons. He gave my sister a balloon which looked like Spider-Man.

a) _____

b) _____

c) _____

d) _____

4. Rewrite the given sentences below by inserting correct punctuations: (1x3=3M)

a) Where do they live

b) i am a sweet child

c) Yummy the chocolate is so tasty

Section C- Literature(15m)

5) Read the following extracts and tick the correct answers from the following (1X4=4M)

options :

"Go my dear and see how your grandmamma does".

i) Who said the above words?

(a) Gaffer Wolf (b) little bird (c) small kid (d) Red Riding Hood's mother.

ii) Identify the lesson from which the extract is taken.

(a) Little girl (b) Little Red Riding Hood (c) Little Bird (d) Cinderella

iii) Where does the speaker's mother stay?

(a) beyond a mill in the vi!lage (b) in the city (c) in the town (d) in the school

iv) Who is "Dear", in the above lines.

(a) Red Riding Hood (b) Gaffer Wolf, (c) Little Bird (d) Mother

6) Answer the following in 30-40 words:

(2x3=6M)

a) Where was the little bird sitting and singing"?

b) Where did Little Red Riding Hood meet Gaffer Wolf and what did he ask her?

c) In the poem "A Little Bird I Am", Who bends to hear the bird sing?

7) Write a paragraph on "Little Red Riding Hood".

(5M)



SINDHI HIGH SCHOOL K.K. ROAD BENGALURU

PERIODIC TEST -1 (2022-23)

SUBJECT: EVS

Name: _____

Class: III A/ B/ C

Roll no: _____

Date: 13/7/2022

Marks: 30

Time: 1 hr

No of sides printed:3

QI. Choose the correct option :

(4*1/2=2)

1. We have _____ sense organs.

a) 2 b) 3 c) 5 d) 9.

2. A _____ repairs leaking taps.

a) plumber b) carpenter c) teacher d) social worker

3. People placed in one line of the family tree make up a _____.

a) family b) group c) collection d) generation

4. There are _____ alphabets in Siroli.

a) 52 b) 10 c) 3 d) 42

QII. Name the following :

(1*4=4)

1. Person who developed the script for blind people _____.

2. People do work to earn money is called _____.

3. Family with one parent _____.

4. Our family is our _____.

QIII. Analogy:

(4*1=4)

1. Eyes: see :: Ears : _____

2. Nuclear family : _____ :: joint family: big family .

3. Old people : love and care :: _____ : hearing aid.

4. Greengrocer : vegetables :: milkman : _____.

(2*2=4)

V. Answer the following :

1. Who are physically challenged people?

Q2. Who are foster parents?

A2. _____

Q3. Who are community helpers?

A3. _____

QV. Write any 2 ways of helping working children. (2)

QVI. Difference between twins and triplets: (2)

Twins	Triplets

QVII. Give one word:

1. Children who belong to very poor family are forced to work to fulfil their family needs are called _____

2. Features passed from one generation to another is called _____.

(3*1=3)

3. Old age day is celebrated on _____

(3*1=3)

QVIII. Who am I?

1. I repair vehicles _____.
2. I catch thieves _____.
3. I take care of sick _____.

(2*2=4)

QIX. Identify the person state its achievement:

1)



Name : _____
Achievement : _____

2)



Name: _____
Achievement : _____

QX. Draw any 4 sense organs :

(2)

All the best