



SINDHI HIGH SCHOOL BENGALURU
HALF YEARLY EXAMINATION 2022-23
Subject: English

Class: IV

No.of sides printed: 6

Reading time: 15 min

General Instructions:

Date: 23/ 09/ 2022

Max.Marks: 80

Writing Time: 2hrs 30 min

• *This paper contains three sections:*

- *Section A- Reading- 20 marks*
- *Section B- Writing & Grammar- 30 marks*
- *Section C- Literature - 30 marks*

• *The intended marks for each question are given in brackets* • *Attempt all questions*

Section A: Reading

I. Read the following passage and answer the questions that follow:

1. Once upon a time there lived Kambugriva (shell-neck), the tortoise, in a pond. He became friends with two geese. Their names were Sankata (small) and Vikata (large). The three friends were very fond of one another. Sankata and Vikata came to visit Kambugriva every day. They used to chat about lots of things and tell stories to one another. Sankata and Vikata used to return to their nests in the evening after sunset.

2. One day during summer, they noticed that the pond was drying up. There was very little water in the pond since there had been no rainfall that year. Sankata and Vikata thought, 'It will be very difficult for Kambugriva to live in a pond without water.' Concerned about their friend's situation, they said to him, 'Alas, friend! How will you live in this pond without water? We feel very sorry for you. What will you do?' In answer to their question the tortoise sadly answered, 'It is impossible for me to live in a pond without water. There is no other pond nearby. What will I do?' 'Don't worry. We have seen a pond, not too far from here. We can take you there. We'll fetch a thick stick. While we grasp the stick with our beaks you can hold it in your mouth and we can carry you to the other pond. But remember, whatever happens you must not talk,' his friends told him.

3. As planned, the three friends started their flight to the other pond. Some boys in the playground watched the three friends flying. Seeing this unusual sight they shouted, 'We'll eat the tortoise when it falls.' Hearing this, Kambugriva became very annoyed and opened his mouth to reply, 'You'll not get me.' As soon as he opened his mouth to reply, he fell from such a great height that he died.

I A. Choose the correct option:

1. Kambugriva was a:

- a. Tortoise
- b. Turtle
- c. Goose
- d. Boy

2. Sankata means:

- a. Large
- b. Small
- c. Shell neck
- d. Pond

3. The two geese would return to their _____ in the evening.

- a. Pond
- b. Lake
- c. Nest
- d. Hill

4. Which of the following words in the passage means the same as: talk

- a. Nearby
- b. Grasp
- c. Rainfall
- d. Chat

5. The two geese decided to carry Kambugriva with a _____.

- a. Rope
- b. Net
- c. Stick
- d. Thread

6. Kambugriva lived in a _____.

- a. Lake
- b. Pond
- c. River
- d. Stream

7. Which of the given words is the opposite of- 'enemies'?

- a. Children
- b. Friends
- c. Grasp
- d. Sight

8. Kambugriva was annoyed because :

- a. His friends made fun of him
- b. The stick was slippery
- c. The boys made fun of him
- d. They could not find any other pond.

7. The boys thought that the flying tortoise was:

- a. Tragic
- b. Ordinary
- c. Unusual
- d. Sad

10. The tortoise died because of his _____.

- a. Happiness
- b. Friendship
- c. Sadness
- d. Foolishness

II. Read the following passage and answer the questions that follow:

1. Bees are insects, Bees are special insects because they can fly! They can move through the air like an aeroplane. Bees can fly because they have wings. They use their wings to fly. Bees can also fly slow. They can fly up and they can fly down. They need to fly to get to the flowers!

2. Bees can have three colours. They can be yellow, red and orange. All bees are black in some places.

3. Bees have three main parts. They have a head. They have a body. And they have a stinger. Bees use the stinger to defend themselves against enemies. They also have six legs. They use their legs to stand and climb. They also use their legs to eat and collect pollen.

4. Bees live in many places. Bees can be found in Africa, Asia, Europe, North America, South America. The only continent that bees do not live on is Antarctica! It's too cold! Most of the time, bees are nice to humans. If you do not bother them, they do not bother you.

II A. Answer the following questions based on the above passage.

(1x5=5)

- 1. What are bees?
- 2. Name any two places where bees live.
- 3. How many legs do bees have?
- 4. Why do bees need to fly?
- 5. Why don't bees live in Antarctica?

II B. Complete the following statements:

(1x5=5)

- 1. Bees have _____ main parts
- 2. All Bees are _____ in some places.
- 3. Bees use the stinger to _____.
- 4. Bees are special insects because _____.
- 5. If you do not bother them, _____.


Section B- Writing and Grammar

III A. Write a paragraph in about 100-120 words on any one of the following topics: (6)

A. My Birthday Party

B. How I spent an interesting Weekend

III B. Study the pictures given below. Write a short story based on what the pictures suggest to you. You may take ideas from the given pictures and/or add details to make the story more interesting. 'ACCIDENT IN THE CANTEEN' (6)



join

embarrassed

noodles

fall down

lunch

grateful

slippery

help

III C. Complete the given story with the help of the given outline. Give a suitable title to the story. (6)

(refused, goddess, silver, river, golden, woodcutter)

The Honest Woodcutter

A poor woodcutter's axe slipped and fell into a _____. The river _____ heard him cry and wanted to help him. She dived into the river and brought a _____ axe for him. The honest _____ did not take the axe. The goddess again went down into the river and brought up a _____ axe, the honest woodcutter _____ to accept the silver axe too. The goddess was very pleased and gave him his own axe as well as the gold and silver axes.

IV A. Fill in the blanks with suitable pronouns from those given in brackets: (1x4=4)

[We, our, he, I]

Good neighbours are a blessing. They are more than a relative to us. _____ relatives, living far off, may not be in a position to help us in our troubles and sorrows, but good neighbours can. _____ have such a helpful neighbour. _____ is a kind-hearted man. _____ are not just neighbours, but good friends too.

IV B. Fill in the blanks with *a*, *an* or *the* wherever necessary. (4)

Our parents bought _____ new house last month. _____ house has four bedrooms, a huge garden in the front and _____ pool. But my favourite part of the house is my own room. It has a beautiful balcony with _____ amazing view.

IV C. Complete the following passage by choosing appropriate adjectives from those given in brackets. (4)

Once upon a time in a _____ (faraway/further) land, there lived a _____ (sweet/strange) little princess. She lived with her stepmother and her _____ (two/one) stepsisters. The stepsisters were jealous of her because she was _____ (beautiful/more beautiful) than them.

Section C- Literature

V A. Read the given extract and answer the questions that follow: (1x3=3)

A stage below, in gay accord,
White butterflies danced in the wing,
And still the singing Skylark soared
And silent sank, and soared to sing.

1. Name the poem and the poet from which the above lines are extracted.
2. What does the poet mean by 'stage below' in the above lines?
3. What were the butterflies doing?

(2x5=10)

V B. Answer in a sentence or two:

1. Why did Mary decide to take up boxing?
2. What important things did Robinson Crusoe write in his journal?
3. What did the man-cub do when Father Wolf placed him between the cubs?
4. Why was Rama convinced with Hanumana?
5. Who among the three friends had the most knowledge about the creek and crocodiles? Why?

(3x3=9)

V C. Answer in three or four sentences:

1. Learning about the seasons was important for Robinson Crusoe. Why?
2. What was Chitra's technique for locating crocodiles?
3. Why did the poetess pause while taking a walk in the cornfield? Who else was there in the cornfield apart from her?

(4x2=8)

V D. Answer in a paragraph.

1. Write about the hardships that Mary faced as a child and how she overcame them.
2. Write the character sketch of any one of the following:
 - A. Hanumana
 - B. Tabaqui



SINDHI HIGH SCHOOL, BANGALORE
HALF YEARLY EXAMINATION (2022-23)
Subject – L2 Kannada

Class: IV
Date: 20/09/2022
Number of printed sides: 9

Max.Marks: 80
Reading Time: 8:00 to 8:15 am
Writing Time: 8:15 to 10:45 am

ಸೂಚನೆಗಳು:

- ಪತ್ರಿಕೆಯು ಎ ಮತ್ತು ಬಿ ಎಂಬ ಎರಡು ಭಾಗಗಳನ್ನು ಒಳಗೊಂಡಿರುತ್ತವೆ.
- ಪ್ರಶ್ನೆ ಪತ್ರಿಕೆಯಲ್ಲಿ ಒಟ್ಟು 12 ಮುಖ್ಯ ಪ್ರಶ್ನೆಗಳು ಇರುತ್ತವೆ.
- ಪ್ರತಿಯೊಂದು ಪ್ರಶ್ನೆಗಳ ಸೂಚನೆಗಳು ಸರಿಯಾಗಿ ಓದಿಕೊಂಡು ಉತ್ತರಿಸಿ.
- ಪ್ರಶ್ನೆ ಮತ್ತು ಉಪ ಪ್ರಶ್ನೆಗಳ ಸಂಖ್ಯೆಯನ್ನು ತಪ್ಪಿಲ್ಲದೆ ಬರೆಯಿರಿ .

ಭಾಗ-A ವಾಚನ ಮತ್ತು ಗ್ರಹಿಕಾ ಕೌಶಲ್ಯ	10 ಅಂಕಗಳು
ಅನ್ವಯಿಕ ವ್ಯಾಕರಣ	16 ಅಂಕಗಳು
ಬಹು ಆಯ್ಕೆ ಪ್ರಶ್ನೆ ಪಠ್ಯಗಳ ಅಧ್ಯಯನ	4 ಅಂಕಗಳು
ಪರಿತ ಗದ್ಯಭಾಗ ಪರಿತ ಪದ್ಯ	10 ಅಂಕಗಳು
ಭಾಗ B	
ಬರವಣಿಗೆ ಕೌಶಲ್ಯ	12 ಅಂಕಗಳು
ಪಠ್ಯಗಳ ಅಧ್ಯಯನ	28 ಅಂಕಗಳು
ಒಟ್ಟು	80 ಅಂಕಗಳು

ವಿಭಾಗ-A

1.(ಅ) ಕೊಟ್ಟಿರುವ ಗದ್ಯಾಂಶವನ್ನು ಓದಿಕೊಂಡು ಅದರ ಕೆಳಗೆ ಕೊಟ್ಟಿರುವ ಪ್ರಶ್ನೆಗಳಿಗೆ ಉತ್ತರ ಬರೆಯಿರಿ. 1x5=5

ಒಂದು ದಿನ ತೋಳ ನೀರಿನಲ್ಲಿ ತನ್ನ ಮುಖವನ್ನು ನೋಡಿ "ಆಹಾ ನನ್ನಷ್ಟು ರೂಪವಂತರೇ ಇಲ್ಲ" ಎಂದು ಜಂಭ ಪಡುತ್ತಿದ್ದಾಗ ಕಾಲು ಜಾರಿ, ತೋಳ ಬಾವಿ ಒಳಗೆ ಬಿದ್ದು ಹೋಯಿತು .ತೋಳ ನೀರಿನಿಂದ ಹೊರ ಬರುವುದು ಹೇಗೆ ? ಎಂದು ಚಿಂತಿಸುವಾಗ

ಅದೇ ದಾರಿಯಲ್ಲಿ ಒಂದು ಮೇಕೆ ಹೋಗುತ್ತಿತ್ತು, ಅದು ಬಾವಿಯಲ್ಲಿದ್ದ ತೋಳವನೋಡಿ ಏನು ಮಾಡುತ್ತಿದ್ದೀಯಾ ? ಎಂದು ಕೇಳಿತು. ಇನ್ನು ಸ್ವಲ್ಪ ದಿನದಲ್ಲಿ ನೀರಿನ ಬರಗಾಲ ಬರುತ್ತದಂತೆ ಅದಕ್ಕಾಗಿ ತುಂಬಾ ನೀರನ್ನು ಕುಡಿಯುತ್ತಿದ್ದೇನೆ ಎಂದು ಹೇಳಿತು. ಮೇಕೆ ಯೋಚಿಸದೆ ಬಾವಿಯೊಳಗೆ ಧುಮುಕಿತು. ತೋಳ ತಕ್ಷಣವೇ ಮೇಕೆಯ ಬೆನ್ನ ಮೇಲೆ ಹತ್ತಿ ಹೊರಗೆ ಜಿಗಿಯಿತು. ಮೇಲೆ ನಿಂತ ತೋಳ ಮೇಕೆಯ ನಿನಗೆ ಬೇಕೆನಿಸಿದಷ್ಟು ನೀರನ್ನು ಕುಡಿ ಎಂದು ಹೇಳಿ ಓಡಿಹೋಯಿತು.

ಪ್ರಶ್ನೆಗಳು

- 1) ಕಾಲು ಜಾರಿ ತೋಳ _____ ಬಿದ್ದು ಹೋಯಿತು.
 - 1) ನದಿಯೊಳಗೆ
 - 2) ಬಾವಿಯೊಳಗೆ
 - 3) ಕೆರೆಯೊಳಗೆ
 - 4) ಸಮುದ್ರದೊಳಗೆ
- 2) ಆಹಾ ನನ್ನಷ್ಟು _____ ಇಲ್ಲ.
 - 1) ರೂಪವಂತರು
 - 2) ಗುಣವಂತರು
 - 3) ಬುದ್ಧಿವಂತರು
 - 4) ಹಣವಂತರು
- 3) ಇನ್ನು ಸ್ವಲ್ಪ ದಿನದಲ್ಲಿ ನೀರಿನ _____ ಬರುತ್ತದಂತೆ.
 - 1) ಬರಗಾಲ
 - 2) ಕಾಲ
 - 3) ಕ್ಷಾಮ
 - 4) ಅಭಾವ
- 4) ನಮಸ್ಕಾರ ಮೇಕೆಯ ನಿನಗೆ ಬೇಕೆನಿಸಿದಷ್ಟು _____ ಕುಡಿ.
 - 1) ಹಾಲು
 - 2) ಮೊಸರು
 - 3) ನೀರು
 - 4) ರಸ
- 5) ತೋಳ ತಕ್ಷಣವೇ ಮೇಕೆಯ _____ ಮೇಲೆ ಹತ್ತಿ ಹೊರಗೆ ಜಿಗಿಯಿತು.
 - 1) ಬೆನ್ನ
 - 2) ಕಾಲಿನ
 - 3) ಹೊಟ್ಟೆಯ
 - 4) ತಲೆಯ

ಆ) ಕೊಟ್ಟಿರುವ ಗದ್ಯಭಾಗವನ್ನು ಓದಿಕೊಂಡು ಅದರ ಕೆಳಗೆ ಕೊಟ್ಟಿರುವ

ಪ್ರಶ್ನೆಗಳಿಗೆ ಉತ್ತರ ಬರೆಯಿರಿ.

1x5=5

ಲಾಲ್ ಬಹುದೂರ್ ಶಾಸ್ತ್ರಿಗಳು 1904 ಅಕ್ಟೋಬರ್ 2ರಂದು ವಾರಣಾಸಿ ಹತ್ತಿರದ ಮೊಗಲ್ ಸರಾಯಿಯಲ್ಲಿ ಶಾರದಾ ಪ್ರಸಾದ ರಾಮದುಲಾರಿ ದೇವಿಯರ ಮಗನಾಗಿ ಜನಿಸಿದರು. ಒಂದೂವರೆ ವರ್ಷದ ಮಗುವಾಗಿದ್ದಾಗಲೇ ತಂದೆ ತೀರಿಕೊಂಡರು. ತಾಯಿಯ ಆರೈಕೆಯಲ್ಲಿ ಅಜ್ಜನ ಮನೆಯಲ್ಲಿ ಬೆಳೆದರು. ವಿದ್ಯಾರ್ಥಿಯಾಗಿದ್ದಾಗ ಸ್ನೇಹಿತರೊಂದಿಗೆ ಜಾತ್ರೆಗೆ ಹೋಗಿದ್ದರು. ಹಿಂತಿರುಗಿ ಬರುವಾಗ ದೋಣಿ ನಡೆಸುವವನಿಗೆ ಕೊಡಲು ಹಣವಿರಲಿಲ್ಲ. ಗೆಲೆಯರನ್ನು ಕೇಳಲು ಮನಸಿರಲಿಲ್ಲ. ತುಂಬಿ ಹರಿಯುತ್ತಿದ್ದ ಗಂಗಾ ನದಿಯಲ್ಲಿ ಧುಮುಕಿ ಈಜಿ ಮನೆ ಸೇರಿದರು. ಜೀವನದ ಕೊನೆಯುಸಿರುವವರೆಗೂ ಯಾರ ಬಳಿಯೂ ಬೇಡಲಿಲ್ಲ. ಇವರು ಭಾರತದ ಪ್ರಧಾನಮಂತ್ರಿಯೂ ಆಗಿದ್ದರು.

1) ಲಾಲ್ ಬಹದ್ದೂರ್ ಶಾಸ್ತ್ರಿಗಳು ಜನಿಸಿದ್ದು_____.

- 1) 1904 2) 1908 3) 1910 4) 1903

2) ಶಾಸ್ತ್ರಿ ಅವರು ಭಾರತದ _____ ಯೂ ಆಗಿದ್ದರು.

- 1) ಮಂತ್ರಿ 2) ಪ್ರಧಾನಿ 3) ಸಚಿವ 4) ಪಿತಾಮಹಾ

3) ಶಾಸ್ತ್ರಿ ಅವರು _____ ನದಿಯಲ್ಲಿ ಧುಮುಕಿ ಮನೆ ಸೇರಿದರು.

- 1) ಯಮುನಾ 2) ಕಾವೇರಿ 3) ಗಂಗಾ 4) ಕೃಷ್ಣಾ

4) ಲಾಲ್ ಬಹದ್ದೂರ್ ಶಾಸ್ತ್ರಿ ಅವರು ತಾಯಿಯ ಆರೈಕೆಯಲ್ಲಿ _____ ಮನೆಯಲ್ಲಿ ಬೆಳೆದರು.

- 1) ಮಾವನ 2) ಅಜ್ಜನ 3) ಅತ್ತೆಯ 4) ನೆಂಟರ

5) ಅವರ ಬಳಿ ದೋಣಿ ನಡೆಸುವವನಿಗೆ ಕೊಡಲು _____ ಇರಲಿಲ್ಲ.

- 1) ಹಣ 2) ಚಿನ್ನ 3) ಊಟ 4) ಬಟ್ಟೆ

ಅನ್ವಯಿಕ ವ್ಯಾಕರಣ

II. ಕೆಳಗಿನ ಪ್ರಶ್ನೆಗಳಿಗೆ ನಾಲ್ಕು ಉತ್ತರಗಳನ್ನು ಕೊಡಲಾಗಿದೆ ಸರಿಯಾದ ಉತ್ತರವನ್ನು ಆರಿಸಿ ಬರೆಯಿರಿ 1X16=16

1) 'ಜಗಳ' - ಪದದ ಸಮಾನಾರ್ಥಕ ಪದ _____

- 1) ಹೆಚ್ಚು 2) ತಿನಿಸು 3) ಜೇಬು 4) ಕಿತ್ತಾಟ

2) ನಾಮಪದದಲ್ಲಿರುವ ವಿಧಗಳು _____.

- 1) ಆರು ೨) ಎರಡು ೩) ನಾಲ್ಕು ೪) ಮೂರು

3) 'ನಂಬಿಕೆ' - ಪದದ ವಿರುದ್ಧ ಪದ _____

- 1) ಅನಾನುಕೂಲ 2) ಕೋಪ 3) ಅಪನಂಬಿಕೆ 4) ಖುಷಿ

4) ಬಕಾಸುರ ಬಂಡಿಯಲ್ಲಿದ್ದ ಊಟವನ್ನೆಲ್ಲ ತಿಂದನು. ಈ ವಾಕ್ಯದಲ್ಲಿರುವ ಕ್ರಿಯಾಪದ :

- 1) ತಿಂದನು 2) ಬಕಾಸುರನು 3) ಬಂಡಿ 4) ಊಟವನ್ನೆಲ್ಲ

5) ಸುರೇಶನು ತನ್ನ ಕಿವುಡ ತಮ್ಮನ ಜೊತೆಗೆ ಶಾಲೆಗೆ ಹೋದನು. ಈ ವಾಕ್ಯದಲ್ಲಿರುವ ಅನ್ವರ್ಥನಾಮ :

- 1) ಸುರೇಶ 2) ಕಿವುಡ 3) ಶಾಲೆ 4) ಹೋದನು

6) 'ಶಿಕ್ಷಕ' - ಪದದ ಸ್ತ್ರೀ ಲಿಂಗ ರೂಪ _____

- 1) ಶಿಕ್ಷಕಿಯರು 2) ಶಿಕ್ಷಕರು 3) ಶಿಕ್ಷಕಿ 4) ಶಿಕ್ಷಕರಿಗೆ

7) ಮಹೇಶನು ಓಟದ ಸ್ಪರ್ಧೆಯಲ್ಲಿ ಗೆದ್ದನು. ಈ ವಾಕ್ಯದಲ್ಲಿರುವ ಅಂಕಿತನಾಮ :

- 1) ಗೆದ್ದನು 2) ಓಟದ 3) ಸ್ಪರ್ಧೆ 4) ಮಹೇಶ

8) 'ಆಡು' ಪದದ ನಾನಾರ್ಥಕ ಪದ :

- 1) ಪರದೆ- ತೆಗೆ 2) ಕೆರೆ-ಮಿನುಗು
3) ಮೇಕೆ- ಆಟ ಆಡು 4) ತೊರೆ -ಬಿಡು

9) 'ಏನು+ ಉಂಟು' - ಕೂಡಿಸಿ ಬರೆದಾಗ:

- 1) ಏನೆಂಟು 2) ಏನೂಂಟು 3) ಏನುಂಟು 4) ಏನು ಉಂಟು

10) ಭಾರತ ದೇಶದಲ್ಲಿ ಅನೇಕ ನದಿಗಳು ಹರಿಯುತ್ತವೆ. ಈ ವಾಕ್ಯದಲ್ಲಿರುವ ರೂಢನಾಮ:

- 1) ನದಿಗಳು 2) ಭಾರತ 3) ಹರಿಯುತ್ತವೆ 4) ಅನೇಕ

11) 'ಒಲಗೆ' ಪದದ ಶುದ್ಧ ರೂಪ:

- 1) ಒಳಗೆ 2) ಒಲಗ 3) ಹೊಲಗೆ 4) ಓಲಗೆ

12) ಹಾಸಿಗೆ ಇದ್ದಷ್ಟು _____ ಈ ಗಾದೆಯ ಮುಂದಿನ ಪದ:

- 1) ಕೈ ಚಾಚು 2) ಕಾಲು ಚಾಚು 3) ತಲೆ ಚಾಚು 4) ಬೆರಳು ಚಾಚು

13) ಮಕ್ಕಳು ಮೈದಾನದಲ್ಲಿ ಸಂತೋಷದಿಂದ ಆಡುತ್ತಿದ್ದರು.

ಈ ವಾಕ್ಯದಲ್ಲಿರುವ ಕರ್ತೃಪದ :

- 1) ಮಕ್ಕಳು 2) ಮೈದಾನದಲ್ಲಿ 3) ಸಂತೋಷದಿಂದ 4) ಆಡುತ್ತಿದ್ದರು

14) ನರೇಂದ್ರ ಮೋದಿಯವರು ಭಾರತದ ಪ್ರಧಾನ ಮಂತ್ರಿ. ಈ ವಾಕ್ಯದಲ್ಲಿರುವ

ಲೇಖನ ಚಿಹ್ನೆ:

- 1) ಅಲ್ಪ ವಿರಾಮ 2) ಪೂರ್ಣ ವಿರಾಮ
3) ಆಶ್ಚರ್ಯ ಸೂಚಕ 4) ಪ್ರಶ್ನಾರ್ಥಕ

15) ಕೆಳಗೆ ಕೊಟ್ಟಿರುವ ವಾಕ್ಯಗಳಲ್ಲಿ ಸರಿಯಾದ ವಾಕ್ಯ:

- 1) ಮೇಲೆ ವಾಹನಗಳು ಚಲಿಸುತ್ತವೆ ರಸ್ತೆಯ
2) ರಸ್ತೆಯ ಮೇಲೆ ವಾಹನಗಳು ಚಲಿಸುತ್ತವೆ
3) ಚಲಿಸುತ್ತವೆ ಮೇಲೆ ರಸ್ತೆಯ ವಾಹನಗಳು
4) ವಾಹನಗಳು ಮೇಲೆ ಚಲಿಸುತ್ತವೆ ರಸ್ತೆಯ

16) ರೈತರು ಹೊಲಗದ್ದೆಗಳಲ್ಲಿ ಕೆಲಸ ಮಾಡುತ್ತಾರೆ. ಈ ವಾಕ್ಯದಲ್ಲಿರುವ ಕರ್ಮಪದ:

- 1) ರೈತರು 2) ಹೊಲಗದ್ದೆಗಳಲ್ಲಿ 3) ಕೆಲಸ 4) ಮಾಡುತ್ತಾರೆ

III. ಕೆಳಗಿನ ಪ್ರಶ್ನೆಗಳಿಗೆ ನಾಲ್ಕು ಉತ್ತರಗಳನ್ನು ಕೊಡಲಾಗಿದೆ ಅವುಗಳಲ್ಲಿ

(1X4=4)

ಸರಿಯಾದ ಉತ್ತರವನ್ನು ಆರಿಸಿ ಬರೆಯಿರಿ

1) ಥಳಥಳ ಹೊಳೆಯುವ _____ ನಾಡು.

- 1) ಕಾಡುಗಳ 2) ಗಣಿಗಳ 3) ಬೀಡುಗಳ 4) ತೋಟಗಳ

2) ಮಕ್ಕಳ ಕೆಲಸವನ್ನು ನಗರಸಭೆಯ _____ ಮೆಚ್ಚಿ ಹೊಗಳಿದರು.

- 1) ಮಂತ್ರಿಗಳು 2) ಶಿಕ್ಷಕರು 3) ಅಧ್ಯಕ್ಷರು 4) ರಾಷ್ಟ್ರಪತಿಗಳು

3) ಎಲ್ಲರೂ _____ ತಂದು ಮೈದಾನದಲ್ಲಿ ಬಿಸಾಡುತ್ತಿದ್ದರು.

- 1) ಕಸವನ್ನು 2) ನೀರನ್ನು 3) ಹಣ್ಣುಗಳನ್ನು 4) ಊಟವನ್ನು

4) ಅಂದದ ಚಂದದ _____ ಗೂಡು.

- 1) ಸುಂದರ 2) ಕವಿಗಳ 3) ಋಷಿಗಳ 4) ಗಂಧದ

IV. (ಅ) ಕೆಳಗೆ ಕೊಟ್ಟಿರುವ ಪಠ್ಯದಲ್ಲಿನ 'ಜೀವದಯೆ' ಗದ್ಯವನ್ನು ಓದಿಕೊಂಡು

(1X5=5)

ಪ್ರಶ್ನೆಗಳಿಗೆ ಉತ್ತರಿಸಿ.

ರಂಗ ಮತ್ತು ಸಾಧಿಕ್ ಜೀವದ ಗೆಳೆಯರು. ಅವರಿಬ್ಬರ ಆಸಕ್ತಿ ಅಭಿರುಚಿಗಳು ಒಂದೇ ಆಗಿದ್ದವು. ದಿನಾಲು ಸೈಕಲ್ ಸವಾರಿ ಮಾಡುತ್ತಾ ಶಾಲೆಗೆ ಹೋಗುವುದೆಂದರೆ ಅವರಿಗೆ ಎಲ್ಲಿಲ್ಲದ ಖುಷಿ. ಅವರು ಶಾಲೆಗೆ ಹೋಗುವ ದಾರಿಯಲ್ಲಿ ಒಂದು ಚಿಕ್ಕ ಕಾಡು. ಆ ಕಾಡಿನಲ್ಲಿ ಒಂದು ನೇರಳೆ ಮರವಿತ್ತು. ನೇರಳೆ ಮರದ ಹಣ್ಣು ತಿನ್ನುವುದೆಂದರೆ ರಂಗ ಮತ್ತು ಸಾಧಿಕರಿಗೆ ತುಂಬಾ ಸಂತೋಷ. ಒಂದು ಶನಿವಾರ ಮಧ್ಯಾಹ್ನ ಶಾಲೆ ಮುಗಿಸಿ ಇಬ್ಬರೂ ನೇರಳೆ ಮರದ ಬುಡಕ್ಕೆ ತಲುಪಿದರು. ಆಗ ಅಲ್ಲಿಯೇ ಒಣ ಕಟ್ಟಿಗೆಗಳನ್ನು ಆರಿಸುತ್ತಿದ್ದ ಅಜ್ಜಿ ಯೊಬ್ಬರು "ಹುಷಾರು ಮಕ್ಕಳೇ ಮರ ಜಾರುತ್ತೆ ಜೋಪಾನ" ಎಂದು ಹೇಳಿದರು. ಅದಕ್ಕೆ ರಂಗ ಸಾಧಿಕ್ "ಆಯ್ತುಜ್ಜಿ ನೀವೇನು ಚಿಂತೆ ಮಾಡಬೇಡಿ" ಎಂದರು. ರಂಗ ಮರ ಹತ್ತಲು ಪ್ರಾರಂಭಿಸಿದನು. ಸಾಧಿಕ್ ನೇರಳೆ ಹಣ್ಣನ್ನು ಕ್ಯಾಚ್ ಹಿಡಿಯಲು ಸಿದ್ಧವಾಗಿ ನಿಂತನು.

ಪ್ರಶ್ನೆಗಳು

1) ಕಾಡಿನಲ್ಲಿ ಒಂದು _____ ಮರವಿತ್ತು.

- 1) ಬಾಳೆಯ 2) ನೇರಳೆ 3) ಮಾವಿನ 4) ಸೇಬಿನ

2) ರಂಗ ಮತ್ತು ಸಾಧಿಕ್ ಇಬ್ಬರೂ ಜೀವದ _____.

1) ಶತ್ರುಗಳು 2) ಸ್ನೇಹಿತೆಯರು 3) ಗೆಲೆಯರು 4) ಸಂಬಂಧಿಗಳು

3) "ಹುಷಾರು ಮಕ್ಕಳೇ ಮರ ಜಾರುತ್ತೆ" ಎಂದವರು _____.

1) ಅಜ್ಜಿ 2) ತಂದೆ 3) ತಾಯಿ 4) ಗುರುಗಳು

4) ಶಾಲೆಗೆ ಹೋಗುವ ದಾರಿಯಲ್ಲಿ ಒಂದು ಚಿಕ್ಕ _____ ಇತ್ತು.

1) ಕೆರೆ 2) ತೋಟ 3) ನದಿ 4) ಕಾಡು

5) ರಂಗ ಮತ್ತು ಸಾಧಿಕ್ ಶಾಲೆಗೆ ದಿನಾಲು _____ ಸವಾರಿ ಮಾಡುತ್ತಾ ಹೋಗುತ್ತಿದ್ದರು.

1) ಸೈಕಲ್ 2) ಬಸ್ಸು 3) ಕಾರು 4) ಲಾರಿ

(ಆ) ಕೆಳಗೆ ಕೊಟ್ಟಿರುವ ಪಠ್ಯದಲ್ಲಿನ 'ಹಲ್ಲುತಪಾಸಣೆ' ಪದ್ಯವನ್ನು ಓದಿಕೊಂಡು ಪ್ರಶ್ನೆಗಳಿಗೆ ಉತ್ತರಿಸಿ :- ಓದಿಕೊಂಡು
1X5=5

ವೈದ್ಯರು ಬಂದರು

ಶಾಲೆಯ ಒಳಗೆ

ಮಕ್ಕಳ ಹಲ್ಲು ತಪಾಸಣೆಗೆ

ಹಲ್ಲನ್ನು ನೋಡದೆ

ಮಕ್ಕಳ ಜೇಬಲ್ಲಿ

ಏನುಂಟೆಂದು ಹುಡುಕಿದರು

ಒಬ್ಬನ ಜೇಬಲ್ಲಿ

ಚಾಕಲೇಟ್ ಸಿಕ್ಕರೆ

ಪುಟಾಣಿ ಮಿಠಾಯಿ ಮತ್ತೊಬ್ಬನಲಿ

ಬೆಂಡು ಬತ್ತಾಸು

ಒಬ್ಬನದಾದರೆ

ಕಡಲೆ ಶೇಂಗಾ ಇನ್ನೊಬ್ಬನದು

ತಿನಿಸನು ತಿಂದ

ಎಲ್ಲರ ಹಲ್ಲನ್ನು

ವೈದ್ಯರು ತೆರೆದು ನೋಡಿದರು

ಹುಳುಕೇ ಇಲ್ಲದ

ವೈದ್ಯರ ಹಲ್ಲುಳು

ಹೊಳೆಯುತ್ತಲಿದ್ದವು ಲಕಲಕನೆ

ಪ್ರಶ್ನೆಗಳು

1) ವೈದ್ಯರು ಶಾಲೆಗೆ ಯಾವ ತಪಾಸಣೆಗೆ ಬಂದಿದ್ದರು?

1) ಕಣ್ಣು

2) ಕಿವಿ

3) ತಲೆ

4) ಹಲ್ಲು

2) ವೈದ್ಯರು ಯಾರ ಜೇಬನ್ನು ಹುಡುಕಿದರು?

1) ಶಿಕ್ಷಕರ

2) ಮಕ್ಕಳ

3) ಗುರುಗಳ

4) ಪೋಷಕರ

3) ವೈದ್ಯರಿಗೆ ಜೇಬಿನಲ್ಲಿ ಸಿಕ್ಕಿದ್ದು ಇದು _____.

1) ಚಾಕಲೇಟ್

2) ಪೆನ್ಸಿಲ್

3) ಪೆನ್ನು

4) ಕತ್ತರಿ

4) ಏನನ್ನು ತಿಂದಿದ್ದು ಎಲ್ಲರ ಹಲ್ಲನ್ನು ವೈದ್ಯರು ನೋಡಿದರು?

1) ತಿನಿಸನ್ನು

2) ಚಾಕಲೇಟ್

3) ಊಟವನ್ನು

4) ಹಣ್ಣನ್ನು

5) ವೈದ್ಯರ ಹಲ್ಲುಳು ಹೇಗೆ ಹೊಳೆಯುತ್ತಿತ್ತು?

1) ಝಳಝಳ

2) ಪಟಪಟ

3) ಲಕಲಕ

4) ಫಳಫಳ

V. ಸುಳಿವು ಪದಗಳ ಸಹಾಯದಿಂದ ಕಥೆಯನ್ನು ಪೂರ್ಣಗೊಳಿಸಿ.

$\frac{1}{2} \times 8 = 4$

{ಮರದ, ಉಳಿಸಿತು, ಆಲದ, ಪಾರಿವಾಳ, ಗಾಳಿ, ಬೇಟೆಗಾರ, ಕಾಲನ್ನು, ಸರೋವರ,}

ಒಂದು ದೊಡ್ಡ ಕಾಡು. ಆ ಕಾಡಿನಲ್ಲಿ ಒಂದು _____ ಮರವಿತ್ತು. ಅದರ ಪಕ್ಕದಲ್ಲಿ ಒಂದು ಸಣ್ಣ _____ ವಿತ್ತು. ಜೋರಾಗಿ _____ ಬೀಸಿದ್ದರಿಂದ ಇರುವೆಯೊಂದು ಸರೋವರದಲ್ಲಿ ಬಿದ್ದಿತು. ಅದನ್ನು _____ ಮೇಲೆ ಕುಳಿತಿದ್ದ _____ ನೋಡಿತು. ಎಲೆಯನ್ನು ಎಸೆದು ಇರುವೆಯ ಪ್ರಾಣ _____ ಮಾರನೆಯ ದಿನ _____ ನೊಬ್ಬ ಪಾರಿವಾಳಕ್ಕೆ ಬಾಣವನ್ನು ಗುರಿಯಿಟ್ಟು ಅದನ್ನು ಕೊಲ್ಲಲು ಪ್ರಯತ್ನಿಸುತ್ತಿದ್ದನು. ಇದನ್ನು ಇರುವೆಯು ಗಮನಿಸಿತು

ಕೂಡಲೇ ಬೇಟೆಗಾರನ _____ ಕಚ್ಚಿ ಗುರಿ ತಪ್ಪಿಸಿತು. ಪಾರಿವಾಳವನ್ನು ಅವನ
ರಕ್ಷಿಸಿತು.

VI. ಈ ಕೆಳಗಿನ ಚಿತ್ರವನ್ನು ನೋಡಿ ನಾಲ್ಕೈದು ವಾಕ್ಯಗಳಲ್ಲಿ ನಿಮ್ಮ ಅನಿಸಿಕೆಯನ್ನು
ಬರೆಯಿರಿ. 4X1=4



VII. ಕೆಳಗೆ ಕೊಟ್ಟಿರುವ ವಿಷಯಗಳಲ್ಲಿ ಒಂದನ್ನು ಕುರಿತು 5-6 ವಾಕ್ಯಗಳಲ್ಲಿ ಕಿರು
ಟಿಪ್ಪಣಿ ಬರೆಯಿರಿ. 4X1=4

1. ನನ್ನ ನೆಚ್ಚಿನ ಆಟ

2. ನನ್ನ ನೆಚ್ಚಿನ ಹಣ್ಣು

ಪಠ್ಯಗಳ ಅಧ್ಯಯನ
ವಿಭಾಗ - B

VIII. ಈ ಕೆಳಗಿನ ಪ್ರಶ್ನೆಗಳಿಗೆ ಒಂದು ವಾಕ್ಯದಲ್ಲಿ ಉತ್ತರಿಸಿ:-

1X4=4

- 1) ಹಣ್ಣು ನೋಡಿ ಯಾರಿಗೆ ಆಸೆಯಾಯಿತು.?
- 2) ತಾಯಿ ಯಾರ ನಡಿಗೆ ನೋಡಿದ್ದೇನೆ ಎನ್ನುತ್ತಾಳೆ. ?
- 3) ಮಕ್ಕಳ ಜಗಳವನ್ನು ಯಾರು ನೋಡಿದರು ?
- 4) ಕಂದವ್ವ ಯಾರಿಗೆ ಮುದ್ದು?

IX. ಕೊಟ್ಟಿರುವ ಪ್ರಶ್ನೆಗಳಿಗೆ ಎರಡು-ಮೂರು ವಾಕ್ಯಗಳಲ್ಲಿ ಉತ್ತರಿಸಿ:-

2X4=8

- 1) ಪೊದೆಯಲ್ಲಿದ್ದ ಹಾವನ್ನು ಕಂಡ ಸಾಧಿಕ್ ರಂಗನಿಗೆ ಏನೆಂದನು?
- 2) ಮಕ್ಕಳ ಹಲ್ಲುಗಳು, ಒಸಡುಗಳು ಹೇಗಿದ್ದವು ?
- 3) ಅಜ್ಜಿ ಕೂಗಿಕೊಂಡದ್ದು ಏಕೆ? ವೈದ್ಯರು ರಂಗನ ಬಳಿ ಏನೆಂದು ಹೇಳಿದರು
- 4) ಕೋಪಗೊಂಡಿದ್ದ ಸಾಧಿಕ್ ನನ್ನು ರಂಗನು ಹೇಗೆ ಸಮಾಧಾನಪಡಿಸಿದನು?

X. ಕೆಳಗಿನ ಪ್ರಶ್ನೆಗಳಿಗೆ ಮೂರು- ನಾಲ್ಕು ವಾಕ್ಯಗಳಲ್ಲಿ ಉತ್ತರಿಸಿ.

3X2=6

- 1) ಬಾಲು ಮತ್ತು ಸೇತುವಿನ ಜಗಳವನ್ನು ವಿವರಿಸಿರಿ.
- 2) ಕಿರುಗಜ್ಜಿಯನ್ನು ಮಾಡಿಸಿಕೊಟ್ಟವರು ಯಾರು? ಕಂದನಿಗೆ ಕಿರುಗಜ್ಜಿಯನ್ನು ತೊಡಿಸುವ ಸಂದರ್ಭವನ್ನು ವಿವರಿಸಿ.

XI. ಕೊಟ್ಟಿರುವ ಪ್ರಶ್ನೆಗಳಲ್ಲಿ ಯಾವುದಾದರೂ ಒಂದು ಪ್ರಶ್ನೆಗೆ ಐದಾರು ವಾಕ್ಯಗಳಲ್ಲಿ ಉತ್ತರಿಸಿ.

4X1=4

- 1) ಮಾವಿನ ಮರ ಎಲ್ಲಿತ್ತು? ಹಿರಿಯರು ಮಕ್ಕಳಿಗೆ ನೀಡಿದ ಹಿತವಚನವೇನು?

ಅಥವಾ

- 2) ಹಣ್ಣುಗಳ ಗಿಡಕ್ಕೆ ಯಾವುದು ಮುದ್ದು? ತೊಟ್ಟಿಲ ಕೂಸಿಗೆ ದೃಷ್ಟಿ ಆಗಬಾರದೆಂದು ತಾಯಿ ಏನು ಮಾಡುತ್ತಾಳೆ?

XII. ಈ ಮಾತನ್ನು ಯಾರು ಯಾರಿಗೆ ಹೇಳಿದರು ?

3X2=6

- 1) "ಕೊಡೋದಿಲ್ಲ ಏನೋ ಮಾಡ್ತೀಯಾ "
- 2) "ಮುಂದೆ ಹೀಗೆ ಮಾಡುವುದಿಲ್ಲ"



SINDHI HIGH SCHOOL, BENGALURU.
HALF YEARLY EXAMINATION. (2022 – 23)

Subject: Mathematics

Class. IV

Max marks : 80

Date: 19 .9. 2022

Time: 8:00 to 10:45am

No. of printed sides: 5

Reading Time: 8:00 to 8:15am

Writing time: 8:15 to 10:45am

General Instructions.

- Write your name, roll number, class/section, date and subject clearly in the answer script.
- Write the page number on the right hand side top corner of each side of the paper.
- All questions are compulsory.
- This question paper contains two sections, Section-A and Section- B.
- Section-A consists of 15 Multiple Choice Questions and 5 fill in the blanks of one mark each.
- In Section-B question numbers 21 to 26 carry two marks each.
- In Section- B question numbers 27 to 34 carry three marks each.
- In Section-B question numbers 35 to 40 carry four marks each.

SECTION – A

Choose the correct answer.

(15 X 1 = 15)

- Which number is 1 less than 4000?
a) 4001 b) 3999 c) 399 d) 4000
- Which Roman Numeral represent 20?
a) VVVV b) C c) XX d) L
- What is the place value of 5 in 7,25,800?
a) 50 b) 5 c) 50,000 d) 5000
- What is the face value of 2 in 23,798?
a) 2 b) 200 c) 20 d) 2000

- 5) What is the successor of the smallest three digit number?
 a) 1000 b) 99 c) 101 d) 100
- 6) What is 100 more than 900?
 a) 1000 b) 901 c) 1100 d) 800
- 7) How many lines of symmetry can be drawn in a square?
 a) 4 b) 5 c) 6 d) 2
- 8) How many thousands are there in a lakh?
 a) 1000 b) 100 c) 1,00,000 d) 1
- 9) If the weight of one bangle is 12grams, what is the weight of 20 such bangles?
 a) 360grams b) 240grams c) 24grams d) 200grams
- 10) Which of the following numerals represent this number name Four lakh forty four thousand four?
 a) 4,44,400 b) 4,00,400 c) 4,00,440 d) 4,44,004
- 11) What is the digit in the ten thousands place in 8,79,203?
 a) 9 b) 8 c) 0 d) 7
- 12) What is the standard form of $20,000 + 3000 + 0 + 0 + 8$?
 a) 2308 b) 23,008 c) 23,800 d) 23,080
- 13) How many lines of symmetry does the letter V have?
 a) 3 b) 1 c) 0 e) 2
- 14) Which of the following Hindu Arabic numeral represents the Roman Numeral XXIX?
 a) 30 b) 28 c) 31 d) 29
- 15) Which two numbers give a difference of 1000?
 a) 6500 , 5600 b) 1500 , 1600 c) 5000 , 10000 d) 4465, 3465

Fill in the blanks.

(5 X 1 = 5)

- 16) $25 \times 35 \times \text{----} = 35 \times 45 \times 25$
- 17) $5100 + \text{-----} = 5100$
- 18) The answer of multiplication operation is called -----.
- 19) If $400 + 500 + 600 = 1500$, $500 + 600 + 400 = \text{-----}$.

20) 7810, 7710, 7610, ----- , -----.

SECTION – B

Answer the following.

(6 X 2 = 12)

21) Coding table

A	B	C	D	E	F	G	H	I	J	K	L	M
1	2	3	4	5	6	7	8	9	10	11	12	13

N	O	P	Q	R	S	T	U	V	W	X	Y	Z
14	15	16	17	18	19	20	21	22	23	24	25	26

Observe the above table and decode this message given below.

9	14	4	9	1	9	19	15	21	18	3	15	21	14	20	18	25
---	----	---	---	---	---	----	----	----	----	---	----	----	----	----	----	----

22) Simplify.

$$9629 + 1735 - 2568$$

23) Arrange in ascending order.

610920 , 521910 , 15960 , 27300

24) Subtract 17,200 from 85,136

25) Multiply using expanded form.

$$127 \times 5$$



26) Arrange in columns and add.

41727 , 3728 , 79 , 818

(8 X 3 = 24)

27) A box contains 2465 red balls, 1378 blue balls and 1798 green balls. How many balls are there in all?

28) Draw the other half of these figures.



29) Sum of two numbers is 56,918. If one number is 28,358, find the other number.

30) a) Draw the Indian place value chart and arrange the number 6,57,298 in that chart.
b) Write the number name of the above number in Indian system.

31) Find the sum of 516720 , 161730 and 126956

32) The cost of a pair of liberty shoes is Rs.5825. What will be the cost of 8 pairs of shoes?

33) Multiply using suitable grouping.

a) $5 \times 63 \times 20$

b) $2 \times 891 \times 50$

34) Ridhaan's car costs Rs.9,69,000 and Adit's car costs Rs.7,98,000. Whose car is more costly and by how much?

($6 \times 4 = 24$)

35) A vaccination drive was arranged for the public in a school for three days. 1780 children were vaccinated on the first day, 1425 on the second day and 2126 on the third day. Find the total number of children vaccinated on all three days.

36) Multiply.

a) 48×62

b) 71×19

37) Using the digits 7,6,9,8,2 find

a) the smallest 5 digit number

b) the greatest 5 digit number

c) the difference of the smallest and the greatest numbers

38) Complete the pattern.

a) Z1 , Y2 , X3 , ---- , -----

b) $\triangleright \star \triangleright \star \triangleright \star$ _ _

c) $\bigcirc \square \square \bigcirc \square \square$ _ _

d) $\triangle \square \triangle \square \triangle \square$ _ _

39) A library has 75 racks of books. If each rack holds 56 books, find the number of books in the library.

40) Subtract and check your answer.

a) $52,347 - 41,238$

b) $70,000 - 66,500$



SINDHI HIGH SCHOOL, BENGALURU
HALF YEARLY EXAMINATION (2022-23)
SUBJECT- Additional Hindi

CLASS: IV
DATE: 16.9.2022
No. of Sides: 6

MAX-MARKS: 80
READING TIME: 8.00am to 8.15am
WRITING TIME: 8.15am to 10.45am

Instructions:

- Write your Name, Roll number, Section in the answer script.
- Read all the Questions carefully.
- Answer all the Questions and write neatly.

निर्देश-

- इस प्रश्न-पत्र में चार खंड हैं-क, ख, ग और घ
- खंड क- अपठित गद्यांश -10 अंक
- खंड ख-व्याकरण -25 अंक
- खंड ग-पाठ्यपुस्तक -35 अंक
- खंड घ-लेखन -10 अंक
- सभी प्रश्नों के उत्तर क्रमानुसार लिखिए ।
- सभी खंडों के सभी प्रश्नों के उत्तर देना अनिवार्य है ।
- शब्द सीमा में लिखिए ।

खंड-क

। दिए गए गद्यांश को ध्यानपूर्वक पढ़कर पूछे गए प्रश्नों के सही विकल्प चुनकर लिखिए ।

5

जल और जीवन का आपस में गहरा संबंध है। बड़े-बड़े नगर नदियों के किनारे ही बसे हुए हैं। आजकल मनुष्य नदियों और झीलों में तैरकर अपना मनोरंजन करता है। प्राचीन काल में मनुष्य तैरकर ही नदियों को पार करता था। तैराकी अपने आप में कला के साथ-साथ अच्छा व्यायाम भी है। आजकल तैराकी के कई प्रकार प्रचलित हैं ?

(1) जल और जीवन का आपस में कैसा संबंध है ?

- (क) गहरा (ख) कच्चा
(ग) पक्का (घ) सच्चा

(2) बड़े-बड़े नगर कहाँ बसे हुए हैं ?

- (क) समुद्र के किनारे (ख) नदियों के किनारे
(ग) मैदानों के किनारे (घ) पहाड़ के नीचे है

(3) आजकल मनुष्य नदियों और झीलों में क्या करके अपना मनोरंजन करता है?

- क) सोकर (ख) जागकर
ग) बोलकर (घ) तैरकर

(4) मनुष्य तैरकर ही नदियों को पार किस काल में करता था?

- (क) प्राचीन काल (ख) भविष्य काल
(ग) वर्तमान काल (घ) प्रसिद्ध काल

(5) तैराकी अपने आप में क्या है ?

- (क) व्यायाम (ख) कला और व्यायाम
(ग) मनोरंजन (घ) शौक

II) दिए गए गद्यांश को ध्यानपूर्वक पढ़कर पूछे गए प्रश्नों के सही विकल्प चुनकर लिखिए।

5

संसार भर में सबसे ऊँचा पर्वत हिमालय है। इसका सबसे ऊँचा शिखर 'माउण्ट एवरेस्ट' के नाम से प्रसिद्ध है। इसका प्राचीन नाम गौरीशंकर है। कहा जाता है कि यहाँ महादेव और पार्वती का निवास था। इसका नाम 'माउण्ट एवरेस्ट' कर्नल एवरेस्ट के नाम से पड़ा है, क्योंकि उन्होंने सर्वप्रथम यहाँ पहुँचने का प्रयास किया था।

1 संसार भर में सबसे ऊँचा पर्वत कौन-सा है।

- क) हिमालय (ख) पुस्तकालय (ग) मेघालय (घ) मंत्रालय

2. हिमालय के सबसे ऊँचे शिखर का नाम है -

- क. एवरेस्ट (ख) कंचनजंघा
ग. माउण्ट एवरेस्ट (घ) माउण्ट

3. माउण्ट एवरेस्ट का प्राचीन नाम क्या है ?

- क) गौरीशंकर (ख) जयशंकर
ग) हिमालय (घ) पार्वती

4 हिमालय किस का निवास स्थान है?

- क) महादेव और पार्वती का (ख) महादेव का
ग) विष्णु का (घ) हनुमान का

5. सर्वप्रथम माउण्ट एवरेस्ट पर जाने का किसने प्रयास किया?

- क) मेजर एवरेस्ट (ख) कर्नल एवरेस्ट (ग) जनरल एवरेस्ट (घ) गुरुकुल एवरेस्ट

खंड - ख

III) क) दिए गए शब्दों के एक-एक पर्यायवाची शब्द लिखिए (2)

1. पेड़ 2. दिन 3. पानी 4. प्रकाश

ख) विलोम शब्द लिखिए । (2)

1. शहर 2. सोना 3. कुशल 4. पास

ग) दिए गए शब्दों के समान अर्थवाले शब्दों से खाली स्थान भरिए । (2)

1. ----- (छोटे) बीज एक बो दो तुम ।
2. वही ----- (वृक्ष) बन जाएगा ।

घ) इन के लिए एक शब्द लिखिए । (2)

1. जिस दिन किसी का जन्म हुआ हो-----
2. मिठाई बनाकर बेचने वाला -----

ड.) दिए गए मुहावरों के अर्थ बताइए । (2)

1. खुशी से झूम उठना 2. मुँह में पानी भर आना

च) सही विशेषण का प्रयोग करके वाक्य पूरे कीजिए । (2)

1. चाँद कभी-कभी ----- हो जाता है । (छोटा/छोटी)
2. चाँद ने ----- झिंगोला सिलवाने के लिए कहा । (मोटा/पतला)

छ) सही क्रिया शब्द भरकर वाक्य पूरे कीजिए। (2)

1. बच्चे खेल----- (रहे थे /रही थी)
2. सब तरफ़ चाँदनी बिखरी ----- (हुआ था/ हुई थी)

ज) दिए गए शब्दों के वचन बदल कर लिखिए । (2)

1. नदी 2. बात 3. खुशी 4. रात

झ) इन वाक्यों के लिए सही विराम - चिन्ह लगाइए । (2)

1. बनिए ने यह कुआँ एक ब्राह्मण को बेच दिया -----
2. उस कुएँ का मालिक कौन है -----
3. कितना सुन्दर फूल है-----
4. तुम कहाँ जा रहे हो -----

ञ) दिए गए उचित वर्णों पर चंद्रबिंदु लगाइए । (2)

1. आख 2. हसी 3. गाव 4. मुह

ट) समान तुक वाले एक-एक शब्द लिखिए ।

(2)

1. मरता 2. घटता 3. छोटा 4. जाड़ें

ठ) नीचे दिए गए संज्ञा शब्दों में व्यक्तिवाचक संज्ञा शब्दों को छाँटकर लिखिए ।

2

मिठाई, गुरुनानक, सब्जी, ओणम

ड) इनसे वाक्य बनाइए ।

1

1. हरे-भरे

खंड-ग

IV) दिए गए गद्यांश को ध्यानपूर्वक पढ़कर पूछे गए प्रश्नों के सही विकल्प चुनकर लिखिए ।

5

एक था चूहा उसका नाम था चीची । चीची चूहे का बहुत दिनों से पनीर खाने का मन कर रहा था । उसके बिल के सामने ही एक बड़ा सा पनीर का टुकड़ा पड़ा था । चीची अपने दोस्त छोटू के पास गया । छोटू हलवाई की दुकान चलाता था । उसने चीची को चीनी दी ताकि वह पनीर को स्वादिष्ट बना कर खा सके ।

क) चूहे का क्या नाम था ?

(1) मीची (2) टीची (3) चीची (4) साची

ख) चीची का क्या खाने को मन कर रहा था ?

(1) फल (2) पनीर (3) चावल (4) मिठाई

ग) चीची के दोस्त का क्या नाम था ?

(1) मोटू (2) छोटू (3) तोतू (4) सोनू

घ) छोटू किसकी दुकान चलाता था ?

(1) किताबों की (2) फलों की (3) कपड़ों की (4) हलवाई की

ड.) छोटू ने चीची को क्या दिया ?

(1) नमक (2) हल्दी (3) मसाला (4) चीनी

V) दिए गए गद्यांश को ध्यानपूर्वक पढ़कर पूछे गए प्रश्नों के सही विकल्प चुनकर लिखिए ।

5

बहुत समय पहले की बात है । एक शहर में एक लालची बनिया रहता था । उसका एक कुआँ था । एक दिन उसने वह कुआँ एक सीधे - साधे ब्राह्मण को बेच दिया । दूसरे दिन जब ब्राह्मण पानी भरने के लिए पहुँचा तो बनिए ने कहा तुम इस कुएँ से पानी नहीं भर सकते । ब्राह्मण ने कहा कल ही तो मैंने यह कुआँ तुम से खरीदा था ।

क) शहर में कैसा बनिया रहता था ?

(1) मूर्ख (2) बुद्धिमान (3) लालची (4) होशियार

ख) बनिए ने कुआँ किसे बेचा था ?

(1) मंत्री (2) ब्राह्मण (3) रिश्तेदार (4) मास्टर

ग. ब्राह्मण कैसा था ?

(1) सीधा-साधा (2) कंजूस (3) मूर्ख (4) ताकतवर

घ. ब्राह्मण कुँ पर क्या करने गया ?

(1) पानी भरने (2) पानी देखने (3) पैर धोने (4) हाथ धोने

ड. ब्राह्मण ने कुँ किस से खरीदा था ?

(1) दोस्त (2) बनिए (3) सिपाही (4) बसवाले

VI. निम्नलिखित प्रश्नों के उत्तर एक वाक्य में दीजिए -

1x10=10

1. महल खड़ा करने के लिए एक के ऊपर एक क्या रखना होगा ?
2. बिना रुके चलते जाने से क्या मिलेगा ?
3. गिन्नू का बेटा क्या खाने की जिद्द कर रहा था ?
4. कुँ किसका था ?
5. बनिये की चालाकी कौन समझ गया ?
6. प्रकाश पर्व के रूप में कौन-सा त्योहार मनाया जाता है ?
7. चाँद क्या सिलवाना चाहता था ?
8. हिमालय की गोद में किसका घर था ?
9. सूरज कहाँ चमका ?
10. नदी की अधिकतर बूँदें कैसी थीं ?

VII. निम्नलिखित प्रश्नों के उत्तर दो वाक्यों में दीजिए -

5x2=10

1. अपने घर परिवार और देश का नाम रोशन करने के लिए आप कौन-से दो अच्छे काम करेंगे ?
2. गिन्नू के घर जाकर चीची ने क्या देखा ?
3. बनिये ने ब्राह्मण को कुँ से पानी क्यों नहीं भरने दिया ?
4. ओणम कहाँ मनाया जाता है और ईद के त्योहार पर घर में सब लोग मजे से क्या खाते हैं ?
5. शर्मीली कौन थी ? उसे किसकी बातें अच्छी लगी ?

VIII. दिए गए पद्यांश को ध्यानपूर्वक पढ़कर पूछे गए प्रश्नों के सही विकल्प चुनकर लिखिए ।

5

आँखें खोलो, आलस त्यागो,
हुआ सवेरा अब तो जागो ।
सूरज आसमान में चमका,
धरती का है कण-कण दमका !
दिशा-दिशा का मिटा अँधेरा,
धरती पर किरणों का डेरा,
जाग उठा है कोना-कोना,

ठीक नहीं है अब इतना सोना !
आँखें खोलो, आलस त्यागो,
हुआ सवेरा अब तो जागो ।

क) आसमान में क्या चमका ?

- 1) साबुन 2) चाँद 3) तारे 4) सूरज

ख) सुबह होने पर अँधेरा कहाँ से मिट गया ?

- 1) आसमान से 2) बगीचे से 3) दिशा-दिशा से 4) बाज़ार से

ग) धरती पर किसका डेरा है ?

- 1) किरणों का 2) पानी का 3) सागर का 4) वर्षा का

घ) ठीक नहीं है अब इतना----- (सही शब्द चुन कर पंक्ति पूरी कीजिए ।)

- 1) रोना 2) जागना 3) बोलना 4) सोना

ड.) आँखें खोलो, और किसको त्यागो ?


- 1) आलस 2) मेहनत 3) पैसे 4) छुट्टी

खंड-घ

IX दिए गए विषयों में से किसी एक विषय पर 40-50 शब्दों में अनुच्छेद लिखिए - 5


मेरा विद्यालय या प्रिय खेल

X दिए गए शब्दों की सहायता से चित्र-वर्णन पूरा कीजिए । 5



कुँए, सूरज, किसान, गेंद, स्कूल

-----निकल आया है । सब लोग अपने-अपने काम में लग गए ।-----खेत में हल
चला रहा है । कुछ औरतें ----- पर पानी भर रही हैं । पास ही कुछ बच्चे-----से खेल
रहे हैं तो कुछ बच्चे बस्ता टाँगे ----- जा रहे हैं ।



SINDHI HIGH SCHOOL, BANGALORE
HALF YEARLY EXAMINATION (2022-23)
Subject - Social Science

Class: IV
Date: 22/09/2022
Number of printed sides: 5

Marks: 80
Timings: 2½ hrs
Reading Time: 8:00 to 8:15 am
Writing Time: 8:15 to 10:45 am

General Instructions:

- Write your Name, Roll number, Class/Section, Date and Subject clearly in the answer script.
- Write the page number on the right-hand side top corner of each side of the paper.
- Read all the questions carefully.
- All questions are compulsory.
- Answer all the questions with the correct Question number.

I. Choose and Write the correct word: -

1X10=10

- 1) The name India has been derived from the name of the river _____
a) Satluj b) Indus c) Gomti d) Jhelum
- 2) Kahwa is a special type of _____
a) Tea b) Coffee c) Juice d) Lassi
- 3) India is located in the southern part of the continent of _____
a) America b) Africa c) Asia d) Australia
- 4) _____ is a famous hill station known for its tea gardens
a) Darjeeling b) Dalhousi c) Ranikhet d) Leh
- 5) _____ has recorded the highest temperature in the subcontinent at 53 degree Celsius
a) Islamabad b) Jacobabad c) Ahmedabad d) Muradabad
- 6) Uttar Pradesh is the largest producer of _____
A) Corn b) Sugarcane c) Jute d) Millets
- 7) _____ is a distinguished festival of Nagaland.
a) Hornbill festival b) Wangala festival c) Christmas d) Garia

8) Jaipur is also known as the _____

- a) Purple city b) Blue city c) Red City d) Pink City

9) Moving air is called _____

- a) Cyclone b) Wind c) Storm d) Tornados

10) _____ settled in Sindh known as Muhajirs.

- a) Hindus b) Christians c) Muslim d) Parsis

II. Name the following:

1X5=5

1. The highest mountain peak in the world. _____
2. The southernmost tip of the mainland of India. _____
3. The dam built on the Satluj river. _____
4. Is a hill or ridge of sand piled up by the wind. _____
5. The original dress of the Sindhi men. _____

III. Give two examples for each of the following:

1X5=5

1. Tributaries of River Ganga. _____, _____
2. Landforms of India. _____, _____
3. Main fruits grown in Himachal Pradesh. _____, _____
4. Uses of solar energy. _____, _____
5. Crops grown in Tripura state. _____, _____

IV. Fill in the blanks:

1X5=5

1. India is commonly called as _____ or Hindustan.
2. _____ is the main occupation of Haryana.
3. Uttarakhand is often called as _____.
4. The _____ of Sindh have adopted flowing pyjamas and high-topped caps as their style of dress.
5. The only river that drains into the Thar desert.

V. Complete the analogy:

1X5=5

1. Largest state: Rajasthan :: Smallest state : _____
2. Mizoram : Aizwal :: _____ : Gangtok.



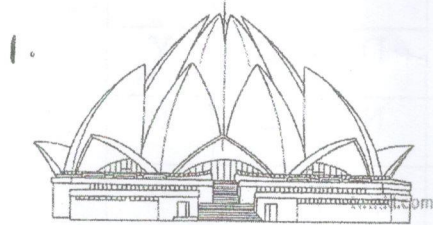
3. Bihar : _____ :: Haryana : Haryanvi.

4. Renewable resource : water :: Non-renewable resource : _____

5. Srinagar in the summer : Jammu in the _____.

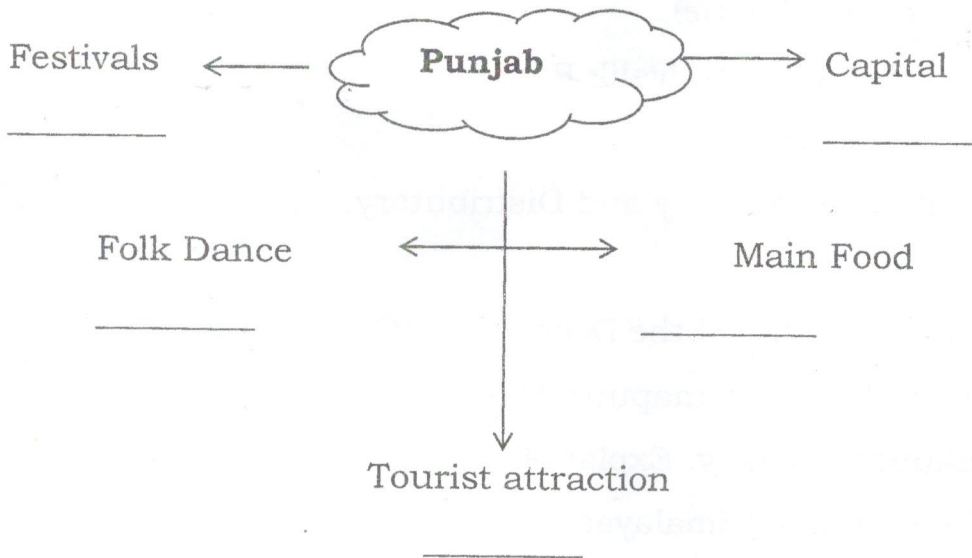
VI. Identify the pictures and name it:

1X5=5



VII. Complete the cloud :

1X5=5



VIII. From the given Grid, find out the names of tourist places in Rajasthan. 1X5=5

A	B	U	C	D	E	F	G
J	O	D	H	P	U	R	X
M	Z	A	Y	X	D	D	Y
E	B	I	K	A	N	E	R
R	A	P	M	M	P	O	Z
B	P	U	S	H	K	A	R
Q	S	R	T	U	V	W	A
X	Y	Z	M	N	O	P	B

IX. Answer the following:

1. Define natural resources.
2. What is the meaning of Meghalaya?
3. Who are Banjaras?
4. Explain Basin?
5. List one way to save fossil fuel.
6. Write two sentences about Shivalik Range.
7. How is Petroleum formed?
8. Differentiate between Tributary and Distributary.
9. What are Sundarbans?
10. "Camel is called the Ship of the Desert". Why?
11. Write a short note on Bhramaputra Basin.
12. India is a beautiful country. Explain?
13. Write any three uses of Himalayas.
14. Describe coal. Write any two uses of it.


1
1
1
1
1
2
2
2
2
2
3
3
3

1+2 =

15. a) Identify the image.

1+2 = 3

b) What is it used for?



X. On the political map of India, locate the following places.

1X5=5

- a) The State you live in.
- b) Arunachal Pradesh.
- c) One neighbouring country of India.
- d) The seas that lies in west coast and east coast of India.

5



SINDHI HIGH SCHOOL, BANGALORE

HALF YEARLY EXAMINATION- (2022-2023)

Subject : Science

Class: IV

Max Marks : 80

Date: 21-9-22

Timings: 8:00-10:45am

No of sides: 4

Reading Time: 8:00-8:15am

Writing Time: 8:15-10:45am

SECTION A

1. Choose the correct option

$\frac{1}{2} \times 10 = 5$

- i) The food prepared by the process of photosynthesis is
a) Glucose
b) Stomata
c) Chlorophyll
d) Carbon-di-oxide
- ii) Which part of the leaf helps in exchange of gases?
a) Stomata
b) Side veins
c) mid rib
d) None of these
- iii) Which one of the following is an example of a non-green plant?
a) Pitcher plant
b) Coral plant
c) Coconut
d) Duckweed
- iv) Identify the plant that protects itself by thorns.
a) Lotus
b) Fir
c) Poison ivy
d) Rose
- v) What happens when we do not replace the trees that have been cut down?
a) Soil erosion increases
b) Soil erosion decreases
c) Soil is conserved
d) Soil fertility is increased
- vi) Select one out of the following which is the best soil for growing plants?
a) Sandy
b) Clayey
c) Loamy
d) Gravel

- vii) Which of the following teeth is sharp and pointed?
 a) Pre molar
 b) Crown
 c) Incisors
 d) Canine
- viii) What is the normal age when a child gets a set of 20 milk teeth?
 a) 1 year
 b) 2 years
 c) 3 years
 d) 6 months
- ix) Cactus leaves are modified into _____.
 a) Elongated leaf
 b) Red leaf
 c) broad leaf
 d) Spine
- x) Breathing roots are found in plants of
 a) Mountain region
 b) Deserts
 c) Marshes or swamps
 d) Underwater plants

1 X 5 = 5

2. Give two examples of each

- Fixed aquatic plants.
- Food preservation technique.
- Things made up of clayey soil.
- Calcium rich food.
- Sources of proteins.

1 X 3 = 3

3. Name the following

- Food items which protect us from diseases and keep us healthy.
- The digestive juice in the mouth.
- The remains of dead animals and plants in soil.

1 X 4 = 4

4. What happens when

- There is no intake of roughage.
- Iodine solution is added to starch.
- Underwater plants are grown in aquarium.
- We build dams.

$\frac{1}{2}$ X 6 = 3

5. Analogy

- Mango tree: Plain region :: _____: Marshy region.
- Deer: Herbivore :: _____: Carnivore.
- Cutting of trees: _____ :: Planting trees: Afforestation
- Incisors: 8 :: Premolar: _____.
- Malaria: Protozoa :: Typhoid: _____
- _____ : ghee :: Proteins : Pulses


SECTION B

Answer the following


3 X 10 = 30

6. a. Identify

i.



ii.



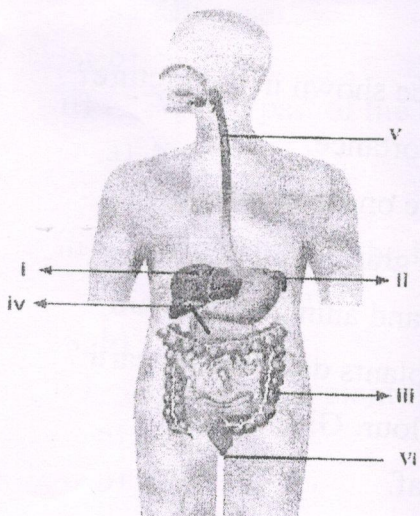
b. Write any one adaptation of (i) and (ii)

7. a. What are nutrients?

b. Write any four methods of cooking food.

8. Write three adaptations of plants that are grown in mountain region.

9. Label the parts of human digestive system.



10. a. What is soil erosion?

b. Write the causes of soil erosion.

11. List any three properties of sandy soil.

12. How do plants use their food?

13. What is food chain? Give an example.

14. Draw a neat labeled diagram of structure of a tooth.

15. a. What are microbes?

b. List any two ways by which microbes are useful to us.

SECTION C

5 X 6 = 30

Answer the following

16.a. What is digestion?


b. Why do we need food?

c. Water is important for us. Justify.

17. a. How does tooth decay happens?

b. Write any two ways to prevent tooth decay.

18. a. Identify the picture given below.



b. What is the advantage of the practice shown in the picture?

c. What is crop rotation? Give its importance.

19. a. What are insectivorous plants? Give one example.

b. List any three uses of plant found in grass family.

20. a. What is interdependence of plants and animals? Explain

b. What will happen if the number of plants decrease on earth?

c. Croton leaves appear dark red in colour. Give reason?

21. a. Draw a neat labeled diagram of leaf.

b. Why is leaf called the food factory of plant?



SINDHI HIGH SCHOOL, BENGALURU

HALF YEARLY EXAM 2022-23

Class: IV

Marks:30

No of Printed Sides:3

Subject:Computer Science

Reading Time :8:00 – 8:10 am

Writing Time : 8:10 – 9:00 am

Date:15/9/22

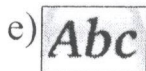


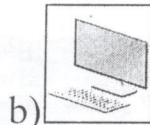
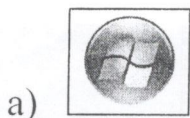
I. Fill in the blanks:

[1 x 5=5M]

- The _____ drive is small, to use a storage device that can be carried around in your pocket.
- The _____ is a non- volatile memory.
- A _____ is a location for organizing and storing files.
- The background image of the desktop is called _____.
- Click the _____ key to exit the slideshow.

II. Name the icons:

[1 x 5=5M]



III. Name the shortcut keys

[2M]

- Select all items in a folder.
- Copy a file.
- Paste a file.
- Create a new folder

IV. Answer the following:

[9M]

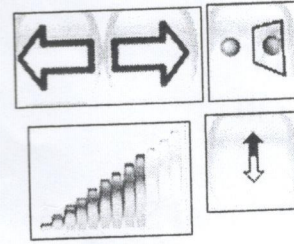
- Write any two units used to represent Computer memory. **[1M]**
- What are the four options that appear when you resize a tile? **[2M]**
- What is a slideshow in tuxpaint? **[2M]**
- Mention any two characteristics of RAM. **[1M]**
- What do you understand by libraries? Name all the libraries present in Windows. **[2M]**
- How will you start the slideshow? **[1M]**

V. Application based questions

[7M]

1. From the picture given alongside write which buttons are used for the following . [2M]

- To get the mirror image of the stamp
- To the size of the stamp
- To flip the image vertically.
- To move through various category of stamps.



2. Dev wants to disable the sound effects in Tux Paint. Which key should he press? [1M]

- Which storage device would you choose to store the following? [1M]
 - To store 200 MB data for a class project
 - To store 500 GB of backup data containing various student project

4. In the figure given below identify the labelled parts: [2M]

a

b

c

d

5. Arrange the following in descending order. TB,KB,MB,GB [1M]

VI. Search for 4 words in tuxpaint and Windows.

[2M]

S	D	T	A	S	K	B	A	R	W
L	T	H	E	U	I	K	B	U	S
Q	T	E	L	I	P	G	T	A	E
K	E	M	E	E	O	F	S	S	T
P	D	E	S	K	T	O	P	C	T
I	R	E	T	S	Y	L	L	E	I
A	A	I	I	N	D	N	T	H	N
Q	S	R	O	S	T	E	S	T	G
S	T	O	R	Y	B	O	A	R	D
F	J	Y	L	N	E	X	P	F	I