

SINDHI HIGH SCHOOL, BANGALORE
HALF YEARLY EXAMINATION (2022-23)

Class-5

Subject- English

Date-19.09.2022

Marks-80

Writing Time-2 hrs&30mins

No. of printed sides- 7

Reading time-15mins

General Instructions

This paper contains three sections:

Section A- Reading-20

Section B- Writing & Grammar-30

Section C- Literature-30

ALL SECTIONS ARE COMPULSORY

SECTION -A READING (20M)

I. Read the passage and answer the questions that follow:-

Bats

1. Bats are mammals with wings and not birds. They are seen hanging from branches, sleeping during the day. There are more than 900 different types of bats. They come in different sizes. In the daytime, they rest in dark places such as caves and hollow trees. Some bats rest outdoor on trees or on rocks. They hang by, their feet from branches when they sleep. Most bats use their feet only for hanging, some do not walk at all. If they fall on the ground, they cannot get up.
2. We often hear people saying, 'Blind as a Bat.' This is because most people think that bats are blind. But they are not, it's just that they do not see very well. Instead, they can hear very well. To fly, they make a sound and wait for its echo. Bats can fly if you cover their eyes, but they can't if you block their ears. Some bats eat fruits, some eat other animals and some eat fish. But most bats eat insects. They catch insects while flying. Some bats can catch as many as fifteen insects in a minute!

1.1) Answer the following questions:

- a.) What kind of creatures are bats? 1
- b.) Are bats blind? 1
- c.) What do most bats eat? 1
- d.) Where do the bats rest? 2
- e.) How do the bats manage to hang from the trees? What happens when they fall on the ground? 2

1.2) Complete these sentences : 1x2=2

- a) Bats can't fly _____
- b) Some bats eat _____

1.3) Find the meaning of the given words from the passage: 1/2x2=1

- a.) Empty space inside (Para-1)
- b.) A sound that is heard more than once because it is reflected off a surface (Para-2)

II. Read the passage carefully and answer the questions that follow:

1. Tom Sawyer was always getting into trouble. Tom lived with his Aunt Polly, his cousin Mary and his half-brother Sid. Everyone knew about his mischief-making. Sid told Aunt Polly about Tom missing school and going swimming.
2. Now, as a punishment for his behaviour, Tom had to whitewash thirty yards of fence on a sunny Saturday afternoon. Tom appeared with a bucket of whitewash and a long-handled brush. He looked at the fence. He felt very sad. Thirty yards of board fence, nine feet high! Sighing, he dipped his brush and passed it along the topmost plank. He repeated the same and felt very tired.
3. Jim came skipping out at the gate carrying a pail and singing. Bringing water from the town pump had always been a hateful work in Tom's eyes before. But now it didn't seem so. He remembered that it was fun at the pump. Boys and girls were always there waiting for their turns, resting, quarrelling, fighting and he remembered that although the pump was only a hundred and fifty yards off, Jim never got back with a bucket of water before an hour and even then somebody generally had to go after him.

4. Tom said, "Say, Jim, I'll fetch the water if you'll whitewash some. I'll give you a marble." Jim shook his head fearing Aunt Polly's scolding.

2.1. Choose the correct answers from the options given: (1x10=10)

(a) _____ had complained to Aunt Polly about Tom's mischief.

- (i) Sid
- (ii) Mary
- (iii) Jim
- (iv) Tom's friends

(b) As Tom looked at the fence, his feelings were those of _____

- (i) great unhappiness
- (ii) joyful
- (iii) gladness
- (iv) happy

(c) As Tom repeated whitewashing the fence he felt _____

- (i) the topmost plank was too high
- (ii) whitewashing the fence would take time
- (iii) the fence would soon be whitewashed
- (iv) very tired

(d) Tom offered Jim a marble because _____

- (i) he wanted Jim to whitewash the fence
- (ii) he had many
- (iii) he wanted Aunt Polly to scold Jim
- (iv) he didn't like Jim

(e) Tom offered to fetch water for Jim as _____

- (i) Jim had given him a marble
- (ii) he wanted to go to the pump to meet his friends
- (iii) he wanted to go to school
- (iv) he feared Aunt Polly's scolding

- (f) Tom Sawyer lived with _____
- (i) his parents
 - (ii) his friends
 - (iii) Jim
 - (iv) his Aunt Polly, cousin Mary and half-brother Sid
- (g) As a punishment for his behaviour Tom Sawyer had to _____
- (i) stay at home
 - (ii) whitewash thirty yards of fence
 - (iii) study
 - (iv) stay hungry
- (h) Jim did not agree to take a marble from Tom because he feared _____
- (i) Aunt Polly's scolding
 - (ii) his parent's scolding
 - (iii) Mary's scolding
 - (iv) Tom's scolding

(i) Find words from the passage, which mean the opposite of:

(1) happy (Para 2)

- (i) sad (ii) glad (iii) joyful (iv) delighted

(2) loving (Para 3)

- (i) warm (ii) kind (iii) hateful (iv) affectionate

(j) Find words from the passage, which mean the same as:

(1) problem (Para 1)


- (i) solution (ii) trouble (iii) answer (iv) easy

(2) bring (Para 4)

- (i) take (ii) drop (iii) follow (iv) fetch

SECTION – B-WRITING & GRAMMAR (30M)

- III. Write a letter in 80-100 words to your friend inviting him/her for your birthday party. You are Ram/Riya. (5)
- IV. Write a paragraph on “Friendship” in 100-120 words. (6)
- V. With the help of the given pictures write a meaningful story in 120 - 150 words and give a suitable title to your story. (7)



VI. Choose the correct word from the bracket and complete the paragraph: One has been done as an example: (1/2x8=4)
(him, she, her, he, their, his, they, them)

Joe, the cute little boy, was so excited. Today was **Eg: his** birthday. (a) _____ thought that (b) _____ mother and sister would give (c) _____ a great present. It was Jane's birthday too. (d) _____ mother had been planning to have a party. (e) _____ decided to give a surprise to Jane. So, Joe and Jane's mother planned together for the party. (f) _____ discussed the games which both (g) _____ children would like to play. The invitations were sent out by both of (h) _____.

VII. Complete the story using the articles a, an or the wherever necessary: One has been done as an example: (1/2x8=4)

There was **Eg: a** beautiful forest. Many animals lived in (a) _____ forest. They were all great friends and lived happily. One day (b) _____ honest new animal came into the forest. It was (c) _____ fierce lion. (d) _____ lion roared and stamped his feet and asked fiercely, "Is there (e) _____ king in this forest?" (f) _____ other animals did not say anything. (g) _____ lion roared more ferociously and said, "I shall be (h) _____ new king of the forest!"

VIII. Choose the most appropriate word from the options given in brackets to complete the following passage: One has been done as an example: (1/2x8=4)

Once, Androcles, a Greek slave **Eg: runs** (run, runs, is running, was running) away from his master. Suddenly he (a) _____ (see, seeing, seen, sees) that a (b) _____ (big, bigger, biggest, is bigger) lion (c) _____ (roar, roars, roaring, will roar) in pain. Androcles (d) _____ (see, seeing, sees, seen) that it has a thorn in its paw. The lion was in (e) _____ (great, greater, greatest, more great) pain. He (f) _____ (take, taking, taken, takes) pity on the lion and (g) _____ (remove, removes, had removing, removing) the thorn. They both (h) _____ (become, becomes, is becoming, becoming) very good friends.

SECTION-C LITERATURE (30M)

IX. Read the extract and answer any ONE of the following: (1x3=3M)

When my eyes I once again
Open, and see all things plain:
High bare walls, great bare floor;
Great big knobs on drawer and door;

- a.) Name the poem and the poet.
- b.) Where does the poet find himself when he opens his eyes?
- c.) Do you think the poet likes what he sees when he opens his eyes?

OR

“Ravana has abducted Sita. I tried my utmost to intercept and prevent him, but I failed.”

- a.) Name the epic from which this extract has been taken?
- b.) Who is the speaker of the above line?
- c.) What happens to the speaker after he says these lines?

X. Answer the following:

(2x5=10M)

- a.) In the lesson ‘Life in a Workhouse,’ what news did Mr. Bumble give Oliver at the beginning of the lesson?
- b.) What made Anandibai Joshi take up medical studies?
- c.) Where and whom did Little David Copperfield meet when he was sent away in the lesson “Little David Copperfield”?
- d.) In the lesson “Search for Sita” what did Lord Rama see when he reached the parnakuti after killing Mareecha?
- e.) In the poem, “The Little Land” what does the poet do when he is alone?

XI. Answer the following questions:

(3x3=9M)

- a.) Write a paragraph on the ‘Summer Sun.’
- b.) Write the character sketch of Little David Copperfield.
- c.) In the lesson “Life in a Workhouse” how did the cook and the beadle react when Oliver asked for more soup? How was Oliver punished for asking more soup?

XII. Answer the following questions in detail:

(4x2=8M)

- a.) In the lesson “The making of a Doctor” what difficulties did Anandibai Joshi face to become the first female doctor of India?
- b.) How did Aslam save his and the other people’s lives in the lesson “Clever Aslam”?



SINDHI HIGH SCHOOL, HEBBAL
HALF YEARLY EXAMINATION (2022-23)
SUBJECT: L2- KANNADA

Class:V
Date: 21.09.2022
No.of sides: 10

Max. Marks: 80
Reading time: 8:00 am to 8:15 am
Writing Time: 8:15 am to 10:45 am

ಸೂಚನೆಗಳು:

- * ಪತ್ರಿಕೆಯು ಎ ಮತ್ತು ಬಿ ಎಂಬ ಎರಡು ಭಾಗಗಳನ್ನು ಒಳಗೊಂಡಿರುತ್ತವೆ.
- * ಪ್ರಶ್ನೆಪತ್ರಿಕೆಯಲ್ಲಿ ಒಟ್ಟು 11 ಮುಖ್ಯ ಪ್ರಶ್ನೆಗಳಿರುತ್ತವೆ.
- * ಪ್ರತಿಯೊಂದು ಪ್ರಶ್ನೆಗಳ ಸೂಚನೆಗಳನ್ನು ಸರಿಯಾಗಿ ಓದಿಕೊಂಡು ಉತ್ತರಿಸಿ.
- * ಪ್ರಶ್ನೆ ಮತ್ತು ಉಪಪ್ರಶ್ನೆಗಳ ಸಂಖ್ಯೆಯನ್ನು ತಪ್ಪಿಲ್ಲದೆ ಬರೆಯಿರಿ.

ವಿಭಾಗ- ಎ	
ವಾಚನಾ ಮತ್ತು ಗ್ರಹಿಕಾ ಕೌಶಲ್ಯ-	- 10 ಅಂಕಗಳು
ಅನ್ವಯಿಕ ವ್ಯಾಕರಣ	- 16 ಅಂಕಗಳು
ಪರಿತ ಗದ್ಯ -ಪದ್ಯ	- 10 ಅಂಕಗಳು
ಬಹು ಆಯ್ಕೆ ಪ್ರಶ್ನೆಗಳು (ಪಠ್ಯಗಳ ಅಧ್ಯಯನ)	- 4 ಅಂಕಗಳು
ವಿಭಾಗ - ಬಿ	
ಬರವಣಿಗೆ ಕೌಶಲ್ಯ	- 12 ಅಂಕಗಳು
ಪಠ್ಯಗಳ ಅಧ್ಯಯನ	- 28 ಅಂಕಗಳು
ಒಟ್ಟು	80 ಅಂಕಗಳು

ವಿಭಾಗ- ಎ

1.(ಅ) ಕೆಳಗಿನ ಗದ್ಯಭಾಗವನ್ನು ಓದಿಕೊಂಡು, ಕೊಟ್ಟಿರುವ ಬಹು ಆಯ್ಕೆ ಪ್ರಶ್ನೆಗಳಿಗೆ ಉತ್ತರಿಸಿ. (1X5=5)

ಮುದ್ದೇನ ಹಳ್ಳಿ ಎಂಬ ಊರಲ್ಲಿ ವಿಶು ಎಂಬ ಹುಡುಗನಿದ್ದನು. ಆ ಊರಿನಲ್ಲಿ ಶಾಲೆ ಇರಲಿಲ್ಲ. ಆದುದರಿಂದ ವಿದ್ಯಾಭ್ಯಾಸಕ್ಕಾಗಿ ಅವರ ತಂದೆ ಶ್ರೀನಿವಾಸ ಶಾಸ್ತ್ರಿಗಳು ಚಿಕ್ಕಬಳ್ಳಾಪುರದಲ್ಲಿರುವ ಶಾಲೆಗೆ ಸೇರಿಸಿದರು. ಅವನಿಗೆ ಗುರುಗಳ ಬಗ್ಗೆ ತುಂಬಾ ಭಕ್ತಿ, ಪೂಜ್ಯ ಭಾವನೆಯಿತ್ತು. ಅಲ್ಲಿಯೇ ಪ್ರೌಢಶಾಲೆಯ ಶಿಕ್ಷಣವನ್ನು ಮುಗಿಸಿದನು. ವಿಶುವಿನ ತಂದೆಯವರ ಅಕಾಲಿಕ ಮರಣದನಂತರ ಮನೆಯ ಪೂರ್ಣ ಜವಾಬ್ದಾರಿ ಇವನ ಮೇಲೆ ಬಿತ್ತು. ವಿಶು ಧೈರ್ಯವನ್ನು ಕಳೆದು ಕೊಳ್ಳಲಿಲ್ಲ. ಹೆಚ್ಚಿನ ಓದಿಗಾಗಿ ಬೆಂಗಳೂರಿಗೆ ಬಂದನು. ಓದಿನ ಜೊತೆಗೆ ಮನೆಪಾಠವನ್ನು ಹೇಳಿ ಬಂದ ಹಣದಲ್ಲಿ ತಾಯಿಗೆ ಒಂದಿಷ್ಟು ಹಣವನ್ನು ಕಳುಹಿಸುತ್ತಿದ್ದನು. ಉನ್ನತ ವ್ಯಾಸಂಗವನ್ನು ಬೆಂಗಳೂರಿನ ಸೆಂಟ್ರಲ್ ಕಾಲೇಜಿನಲ್ಲಿ ಪಡೆದನು. ಹಣದ ತೊಂದರೆಯ ನಡುವೆಯು ಉನ್ನತ ಶ್ರೇಣಿಯಲ್ಲಿ ಪಾಸಾಗುತ್ತಿದ್ದನು.

ಇವರು ಮುಂದೆ ಪುಣೆಯ ವಿದ್ಯಾಲಯದಲ್ಲಿ ಇಂಜಿನಿಯರಿಂಗ್ ಅಭ್ಯಾಸ ಮಾಡಿದರು. ವಿಶು ಮುಂದೆ ದೊಡ್ಡ ಇಂಜಿನಿಯರ್ ಆದನು. ಇಂತಹ ವಿದ್ಯಾರ್ಥಿ, ವಿನಯಶೀಲರೂ ನಮ್ಮ ಕನ್ನಡ ನಾಡಿನ ಹೆಮ್ಮೆಯ ಪುತ್ರ ಸರ್, ಎಂ, ವಿಶ್ವೇಶ್ವರಯ್ಯನವರು. ಅವರ ಬದುಕು ಅನುಸರಣೀಯ. ಅವರು ನೂರ ಎರಡು (102) ವರ್ಷಗಳ ತುಂಬು ಜೀವನ ನಡೆಸಿದರು. 15 ಸೆಪ್ಟೆಂಬರ್ 1960ರಂದು ಅವರಿಗೆ ನೂರು ವರ್ಷ ತುಂಬಿದಾಗ ಇಡೀ ದೇಶವೇ ಶತಮಾನೋತ್ಸವವನ್ನು ಆಚರಿಸಿತು. ಆ ದಿನದ ಸವಿನೆನಪಿಗಾಗಿ ಪ್ರತಿ ವರ್ಷ ಸೆಪ್ಟೆಂಬರ್ 15ರಂದು 'ಇಂಜಿನಿಯರ್ಸ್ ಡೇ' ಎಂಬುದಾಗಿ ಆಚರಿಸುತ್ತಾರೆ.

ಪ್ರಶ್ನೆಗಳು:-

1) ವಿಶುವಿನ ತಂದೆಯ ಹೆಸರು _____

1. ಶ್ರೀನಿವಾಸ ಶಾಸ್ತ್ರಿ, 2. ಶ್ರೀನಿವಾಸ ಪ್ರಭು
3. ಶ್ರೀನಿವಾಸ ದಾಸ 4. ಶ್ರೀನಿವಾಸ ದೇವ

2) ವಿಶ್ವರವರು ಹೆಚ್ಚಿನ ಓದಿಗಾಗಿ ಇಲ್ಲಿಗೆ ಹೋದನು _____

1. ಮಂಗಳೂರು 2. ಬೆಂಗಳೂರು 3. ಕಾರವಾರ 4. ಹಾಸನ

3) ಸರ್. ಎಂ.ವಿಯವರು _____ ವರ್ಷಗಳ ಕಾಲ ತುಂಬು ಜೀವನ ನಡೆಸಿದರು

1. 101 ವರ್ಷ 2. 102 ವರ್ಷ
3. 103 ವರ್ಷ 4. 104 ವರ್ಷ

4) ಸೆಪ್ಟೆಂಬರ್ 15ರಂದು ಯಾವ ದಿನಾಚರಣೆಯನ್ನು ಆಚರಿಸಲಾಗುತ್ತದೆ

1. ಶಿಕ್ಷಕರ ದಿನಾಚರಣೆ 2. ಮಕ್ಕಳ ದಿನಾಚರಣೆ
3. ಗಾಂಧೀಜಯಂತಿ 4. ಇಂಜಿನಿಯರ್ಸ್ ಡೇ

5) ವಿಶ್ವ ಓದಿನ ಜೊತೆಗೆ _____ ಪಾಠವನ್ನು ಹೇಳಿಕೊಡುತ್ತಿದ್ದನು.

1. ಆಟ 2. ಮನೆ 3. ಹೊಸ 4. ನೀತಿ

(ಆ). ಕೆಳಗಿನ ಗದ್ಯಭಾಗವನ್ನು ಓದಿಕೊಂಡು, ಕೊಟ್ಟಿರುವ ಬಹು ಆಯ್ಕೆ ಪ್ರಶ್ನೆಗಳಿಗೆ ಉತ್ತರಿಸಿ.

(1X5=5)

ಮರಗಳಲ್ಲಿಯೇ ತೆಂಗಿನ ಮರವನ್ನು ಕಲ್ಪವೃಕ್ಷ, ಕಲ್ಪತರು ಎಂದು ಕರೆಯುತ್ತಾರೆ. ಇದು ಮಾನವನಿಗೆ ಹಲವಾರು ರೀತಿಯಲ್ಲಿ ಉಪಯೋಗಿಯಾಗಿದೆ. ತೆಂಗಿನ ಪ್ರತಿಯೊಂದು ಭಾಗವೂ ಸಹ ಮಾನವನಿಗೆ ಉಪಯುಕ್ತ. "ತೆಂಗನ್ನು ಬೆಳೆ, ಬಡತನ ಕಳೆ" ಎಂಬ ಗಾದೆಯಿದೆ. ಭಾರತದ ಅತ್ಯಂತ ಪ್ರಾಚೀನ ಬೆಳೆಗಳಲ್ಲಿ ತೆಂಗಿನ ಮರಕ್ಕೆ ಪ್ರಮುಖ ಸ್ಥಾನವಿದೆ. ಸುಮಾರು ವರ್ಷಗಳ ಹಿಂದೆ ಸಮುದ್ರದಿಂದ ಆವೃತ ಪ್ರದೇಶವಾಗಿದ್ದ ರಾಜಸ್ಥಾನದ ಮರಳುಗಾಡಿನಲ್ಲಿ ತೆಂಗಿನ ಜಾತಿಯ ಅವಶೇಷಗಳು ದೊರೆತವು. ತೆಂಗನ್ನು ನಾರಿಕೇಳ ಫಲವೆಂದು ಗೌರವಿಸುತ್ತಾರೆ. ಇದು ಶುಭಸೂಚಕವಾಗಿದೆ. ಕಳಶದ ಮೇಲೆ ತೆಂಗಿನ ಕಾಯಿಯನ್ನಿಟ್ಟು ಪೂಜಿಸುತ್ತಾರೆ.

ಪರಶುರಾಮನು ದೇವಲೋಕದಿಂದ ಈ ವೃಕ್ಷವನ್ನು ತಂದು ಭೂಲೋಕದ ಜನರಿಗೆ ನೀಡಿದನೆಂಬ ದಂತಕಥೆಯಿದೆ. ತೆಂಗು ಏಕಕಾಂಡ ವೃಕ್ಷಗಳ ಗುಂಪಿಗೆ ಸೇರಿದೆ. ತೆಂಗಿನ ಕಾಯಿ ಪೂರ್ಣ ಬಲಿಯದೆ ಇದ್ದು, ಪ್ರಾರಂಭದಲ್ಲೆ ಇರುವಾಗ ಅದರಲ್ಲಿ ಸಿಹಿಯಾದ ನೀರು ತುಂಬಿರುತ್ತದೆ. ಇದನ್ನು 'ಎಳನೀರು' ಎಂದು

ಕರೆಯುತ್ತಾರೆ. ಬಲಿತ ತೆಂಗನ್ನು ಅಡುಗೆ, ಎಣ್ಣೆ ಮೊದಲಾದವುಗಳಿಗೆ ಬಳಸುತ್ತಾರೆ. ತೆಂಗು ಇದು 'ಪಾಮೇಸಿ' ಸಸ್ಯವರ್ಗಕ್ಕೆ ಸೇರಿದೆ.

ಪ್ರಶ್ನೆಗಳು:-

1) ತೆಂಗು ಈ ಸಸ್ಯವರ್ಗಕ್ಕೆ ಸೇರಿದೆ _____

1. ಪಾಮೇಸಿ 2. ಪರಮೇಶಿ 3. ಪಾರಸಿ 4. ಪಾರ್ಸಿ

2) ತೆಂಗಿನ ಮರವನ್ನು ಈ ಹೆಸರಿನಿಂದ ಕರೆಯುತ್ತಾರೆ _____

1. ಕಸವೃಕ್ಷ 2. ಕಲ್ಪವೃಕ್ಷ 3. ಕಾರವೃಕ್ಷ 4. ಕಹಿವೃಕ್ಷ

3) ದೇವಲೋಕದಿಂದ ತಂದು ಭೂಲೋಕದ ಜನರಿಗೆ ಕೊಟ್ಟವನು _____

1. ಶ್ರೀರಾಮ 2. ಜಯರಾಮ 3. ಪರಶುರಾಮ 4. ಸೀತಾರಾಮ

4) ಎಳ ನೀರಿನಲ್ಲಿ _____ ನೀರು ತುಂಬಿರುತ್ತದೆ.

1. ಸಿಹಿಯಾದ 2. ಹುಳಿಯಾದ 3. ಕಹಿಯಾದ 4. ಉಪ್ಪಾದ

5) ತೆಂಗಿನ ಬಗ್ಗೆ ಇರುವ ಗಾದೆಯನ್ನು ಪೂರ್ತಿಗೊಳಿಸಿ, ತೆಂಗನ್ನು ಬೆಳೆ _____

1. ಬಡತನ ಬೆಳೆ 2. ಬಡತನ ಕಳೆ 3. ಬಡತನ ಎಳೆ 4. ಬಡತನ ಹೊಳೆ

II. ಕೆಳಗಿನ ಪ್ರಶ್ನೆಗಳಿಗೆ ನಾಲ್ಕು ಉತ್ತರಗಳನ್ನು ಕೊಡಲಾಗಿದೆ. ಅವುಗಳಲ್ಲಿ ಸರಿಯಾದ ಉತ್ತರವನ್ನು ಆರಿಸಿ ಬರೆಯಿರಿ. (1X16=16)

1) 'ಚಿತ್ತ' - ಈ ಪದದ ಅರ್ಥ _____

1. ಸಾರ 2. ಸತ್ತ್ವ 3. ಮನಸ್ಸು 4. ಪ್ರೀತಿ

2) 'ಶಿಸ್ತು' - ಈ ಪದದ ವಿರುದ್ಧ ಪದ _____

1. ಅಶಿಸ್ತು 2. ಸುಸ್ತು 3. ಅಸ್ತು 4. ವಾಸ್ತು

3) 'ಬಾಲಕ' ಈ ಪದದ ಅನ್ಯಲಿಂಗ ರೂಪ _____

1. ಬಾಲಕನು 2. ಬಾಲಕರು 3. ಬಾಲಕನ 4. ಬಾಲಕಿ

4) 'ಗುಡಿಗಳು' ಈ ಪದದ ಏಕವಚನ ರೂಪ _____

1. ಗುಡಿ 2. ಗುಡಿಗೆ 3. ಗುಡಿಗಳು 4. ಗುಂಡಿ

5) 'ಅರಿಯುತ್ತ' ಪದ್ಯದಲ್ಲಿರುವಂತೆ ಈ ಪದದ ಪ್ರಾಸಪದ _____

1. ಜರಿಯು 2. ಕುಣಿಯು 3. ಬರೆಯುತ್ತ 4. ನಲಿಯು

- 6) ಕೆಳಗಿನವುಗಳಲ್ಲಿ ಅಂಕಿತನಾಮಕ್ಕೆ ಉದಾಹರಣೆ _____
 1.ಪರ್ವತ 2.ಅಂಬೇಡ್ಕರ್ 3.ಕಿವುಡ 4.ಅಡವಿ
- 7) ಈ ಕೆಳಗಿನವುಗಳಲ್ಲಿ ಸರ್ವನಾಮ ಪದ _____
 1.ಅವಳು 2.ಭೀಮ 3.ಹನುಮ 4.ಸಾವಿತ್ರಿ
- 8) ಅವನು ಎಲ್ಲಿಗೆ ಹೋದನು ? ಈ ವಾಕ್ಯದಲ್ಲಿರುವ ಚಿಹ್ನೆ _____
 1.ಉದ್ಧರಣ 2.ಅಲ್ಪಪ್ರಾಣ 3.ಪ್ರಶ್ನಾರ್ಥಕ 4.ಪೂರ್ಣವಿರಾಮ
- 9) 'ಬಾನಿನೆಡೆಗೆ' ಈ ಪದವನ್ನು ಬಿಡಿಸಿದಾಗ _____
 1.ಬಾನಿ + ನೆಡೆಗೆ 2.ಬಾನಿನ + ಎಡೆಗೆ
 3.ಬಾನಿನೆಡೆ + ಗೆ 4.ಬಾ + ನಿನೆಡೆಗೆ
- 10) ಹುಲಿಯು ಜಿಂಕೆಯನ್ನು ತಿಂದಿತು ಇಲ್ಲಿರುವ ಕ್ರಿಯಾಪದ _____
 1.ಹುಲಿಯು 2.ಜಿಂಕೆಯನ್ನು 3.ತಿಂದಿತು 4.ಯಾವುದುಅಲ್ಲ
- 11) ಶಾಲೆಯ ಗಂಟೆ ಧಣಧಣ ಬಾರಿಸಿತು ಇಲ್ಲಿರುವ ಅನುಕರಣಾವ್ಯಯ _____
 1.ಧಣಧಣ 2.ಗಂಟೆ 3.ಬಾರಿಸಿತು 4.ಶಾಲೆಯ
- 12) ಕೆಳಗಿನವುಗಳಲ್ಲಿ ಜೋಡಿಪದಕ್ಕೆ ಉದಾಹರಣೆ _____
 1.ಬಾನುಬಾನು 2.ಭಾನುನೀನು 3.ಹಳ್ಳಕೊಳ್ಳ 4.ತಾಣಮಾಣ
- 13) 'ಮೇಲಕೆ + ಏರಿ' ಈ ಪದವನ್ನು ಕೂಡಿಸಿ ಬರೆದಾಗ _____
 1. ಮೇಲೇರಿ 2.ಮೇಲಕೇರಿ 3.ಮೈಲಾರಿ 4.ಮೇಲೆ ಏರಿ
- 14) ಕಾಮನಬಿಲ್ಲು ಬಣ್ಣಬಣ್ಣ ದಿಂದ ಸುಂದರವಾಗಿ ಕಾಣುತ್ತದೆ ಈ ವಾಕ್ಯದಲ್ಲಿರುವ ದ್ವಿರುಕ್ತಿ ಪದ _____
 1.ಬಣ್ಣಬಣ್ಣ 2.ಸುಂದರವಾಗಿ 3.ಕಾಮನಬಿಲ್ಲು 4.ಕಾಣುತ್ತದೆ
- 15) ಕೈ ಕೆಸರಾದರೆ ಬಾಯಿ _____ ಗಾದೆಯನ್ನು ಪೂರ್ತಿಗೊಳಿಸಿ
 1.ಮೊಸರು 2.ಹಸಿರು 3.ಉಸಿರು 4.ಹೆಸರು
- 16) ರಾಮನು ಪಾಠವನ್ನು ಬೇಗನೆ ಓದಿದನು ಇಲ್ಲಿರುವ ಕರ್ತೃ ಪದ _____
 1. ಪಾಠವನ್ನು 2.ರಾಮನು 3. ಓದಿದನು 4.ಬೇಗನೆ

III. ಕೆಳಗಿನ ಪ್ರಶ್ನೆಗಳಿಗೆ ನಾಲ್ಕು ಉತ್ತರಗಳನ್ನು ಕೊಡಲಾಗಿದೆ. ಅವುಗಳಲ್ಲಿ ಸರಿಯಾದ ಉತ್ತರವನ್ನು ಆರಿಸಿ ಬರೆಯಿರಿ. (1X4=4)

1) ಪಾಣಿನಿ ಯಾವ ಭಾಷೆಯಲ್ಲಿ ವ್ಯಾಕರಣ ರಚಿಸಿದ್ದಾನೆ _____

- 1.ಕನ್ನಡ 2.ತೆಲುಗು 3.ಸಂಸ್ಕೃತ 4.ಇಂಗ್ಲಿಷ್

2) ಕನ್ನಡ ನುಡಿ 'ಕವಿತೆಯನ್ನು ಬರೆದ ಕವಿ _____

- 1.ಎ.ಕೆ.ರಾಮೇಶ್ವರ 2. ಬೇಂದ್ರೆ
3.ಜಯಗೋಪಾಲ 4.ಪ.ಗು.ಸಿದ್ದಾಪುರ

3) ನವಿಲು ಇವರಿಗೆ ವಾಹನವಾಗಿದೆ _____

- 1.ಗಣೇಶ 2.ಷಣ್ಮುಖ 3.ಶಿವ 4.ಹನುಮ

4) ಹದಿಬದೆಯ ಧರ್ಮ' ಗ್ರಂಥವನ್ನು ಬರೆದವರು _____

1. ರಾಣಿ ಚೆನ್ನಮ್ಮ 2.ಆಯ್ಕೆ ಲಕ್ಷ್ಮಮ್ಮ
3.ಅಮುಗೆ ರಾಯಮ್ಮ 4.ಸಂಚಿಯ ಹೊನ್ನಮ್ಮ

IV. (ಅ) ಕೆಳಗಿನ ಪರಿತ ಗದ್ಯ 'ನವಿಲು' ಪಾಠವನ್ನು ಓದಿಕೊಂಡು, ಕೊಟ್ಟಿರುವ ಬಹು ಆಯ್ಕೆ ಪ್ರಶ್ನೆಗಳಿಗೆ ಉತ್ತರಿಸಿ: (1X5=5)

ಜುಳುಜುಳು ಹರಿಯುವ ನದಿ, ಹಚ್ಚಹಸಿರಿನ ಮೈದಾನ, ಕರಿಮೋಡದ ಅಲೆಗಳು, ಜಿನುಗುವ ಸೋನೆ ಮಳೆ, ಆಗ ಹಕ್ಕಿಯೊಂದು ರೆಕ್ಕೆ ಬಿಚ್ಚಿ ಕುಣಿಯಲು ಆರಂಭಿಸಿತು. ಉದ್ದವಾದ ಗರಿ ಕೆದರಿತು. ಅದು ಬೀಸಣಿಗೆಯಂತೆ ಕಾಣುತ್ತಿದೆ. ಅದರ ಗರಿಗಳಲ್ಲಿ ಸಾವಿರಾರು ಕಣ್ಣುಗಳಿವೆ. ಅವು ಫಳಫಳ ಹೊಳೆಯುತ್ತಿವೆ. ಅದು ಧಕಧ್ಯೆ ಎಂದು ಕುಣಿಯುತ್ತಿದೆ. ಅದೇ ನವಿಲು.

ನವಿಲನ್ನು ಮಯೂರ, ಶಿಖಿ, ಸಹಸ್ರಾಕ್ಷ ಎಂದು ಕರೆಯುತ್ತಾರೆ. ನವಿಲು ಗರಿಗಳಲ್ಲಿ ಹೊಳಪುಳ್ಳ ಕಣ್ಣಿದೆ. ಅದು ಹಸಿರು ಮಿಶ್ರಿತ ನೀಲಿ ಬಣ್ಣದಿಂದ ಸಿಂಗಾರಗೊಂಡಿದೆ. ಅದರ ಸುತ್ತ ತಾಮ್ರ ಮಿಶ್ರಿತ ಬಂಗಾರ ವರ್ಣದ ಉಂಗುರ ಚಮಕಿಸುತ್ತಿವೆ. ಆದ್ದರಿಂದ ನವಿಲನ್ನು ಸಾವಿರ ಕಣ್ಣುಳ್ಳ ಸಹಸ್ರಾಕ್ಷ ಎಂದು

ಕರೆಯುತ್ತಾರೆ. ಕವಿಗಳು ನವಿಲಿನ ರೂಪ ಲಾವಣ್ಯಕ್ಕೆ ಮನಸೋತಿದ್ದಾರೆ. ಆದ ಕಾರಣ ಇದು 'ರಾಷ್ಟ್ರಪಕ್ಷಿ' ಎಂಬ ಗೌರವ ಹೊಂದಿದೆ. ನವಿಲು ನೋಡಲು ಎಷ್ಟು ಸುಂದರವೋ ಅಷ್ಟೇ ಶಿಸ್ತಿನ ಸಿಪಾಯಿ. ಇದು ರೈತನ ಮಿತ್ರ. ನವಿಲು ಇರುವ ಪ್ರದೇಶದಲ್ಲಿ ಹಾವುಗಳು ಸುಳಿಯಲಾರವು.

ಪ್ರಶ್ನೆಗಳು:-

1) ನವಿಲು ಕುಣಿಯುವುದು ಹೀಗೆ _____

- 1.ಸೈ-ಸೈ 2.ಧಕಧೈ 3.ಧಿಮಿ-ಧಿಮಿ 4.ಪಟ-ಪಟ

2) ನವಿಲು ಸಾವಿರ ಕಣ್ಣುಗಳನ್ನು ಹೊಂದಿದೆ ಆದ್ದರಿಂದ ಅದನ್ನು ಹೀಗೆ ಕರೆಯುತ್ತಾರೆ _____

1. ಶತಸ್ರಾಕ್ಷ 2.ಸಹಸ್ರಾಕ್ಷ 3.ದಶಾಕ್ಷ 4.ನಯನಾಕ್ಷ

3) ನವಿಲು ನೋಡಲು ಎಷ್ಟು ಸುಂದರವೋ ಅಷ್ಟೇ _____

1. ಶಿಸ್ತಿನ ಸಿಪಾಯಿ 2. ಸಿಟ್ಟಿನ ಸಿಪಾಯಿ
3. ದೊಡ್ಡ ಸಿಪಾಯಿ 4.ಸಣ್ಣ ಸಿಪಾಯಿ

4) ನವಿಲು ಇರುವ ಪ್ರದೇಶಗಳಲ್ಲಿ ಇವು ಸುಳಿಯಲಾರವು _____

1. ಹಕ್ಕಿಗಳು 2.ಕೀಟಗಳು 3.ಹಾವುಗಳು 4.ಮೊಲಗಳು

5) ನವಿಲು ಹೊಂದಿರುವ ಗೌರವ _____

1. ನಮ್ಮಪಕ್ಷಿ 2.ರಾಷ್ಟ್ರಪಕ್ಷಿ 3.ದೊಡ್ಡ ಪಕ್ಷಿ 4.ನಿಮ್ಮ ಪಕ್ಷಿ

(ಆ) ಕೆಳಗಿನ ಪದ್ಯಬಾಗ 'ಗೂಡಿನಿಂದ ಬಾನಿನೆಡೆಗೆ' ಓದಿಕೊಂಡು, ಕೊಟ್ಟಿರುವ

ಬಹು ಆಯ್ಕೆ ಪ್ರಶ್ನೆಗಳಿಗೆ ಉತ್ತರಿಸಿ:

(1X5=5)

ಗೂಡಿನಿಂದ ಬಾನಿನೆಡೆಗೆ
ಹಕ್ಕಿ ಹಾರಿತು
ರೆಕ್ಕೆ ಬಡಿದು ಬಡಿದು ಹಕ್ಕಿ
ಮೇಲಕೇರಿತು (1)

ಮೇಲ ಮೇಲಕೇರಿ ಹಕ್ಕಿ
ಕೆಳಗೆ ನೋಡಿತು
ಹಳ್ಳಕೊಳ್ಳ ಹಸಿರು ಬೆಟ್ಟ
ಕಂಡು ಹಾಡಿತು (2)

ಏನು ಅಂದ ಏನು ಚಂದ
ಗೂಡಿನಾಚೆಗೆ
ಗೂಡು ತೊರೆದು ಹಾರಬೇಕು
ನಿತ್ಯ ಬಾನಿಗೆ (3)

ಸಗ್ಗ ಸುಖವು ಕಂಡ ಹಾಗೆ
ಹಿಗ್ಗಿ ಆಡಿತು
ಆಡಿ ಆಡಿ ಹಕ್ಕಿ ಮರಳಿ
ಗೂಡು ಸೇರಿತು (4)

ಅಮ್ಮ ಮರಳಿ ಮನೆಗೆ ಬರಲು
ಹಿಗ್ಗಿ ಹೇಳಿತು
ಆಡಿ ಬಂದೆ ಗೂಡಿನಾಚೆಗೆ
ಎಂದು ನಕ್ಕಿತು (5)

ತೀರಲಿಲ್ಲ ಕಂದ ನೀನು
ನೋಡು ತಾಣವು
ಬೆಳೆದ ಮೇಲೆ ತಿಳಿವುದಾಗ
ಜಗದ ಲೀಲೆಯು (6)

ಪ್ರಶ್ನೆಗಳು:-

- 1) ಹಕ್ಕಿ ಇದನ್ನು ಬಡಿದು ಬಡಿದು ಮೇಲಕ್ಕೇರಿತು
1.ರಕ್ಕೆ 2.ಪಕ್ಕೆ 3.ಕೆಕೆ 4.ಬೇಕೆ
- 2) ಹಕ್ಕಿ ಗೂಡಿನಿಂದ ಹಾರಿದ್ದು ಇಲ್ಲಿಗೆ
1.ಕಾಡಿಗೆ 2.ಬಾನಿಗೆ 3.ನಾಡಿಗೆ 4.ಹಾಡಿಗೆ
- 3) ಆಡಿ ಬಂದೆ ಗೂಡಿನಾಚೆಗೆ ಎಂದು ಹೇಳಿದ್ದು _____
1.ನಾಡಹಕ್ಕಿ 2.ದೊಡ್ಡಹಕ್ಕಿ 3.ಮರಿಹಕ್ಕಿ 4.ಬಿಳಿಹಕ್ಕಿ
- 4) ಗೂಡಿನಾಚೆಗಿನ ಚಂದವು ಹಕ್ಕಿಗೆ _____ ಕಂಡಂತಾಯಿತು.
1.ಸಗ್ಗಸುಖ 2.ಜಗದಸುಖ 3.ಮನದಸುಖ 4.ದೊಡ್ಡಸುಖ
- 5) ಬೆಳೆದ ಮೇಲೆ ತಿಳಿಯುವುದು _____
1.ದೇವರ ಲೀಲೆ 2.ಜಗದಲೀಲೆ 3.ಬಾನ ಲೀಲೆ 4.ಮನದ ಲೀಲೆ

ವಿಭಾಗ - ಬಿ

V. ಎರಡು ದಿನ ರಜೆಬೇಕೆಂದು ಕೇಳಿ ನಿಮ್ಮ ಶಾಲೆಯ ಮುಖ್ಯ ಶಿಕ್ಷಕರಿಗೊಂದು ರಜಾ ಪತ್ರವನ್ನು ಬರೆಯಿರಿ: (4)

VI. ಕೆಳಗಿನ ಚಿತ್ರವನ್ನು ಗಮನಿಸಿ 5/6 ವಾಕ್ಯಗಳಲ್ಲಿ ನಿಮ್ಮ ಅನಿಸಿಕೆಯನ್ನು ಬರೆಯಿರಿ: (4)



VII. ಸುಳಿವು ಪದಗಳನ್ನು ಬಳಸಿ, ಕೊಟ್ಟಿರುವ ಘಟನೆಯನ್ನು ಪೂರ್ಣಗೊಳಿಸಿ. (1/2x8=4)

(ಅಪಘಾತ, ಸುಗಮ, ಹಳದಿ, ಬಹಳ, ಹೊರಡಿ, ಜೀಬ್ರಾ, ವಾಹನ, ದೀಪ)

ರಸ್ತೆಯನ್ನು ದಾಟಲು ಮತ್ತು ವಾಹನಗಳ _____ ಸಂಚಾರಕ್ಕೆ ರಸ್ತೆ ನಿಯಮಗಳು _____ ಮುಖ್ಯ. ಸಂಚಾರ ನಿಯಮಗಳು _____ ಗಳನ್ನು ತಪ್ಪಿಸುತ್ತದೆ. ವಾಹನಗಳು ರಸ್ತೆಯ ಸೂಚನಾ _____ ಗಳನ್ನು ನೋಡಿ ಚಲಿಸಬೇಕು. ಕೆಂಪು ದೀಪ ಇದ್ದಾಗ _____ ಗಳು ನಿಲ್ಲಬೇಕು. _____ ದೀಪ ಬಂದಾಗ ಹೊರಡಲು ತಯಾರಾಗಿರಬೇಕು. ಹಸಿರು ದೀಪ ಬಂದಾಗ _____ ಎಂದು ಅರ್ಥ. ಪಾದಚಾರಿಗಳಿಗೆ ರಸ್ತೆ ದಾಟಲು _____ ಪಟ್ಟಿಗಳಿರುತ್ತವೆ.

(ಪಠ್ಯಗಳ ಅಧ್ಯಯನ- ೨೮ ಅಂಕಗಳು)

VIII. ಕೆಳಗಿನ ಪ್ರಶ್ನೆಗಳಿಗೆ ಒಂದು ವಾಕ್ಯದಲ್ಲಿ ಉತ್ತರಿಸಿ.

(1x4=4)

1. 'ವಂದೇ ಮಾತರಂ' ಗೀತೆಯನ್ನು ರಚಿಸಿದವರು ಯಾರು?
2. ಶರಣರು ರಚಿಸಿದ ಸಾಹಿತ್ಯ ಯಾವುದು?
3. ಪ್ರಾಚೀನ ಭಾರತದ ಅತಿದೊಡ್ಡ ಗುರುಕುಲ ಯಾವುದು?
4. ಕನ್ನಡದ ನುಡಿಯಲ್ಲಿ ಏನು ತುಂಬಿದೆ?

IX. ಕೆಳಗಿನ ಪ್ರಶ್ನೆಗಳಿಗೆ ಎರಡು ವಾಕ್ಯಗಳಲ್ಲಿ ಉತ್ತರಿಸಿ.

(2x4=8)

1. ಕಾಗೆಯು ಪಾರಿವಾಳಗಳಿಗೆ ಏನೆಂದು ಹುರಿದುಂಬಿಸಿತು?
2. ಭಾರತೀಯರಲ್ಲಿ ಎಂತಹ ಗುಣ ಸ್ವಭಾವಗಳಿವೆ?
3. ಕನ್ನಡದ ನುಡಿಯಲ್ಲಿ ಏನೇನು ಅಡಗಿದೆ?
4. 'ಅಪಾಯದಿಂದ ಪಾರಾದ ಪಾರಿವಾಳಗಳು' ಕಥೆಯ ನೀತಿ ಏನು?

X. ಯಾರು, ಯಾರಿಗೆ, ~~ಯಾರು~~ ಹೇಳಿದರು?


(2x2=4)

1. "ಇಗೋ ನೋಡು, ವಿದ್ಯಾರೇಖೆ"
2. "ಅವನ ಕೈಯಲ್ಲಿ ವಿದ್ಯಾರೇಖೆಯಿಲ್ಲ, ವಿದ್ಯೆ ಹತ್ತುವುದಿಲ್ಲ"

XI. ಕೆಳಗಿನ ಪ್ರಶ್ನೆಗಳಿಗೆ 3-4 ವಾಕ್ಯಗಳಲ್ಲಿ ಉತ್ತರಿಸಿ.

(3x4=12)

1. ಬಾಲಕ ತನ್ನ ಕೈಯಲ್ಲಿ ವಿದ್ಯಾರೇಖೆಯನ್ನು ಹೇಗೆ ಮೂಡಿಸಿದನು?
2. ಜಾನಪದದಲ್ಲಿ ಮೂಡಿದ ಸತ್ಯದ ಬದುಕಿನ ಚರಿತ್ರೆ ಯಾವುದು? ಅದು ಏನನ್ನು ತಿಳಿಸುತ್ತದೆ?
3. ದಾಸ ಸಾಹಿತ್ಯವನ್ನು ಕವಿ ಹೇಗೆ ಬಣ್ಣಿಸಿದ್ದಾರೆ?
4. ನಮ್ಮ ರಾಷ್ಟ್ರಧ್ವಜದಲ್ಲಿರುವ ಮೂರು ಬಣ್ಣಗಳಾವುವು ಮತ್ತು ಅದರ ವಿಶೇಷತೆಗಳೇನು?



SINDHI HIGH SCHOOL, BENGALURU
HALF YEARLY EXAMINATION (2022-23)
Subject - Additional Hindi

Class: V

Marks: 80

Date: 23/09/2022

Timings: 2½ hrs

Number of printed sides: 6

Reading Time: 8:00 to 8:15 am

Writing Time: 8:15 to 10:45 am

Instructions:

- Write your Name, Roll number, Section in the answer script.
- Read all the Questions carefully.
- Answer all the Questions and write neatly.

निर्देश-

- इस प्रश्न-पत्र में चार खंड हैं-क, ख, ग और घ
- खंड क- अपठित गद्यांश 10 अंक
- खंड ख- व्याकरण 25 अंक
- खंड ग- पाठ्यपुस्तक 35 अंक
- खंड घ- लेखन 10 अंक
- सभी प्रश्नों के उत्तर क्रमानुसार लिखिए।
- सभी खंडों के सभी प्रश्नों के उत्तर देना अनिवार्य है।
- शब्द सीमा में लिखिए।

1. क) दिए गए गद्यांश को ध्यानपूर्वक पढ़कर पूछे गए प्रश्नों के सही विकल्प चुनकर लिखिए। 5

नितिन एक समझदार और बहादुर लड़का था। एक दिन वह खेलते-खेलते जंगल में काफी अंदर तक चला गया। तभी एक सियार की नज़र उस पर पड़ी। छोटे बच्चे को देखकर सियार के मुँह में पानी आ गया। सियार को देखते ही नितिन डर गया और उसने उससे बचने की योजना बनाई। सियार के पास आते ही वह उससे बोला, " मुझे खुशी है कि मुझे खाकर तुम्हारा पेट भर जाएगा। लेकिन मरने से पहले मुझे बाँसुरी बजा लेने दो। इससे मेरा स्वाद और अच्छा हो जाएगा।" स्वादिष्ट भोजन के लालच में उसे बाँसुरी बजाने दी। नितिन अपनी बाँसुरी बजाने लगा। बाँसुरी की आवाज़ सुनकर नितिन का कुत्ता भागता हुआ वहाँ आया। सियार को देखते ही कुत्ता आग बबूला हो गया और सियार की ओर दौड़ा। यह देखकर बेचारा सियार दुम दबाकर वहाँ से भाग गया और नितिन की जान बच गई।

क) नितिन कैसा लड़का था?

- i) समझदार और बहादुर
- iii) नालायक और मूर्ख

- ii) डरपोक और आलसी
- iv) कंजूस और मंदबुद्धि

ख) नितिन को देखकर सियार के मुँह में क्या आ गया ?

- i) नमक ii) पानी iii) सब्ज़ी iv) नज़र

ग) मरने से पहले नितिन क्या बजाना चाहता था ?

- i) ताली ii) सियार iii) बाँसुरी iv) तबला

घ) बाँसुरी की आवाज़ सुनकर कौन आया ?

- i) मेंढ़क ii) हिरन iii) चूहा iv) कुत्ता

ङ) “ मुँह में पानी आ जाना ” का अर्थ क्या होगा ?

- i) बहुत दुखी होना ii) चकित होना
iii) खाने की बहुत इच्छा होना iv) मन में प्रेम होना

ख) अपठित गद्यांश को पढ़कर दिए गए प्रश्नों के सही विकल्प चुनिए।

5

कश्मीर की घाटी संसार की सुंदर घाटियों में से एक है। यहाँ कहीं पहाड़ों में से गिरते झरने दिखाई देते हैं तो कहीं मीठे पानी की झीलें हैं। कहीं केसर की क्यारियाँ हैं तो कहीं धान के हरे-भरे खेत हैं। यहाँ चिनार के विशाल वृक्ष हैं। यहाँ सेब भरपूर मात्रा में होता है। कश्मीर का शालीमार बाग बादशाह जहाँगीर ने लगवाया था।

क) कश्मीर की घाटी कैसी है ?

1. संसार की सबसे सुंदर घाटी 2. संकरी घाटी
3. पथरीली घाटी 4. संसार की सुंदर घाटियों में से एक

ख) झरने कहाँ गिरते दिखाई देते हैं ?

1. पहाड़ों से 2. वृक्ष से
3. मैदानों से 4. पत्थरों से

ग) यहाँ किसकी क्यारियाँ हैं ?

1. धान की 2. केसर की
3. चिनार की 4. फलों की

घ) यहाँ कौन-सा फल भरपूर मात्रा में होता है ?

1. सेब का 2. जामुन का
3. आम का 4. काजू का

ड) शालीमार बाग किसने लगवाया था?

1. शाहजहाँ ने

2. जहाँगीर ने

3. अकबर ने

4. कोई नहीं

खंड- ख

- II. क) नीचे दिए गए शब्द का लिंग बदलिए - 1
लड़का
- ख) नीचे दिए गए शब्द का वर्ण-विच्छेद कीजिए- 2
1. दुबला 2. नेवला
- ग) उचित शब्द लिखकर वाक्य पूरे कीजिए । 2
1. रज्जी गुल्ली-डंडा और -----भी खेलता था ।(क्रिकेट, कंचे)
2. अब सब लोग रज्जी पर -----करने लगे ।(गर्व, गौरव)
- घ) नीचे दिए गए शब्द के विलोम शब्द लिखिए । 2
1. ऊँचा 2. दूर
- ङ) "आपा" प्रत्यय जोड़कर दो नए शब्द बनाइए । 2
- III. क) दिए गए उपसर्ग लगाकर दो नए शब्द बनाइए - 2
1. परि 2. उप
- ख) दिए गए शब्द के दो पर्यायवाची शब्द लिखिए - 2
सुबह
- ग) अनेक शब्दों के लिए एक-एक शब्द लिखिए । 2
1. अच्छी तरह निशाना लगाने वाला-
2. जिसे शाप दिया गया हो-
- घ) मुहावरों के अर्थ लिखिए । 2
1. दंग रह जाना 2. उल्लू बनाना
- ड) दिए गए वाक्यों में रेखांकित शब्द में कौन-सी संज्ञा है । 2
1. मेरा भारत महान है । 2. एक साँप था ।
- IV. क) निम्नलिखित अशुद्ध शब्दों को शुद्ध करके लिखिए । 2
1. तरकीव 2. प्रतीभा
- ख) नीचे लिखे श्रुतिसम भिन्नार्थक शब्दों के अर्थ लिखिए। 2
छटा और छठा
- ग) दिए गए वाक्यों को सही क्रम में लिखिए। 2
1. राजा का है फूलों गुलाब ।
2. नहीं चिड़िया भी कुछ समझी।

V. दिए गए पद्यांश को ध्यानपूर्वक पढ़कर पूछे गए प्रश्नों के सही विकल्प चुनकर लिखिए। 5

पिंजरे के तोते से बोली,
छत पर बैठी मैना
बड़े मजे से तुम रहते हो,
बोलो यह सच है ना?
बैठे-बैठे मिल जाते हैं,
भाँति-भाँति के व्यंजन।
काश! मुझे भी मिल पाता,
जो यह पिंजरे का बंधन॥
भोजन और जल की तलाश में,
हम दिन-रात भटकते।
तब जाकर दो-चार अन्नकण,
अपने पल्ले पड़ते।

1. मैना कहाँ बैठी थी ?
(क) छत पर (ख) स्कूल में (ग) महल में (घ) पिंजरे में
2. तोता कहाँ था?
(क) पेड़ पर (ख) पिंजरे में (ग) घर में (घ) खेत में
3. किसे बैठे-बैठे भोजन मिल जाता है?
(क) कौए को (ख) कोयल को (ग) तोते को (घ) मैना को
4. मैना दिन-रात किसलिए भटकती है?
(क) सैर करने के लिए (ख) पेड़ पर बैठने को
(ग) बातें करने को (घ) भोजन और जल की तलाश में
5. भाँति- भाँति के क्या हैं?
(क) फूल (ख) स्कूल (ग) महल (घ) व्यंजन

VI. (क) दिए गए गद्यांश को ध्यानपूर्वक पढ़कर पूछे गए प्रश्नों के सही विकल्प चुनकर लिखिए।

5

एक दिन शेखचिल्ली की अम्मी ने उससे कहा, "बेटे! अब मैं बूढ़ी हो गई हूँ और इस बुढ़ापे में मुझसे काम नहीं होता। अब तुम कोई काम धंधा शुरू करो।" शेखचिल्ली बोला, "आप ठीक कहती हैं। मैं काम की तलाश में जाता हूँ।" इतना कहकर शेख चिल्ली घर से निकल पड़ा। शेखचिल्ली मस्ती में झूमता हुआ चला जा रहा था। रास्ते में एक व्यक्ति अंडों का टोकरा पकड़े परेशान हालत में खड़ा था। उसने शेखचिल्ली को देखते हुए कहा, "ऐ भाई! इस टोकरे को मेरे घर तक पहुँचा दोगे, तो तुम्हें दो अंडे दूँगा।"

1. माँ ने शेखचिल्ली से क्या कहा?
(क) कुछ मत करो (ख) बरतन साफ़ करो

- (ग) काम -धंधा शुरु करो (घ) कोई नहीं
2. रास्ते में कौन खड़ा था?
 (क) एक व्यक्ति (ख) एक बूढ़ा
 (ग) एक मंत्री (घ) एक सिपाही
3. काम की तलाश में घर से कौन निकल पड़ा?
 (क) चोर (ख) मज़दूर
 (ग) एक लड़का (घ) शेखचिल्ली
4. टोकरी में क्या थे?
 (क) राखियाँ (ख) अंडे
 (ग) किताबें (घ) कपड़े
5. सेठ ने शेखचिल्ली से क्या कहा?
 (क) अंडे खरीदने को (ख) अंडों को चुराने को
 (ग) अंडों को धोने को (घ) अंडों की टोकरी को घर पहुँचाने को

(ख) दिए गए गद्यांश को ध्यानपूर्वक पढ़कर पूछे गए प्रश्नों के सही विकल्प चुनकर लिखिए। 5

एक साँप था। नाम था मंदविष। बूढ़ा होने के कारण न तो वह पूरी ताकत से दौड़ पाता था और न ही बड़े जीव-जंतुओं का शिकार कर पाता था। ऐसा कब तक चलता? भूख के कारण वह लगातार दुबला हुआ जा रहा था। आखिर उसके दिमाग में एक तरकीब आई। एक सुबह वह रेंगते हुए एक बड़े तालाब के पास पहुँचा और पसर गया। उस तालाब में मेढ़कों का निवास था।

1. साँप का नाम क्या था?

- (क) सुविष (ख) शरणविष
 (ग) राजविष (घ) मंदविष
2. बूढ़ा होने के कारण वह पूरी ताकत से क्या नहीं कर पाता था?
 (क) सुन (ख) बैठ
 (ग) दौड़ (घ) खड़ा
3. किसके कारण वह लगातार दुबला हुआ जा रहा था?
 (क) दौड़ के कारण (ख) सोते रहने के कारण
 (ग) भूख के कारण (घ) खेलने के कारण
4. एक सुबह वह रेंगते हुए कहाँ पहुँच गया?
 (क) महल के पास (ख) सड़क के पास
 (ग) पेड़ के पास (घ) तालाब के पास
5. तालाब में किसका निवास था?
 (क) मगरमच्छों का (ख) मेंढकों का
 (ग) कबूतरों का (घ) हिरनों का

VII. निम्नलिखित प्रश्नों के उत्तर एक वाक्य में लिखिए।

10 x 1 = 10

- 1) ऊँचा बनने की बात कौन कहता है?
- 2) पृथ्वी क्या कहती है?
- 3) मैना कहाँ बैठी थी? वह किससे बोली?
- 4) रज्जी कौन था?
- 5) मेढ़कराज ने मंदविष से क्या पूछा ?
- 6) गमले कौन सजा रहा था ?

- 7) चिड़िया कैसी थी? वह कहाँ बैठ गई ?
- 8) 'अंडे बेचकर शेखचिल्ली क्या खरीदना चाहता था ?
- 9) चिड़िया की बच्ची एकाएक क्यों घबरा गई?
- 10) गुलाब ने सहायता के लिए किसे पुकारा?

VIII. निम्नलिखित प्रश्नों के उत्तर लिखिए ।

5x2=10

- 1) रज्जी का पूरा नाम क्या था और वह कैसा लड़का था ?
- 2) मैना पिंजरे के अंदर क्यों जाना चाहती थी ?
- 3) माधवदास शाम का समय कैसे व्यतीत करते थे ?
- 4) गुलाब को शर्मिदा क्यों होना पड़ा ?
- 5) सारे अंडे कैसे टूट गए ?

खंड-घ

IX. क) नीचे दिए गए किसी एक विषय पर 40-50 शब्दों में अनुच्छेद लिखिए।

5

- i) मेरी प्रिय ऋतु
- ii) मेरा प्रिय फूल

ख) आपको दादी की बहुत याद आ रही है। दादी का हाल-चाल जानने के लिए पत्र लिखिए ।

5

या

परीक्षा में प्रथम आने पर अपने दोस्त को बधाई पत्र लिखें।



SINDHI HIGH SCHOOL, BENGALURU

HALF YEARLY EXAMINATION (2022 – 23)

Subject: MATHEMATICS

Class: V

Max Marks : 80

Date: 20.9. 2022

Time: 8:00 to 10:45am

No. of printed sides: 3

Reading Time: 8:00 to 8:15am

Writing time: 8:15 to 10:45am

General Instructions.

- Write your name, roll number, class/section, date and subject clearly in the answer script.
- Write the page number on the right hand side top corner of each side of the paper.
- All questions are compulsory.
- This question paper contains two sections, Section-A and Section-B.
- Section-A consists of 15 Multiple Choice Questions and 5 fill in the blanks of one mark each.
- In Section-B question numbers 21 to 26 carry two marks each.
- In Section-B question numbers 27 to 34 carry three marks each.
- In Section-B question numbers 35 to 40 carry four marks each.

Section-A

(1x20=20)

Choose the correct alternative :

- One crore = _____ lakh.
a) 10 b) 100 c) 1000 d) 10,000
- The numeral for Six million twenty five thousand twenty five is _____.
a) 625000 b) 6025025 c) 6250025 d) 60250025
- The sum of four thousand and 15 tens is equal to _____.
a) 4500 b) 4000 c) 4150 d) 4050
- Smallest 6-digit number – 1 = _____.
a) 600000 b) 59999 c) 99999 d) 6001
- The answer obtained on division is called _____.
a) Divisor b) product c) dividend d) quotient
- The number of even numbers between 1 and 10 is _____.
a) 2 b) 4 c) 8 d) 5
- $840 \times 100 =$ _____.
a) 1840 b) 84000 c) 840 d) 8400
- The letter X has _____ lines of symmetry.
a) 2 b) 3 c) 1 d) 4

- 9) Which is the missing number in the pattern 12, 13, 15, 18, 22, _____, 33, 40
 a) 17 b) 21 c) 25 d) 27
- 10) The next equivalent fraction of $\frac{3}{4}$ is _____.
 a) $\frac{9}{12}$ b) $\frac{8}{6}$ c) $\frac{6}{8}$ d) $\frac{1}{4}$
- 11) If the cost of an apple is ₹ 14, then 4 apples cost _____.
 a) ₹ 18 b) ₹ 56 c) ₹ 10 d) ₹ 12
- 12) 71331 is divisible by _____.
 a) 3 b) 10 c) 5 d) 4
- 13) The second composite number is _____.
 a) 2 b) 9 c) 6 d) 8
- 14) _____ is a factor of 110.
 a) 13 b) 11 c) 7 d) 3
- 15) _____ has the digit 9 in the lakhs place.
 a) 20,15,638 b) 49,20,115 c) 20,49,511 d) 94,11,218

Fill in the blanks :

- 16) The place value of 8 in 1,28,46,345 is _____.
- 17) _____ + 39449 = 39459
- 18) _____ is the smallest factor of 693.
- 19) Jay had 4 biscuits out of 15 . The fraction of biscuits he had is _____.
- 20) The prime number between 30 and 35 is _____.

Section – B

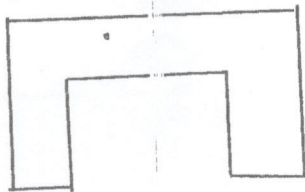

(2 x 6 = 12)

- 21) a) Convert $\frac{13}{6}$ into a mixed fraction.
 b) Give an example of twin primes
- 22) Find the common factors of 20 and 33 and find their HCF.
- 23) a) Subtract 4998 from 17777.
 b) Find the number which is 16,495 more than 7,84,325 ?
- 24) A train covers a distance of 3840 km in 8 hours. How much distance does it cover in an hour ?
- 25) Classify the following fractions as mixed, improper or proper fractions:
 a) $\frac{15}{10}$ b) $2\frac{7}{9}$ c) $\frac{17}{36}$ d) $\frac{39}{25}$
- 26) Check whether 14 is a factor of 296 ?

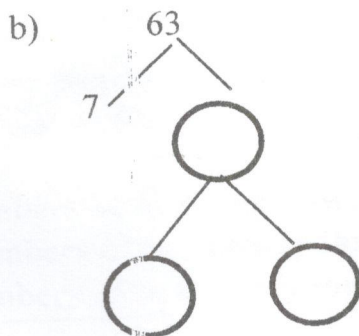
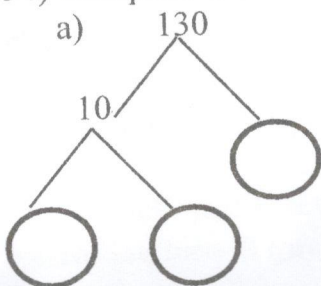
(3 X 8 = 24)

- 27) a) Write the numeral form of - Eighty five crore seventy two thousand five
 b) What is the successor of the largest 5-digit number?
 c) Write the expanded form of 3,23,146.
- 28) Reema purchased a refrigerator for ₹ 38250 , a washing machine for ₹ 14385 and a dining table for ₹ 69125 for her new house. How much did she spend in all?
- 29) Akash draws a salary of Rs. 23,165 per month. How much amount does he draw in a year ?

- 30) (a) How much is 695 less than 7000 ?
 (b) Subtract 4,25,340 from 5,18,000
- 31) Divide 68270 by 12 and check your answer.
- 32) (a) Complete the missing numbers in the pattern:
 1, 4, 9, 16, _____, _____, 49, 64
 (b) Draw a line of symmetry for each figure.



- 33) (a) Find the first three equivalent fractions of $\frac{4}{5}$
 (b) Reduce $\frac{16}{40}$ to the lowest term.
- 34) Complete the factor tree :



- 35) a) Write the prime numbers between 15 and 20
 b) What is the third and eighth multiple of 12 ?
 c) List the factors of 17. (4x6=24)
- 36) a) Find the product of 365 and largest 2-digit number.
 b) Write the numbers in short form :
 $6,00,000 + 4000 + 10 + 2$
- 37) a) Arrange the numbers in ascending order
 $8975246, 8597246, 8759246, 8957246$
 b) Form the smallest and largest 7-digit number using the digits
 $7, 2, 9, 0, 4, 3, 5$
- 38) a) Find the sum of 14 thousands + 9 hundreds + 12 tens
 b) Check the divisibility of 2052 by 2 and 3.
- 39) The cost of 7 kg of almonds is ₹ 4375. Find the cost of 15 kg of almonds ?
- 40) Find the LCM of the given numbers by common division method :
- a) 12, 16 b) 15, 18



SINDHI HIGH SCHOOL, BANGALORE
HALF YEARLY EXAMINATION- (2022-23)

Subject – SCIENCE

Class: V
Date: 22 -9-2022
No. of sides: 5

Max Marks: 80
Timings: 8:00 to 10:45am
Reading time: 8:00-8:15am
Writing time: 8:15- 10:45 am

General Instructions:

- Write your Name, Roll number, Class/Section, Date and subject clearly in the answer script.
- Write the page number on the right-hand side top corner of each side of the paper.
- All questions are compulsory.

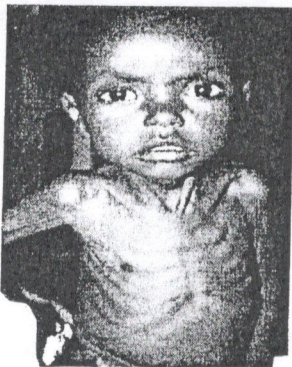
SECTION – A

1. Choose and write the correct option: (1/2 x 8 = 4)

i) Cotton grows well in _____ soil,
a) sandy b) black c) clayey d) alluvial

ii) Which from the following is a dicot seed?
a) Rice b) Wheat c) Maize d) Peas

iii)



Identify the deficiency disorder shown in the above picture.

a) Marasmus b) Kwashiorkor c) Goitre d) Rickets


iv) Whooping cough spreads through _____
a) water b) air c) insects d) direct contact

v) On cooling, the movement of particles of a substance _____
a) increases b) decreases c) remains the same d) has no effect

vi) Which of the following is not an ore?
a) Aluminium b) Bauxite c) Calamine d) Haematite

vii) The natural renewable resource is _____
a) top soil b) coal c) LPG d) forests

viii) Choose the correct food item which does not contain fat from the given options



(1 x 4 = 4)

2. Name the following:

- i) The method of growing plants from vegetative parts.
- ii) The disease causing microbes.
- iii) Anything that has mass and occupies space.
- iv) The mineral used to produce nuclear energy.

(1/2 x 4 = 2)

3. Analogy:

- i) Vitamin A : _____ :: Vitamin C : Scurvy
- ii) Plague : Rats fleas :: _____ : Mosquito
- iii) Glycerine : Soluble in water :: _____ : Insoluble in water
- iv) Bryophyllum : Leaf :: _____ : Spores

(1 x 4 = 4)

4. Give two examples for each:

- (i) Fertilizers
- (ii) Food preservation technique
- (iii) Gemstones
- (iv) Seeds dispersed by water

(1 x 3 = 3)

5. Choose the odd one out and justify :

- (i) Hibiscus, Rose, Ginger, Money Plant
- (ii) Ringworm, Measles, Typhoid, Chickenpox
- (iii) Basalt, Obsidian, Feldspar, Pumice

6. : Define the following:

(1 x 3= 3)

- i) Ore ii) Pollutants iii) Posture

SECTION –B

Answer the following questions:

(3 x10=30)


7. a. Define disease

b. Differentiate between communicable and non-communicable disease.

8. Draw a neat labelled diagram of inner structure of a bean seed.

9. How are the seeds dispersed by animals? Give two examples of such seeds.

10.



a. Identify the type of rock used to make the monument.

b. What type of rock is it?

c. How is it formed?

11. List any three measures to check global warming.

12. What are vaccines? How are they helpful to us ?

13. Classify the following changes into physical and chemical change.

a. Curdling of milk

b. Cutting of hair

c. Stretching of rubber band

d. Folding of clothes

e. Burning of paper

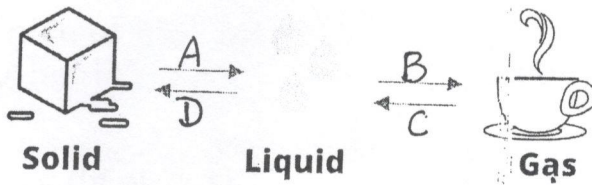
f. Bursting of a balloon.

14. Raju is often falling sick. Doctor has advised him to maintain hygiene so that he can be healthy. List any three steps to maintain hygiene.

15. a. How are Igneous rocks formed?

b. Name any two Sedimentary rocks.

16. a. Name the processes A, B, C and D involved in the change in the states of matter.




b. Differentiate between the processes A and D.

SECTION - C

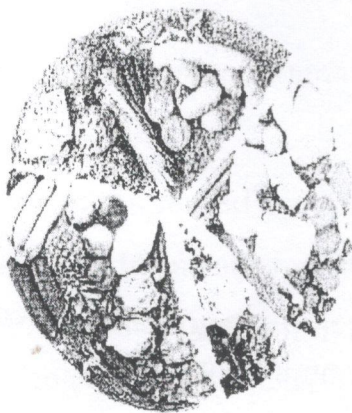
• (5 x 6 = 30)

17.



- Which type of pollution is shown in the above picture.
- Mention any two problems caused due to this pollution.
- List any two effects of noise pollution.

18.

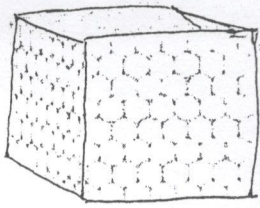


- Identify the above picture and state its importance.

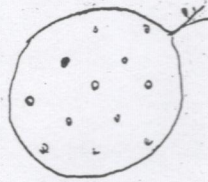
b. Give reason.

- i) Vitamins and minerals are called protective food.
- ii) Proteins are body-builders.
- iii) Excess fat in our diet is harmful for us.

19.



a



b

- i) Identify the state of matter in image a and b.
- ii) Differentiate between a and b. (Any two)
- iii) List any two properties of liquid.

20. a. How is coal formed?

b. List any four uses of coal.

c. Mention any two names of minerals required by our body.

21. a. Ramu has a field. He wants to grow rice in his field. List the different agricultural practices he needs to do.

b. Differentiate between Kharif and Rabi crops.

22. a. What is Green house effect?

b. Name any two Green house gases.

c. What is Kyoto protocol?

d. List any two measures to conserve our natural resources.



SINDHI HIGH SCHOOL, BANGALORE
HALF YEARLY EXAMINATION (2022-23)
Subject - Social Science

Class: V
Date: 16/09/2022
Number of printed sides: 3

Marks: 80
Timings: 2½ hrs
Reading Time: 8:00 to 8:15 am
Writing Time: 8:15 to 10:45 am

General Instructions:

- Write your Name, Roll number, Class/Section, Date and Subject clearly in the answer script.
- Write the page number on the right-hand side top corner of each side of the paper.
- Read all the questions carefully.
- All questions are compulsory.
- Answer all the questions with the correct Question number.

I. Choose the correct answer: -

1×10=10

1. The amount of the _____ present in the air is called humidity.
a) water b) ice c) water vapour d) gas
2. The Democratic Republic of Congo is located in _____.
a) Central Africa b) Southern Africa
c) Central Asia d) Southern Asia
3. A city experiences moderate type of climate if it is located _____.
a) at the equator b) near the sea
c) at the poles d) none of these
4. The Congo River drains into the _____ ocean.
a) Indian Ocean b) Pacific Ocean
c) Atlantic Ocean d) Arctic Ocean
5. The latitude that passes through the Greenland is the _____.
a) Antarctic circle b) Arctic circle
c) Tropic of Cancer d) Tropic of Capricorn
6. Sledges in Greenland are pulled by _____.
a) Horses b) Camels c) Donkeys d) Huskies

7) The Atacama Desert is in _____.

- a) North America b) Europe
c) South America d) Australia

8) Sindhis out of fondness and respect address Hemu Kalani as _____.

- a) Sukhdev b) Bhagat Singh c) Raj Guru d) None of these

9. Gandhiji declared Quit India Movement in _____.

- a) 1944 b) 1924 c) 1942 d) 1922

10. Kinshasa is the capital of _____.

- a) Greenland b) USA c) DRC d) Iceland

II. Write True or False: -

1×4=4

1. The Eskimos use motorboat for transport and hunting sea animals.
2. The economy of Saudi Arabia mainly depends on Petroleum.
3. The Australian buffaloes are known as Bisons.
4. Hemu Kalani's father was a Physician.

III. Answer the following in word or sentence.

1×8=8

1. Name two famous water fall of the DRC.
2. What is Global warming?
3. Write a sentence on Okapi.
4. Who are Pygmies?
5. What are ice bergs?
6. Describe the dress style of Inuits.
7. Mention the rivers that provide water to the Prairies.
8. Explain: a) Sand dunes b) Oasis

IV. Answer the following: -

2×5=10

1. Differentiate between weather and Climate.
2. Why are these famous for?
a) Riyadh b) Jeddah
3. What are Grasslands? Name two trees grown in the Prairies region?
4. How are animals useful to Inuit?
5. What kinds of plants grow in Saudi Arabia?

V. Answer the following in three or four sentences: -

3×6=18

1. Describe the vegetation of Greenland.
2. The camel is the most useful animal in the desert. Give reason.
3. Define: - a) Silos b) Homesteads c) Ranches

4. Why are the Prairies referred to as the "Wheat basket of the World"?
5. How does the Altitude affect the climate of a place?
6. What effects do winds have on the climate of an area?

VI. Answer the following briefly: -

- | | |
|---|--------------------------|
| 1. Latitudes affect the climate of a place. Justify.
Explain with the help of diagram. | 5×5=25
(3+2=5) |
| 2. a) How are Igloos built?
b) How is the Kayak different from the Umaik? |
(3+2=5) |
| 3. a) Who are nomads?
c) Who are Bedowins? What do they do for living? |
(1+4=5) |
| 4. Describe about the climate of Congo. | (5) |
| 5. a) Explain the features of the Tropical rain forests.
b) Why is the river Congo known as the "Highway of Central Africa"? |
(3+2=5) |

VII. On the given outline map of the world locate five Grasslands: -

5

3



SINDHI HIGH SCHOOL, BENGALURU
HALF YEARLY EXAM 2022-23

Class: V
Marks: 30

Subject: Computer Science
Reading Time: 8:00 – 8:10 am
Writing Time: 8:10 – 9:00 am
Date: 15/9/22

No of Printed Sides: 2

I. Fill in the blanks:

5X1=5

1. _____ is a text styling feature in Word 2016.
2. _____ is the shortcut key for checking spelling and grammar.
3. _____ is the area at the top of a page in the margin.
4. A _____ wavy underline indicates a misspelled word.
5. The Replace command is available in the _____ group of the Home tab.

II. Write the shortcut keys for the following:

3X1=3

1. Find and Replace
2. Thesaurus,
3. Insert endnote

III. Write True or False.

5x1=5

1. Footer appears at the end of the document.
2. You can have a picture as bullet.
3. Only one textbox can be inserted in a Word document.
4. Word Art option is available on the Insert tab.
5. A bullet is a symbol that marks an important line of information.

IV. Give one word for the following:

4X1=4

1. The color & pattern used to fill a closed shape - _____
2. A tool in Word 2016 that provides synonyms - _____
3. To remove unwanted portion of a picture - _____
4. A note at the bottom of a page that links to text on that page - _____

V. Choose the correct option:

5X1=5

1. The spelling & grammar option is available in _____ tab.
i. Insert ii. Home iii. Review iv. Layout
2. Which of the following can be added to a Word document?
i. Header & Footer ii. Watermark iii. Page color iv. All of these
3. Endnote appears at the
i. Bottom of the page ii. End of the document
iii. Top of the page iv. None of these
4. The term 'object' in Word 2016 includes
i. WordArt ii. Pictures iii. Textboxes iv. All of these
5. A _____ wavy underline indicates grammatical mistakes.
i. Blue ii. Red iii. Green iv. Yellow

9

VI. Answer the following:

4X2=8

1. What are the differences between bulleted and numbered lists?
2. Name any four types of effects that can be applied to Word Art text.
3. Name the various change case options available in Word 2016.
4. What is a watermark? How will you add text as watermark?
