



SINDHI HIGH SCHOOL K.K.ROAD, BANGALORE-1

Periodic Test-II 2022-23

Subject: English

No. of printed sides: 3

Max.Marks:30

Date: 12-12-22 .

Time: 1Hr.

CLASS : V/A/ B/ C

**General Instructions**

This paper contains four sections

Section A – Reading-5Marks

Section B – Writing & Grammar- 10Marks

Section C- Literature-15 Marks

**All Sections are compulsory**

**Section A – Reading (5 Marks)**

**D) Read the following passage carefully:**

An old man lived with his four sons in a village. The old man was worried. His sons were always quarrelling with each other. He had tried telling them many times to avoid fighting. But his sons would not listen to him. One day, he called his four sons. He gave them a small bundle of sticks, and asked them to break the bundle into two. The bundle was made of four sticks.

“It’s child’s play,” said the eldest son. He took the bundle and tried to break it. He was surprised that the sticks in the bundle remained intact. He used more force. He tried again and again. The bundle would not break. He gave up. Then his brothers tried to break the bundle of four sticks they also failed. Their father smiled and asked them to untie the bundle. He asked each brother to take one stick and try to break it. Each of the sons took a stick in hand. In no time, the sticks were bent and broken.

“A single stick is easily broken. If four sticks come together it is impossible to break them,” said the old man. This time the brothers understood and they stopped fighting. They realized that together as a team they can succeed in doing whatever work was given to them. The four boys had discovered that unity is strength.

**Answer the following questions by choosing correct options: (1x5=5M)**

1. **The bundle was made of**
  - (a) three sticks
  - (b) two sticks
  - (c) two small sticks
  - (d) four sticks
  
2. **The brother's fought, which**
  - (a) disturbed the father
  - (b) was very funny
  - (c) helped the father
  - (d) was very great
  
3. **The eldest son was surprised, when**
  - (a) the bundles broke easily
  - (b) the bundles were tied tightly
  - (c) the sticks were perfect
  - (d) the sticks were mutilated
  
4. **The boys learnt that**
  - (a) too many cooks, spoil the food
  - (b) united we stand, divided we fall
  - (c) fewer is lesser
  - (d) fighting is a solution for problems
  
5. **The antonym of "intact", is**
  - (a) intelligent
  - (b) brilliant
  - (c) broken
  - (d) flawless

**Section B – Writing & Grammar- 10Marks**

**II) Fill in the blanks with suitable form of the word given in brackets.**

**(1/2x10=5M)**

Received your letter dear buddy. I am glad to tell you that I have moved into the new flat. The flat has two big rooms, kitchen and a small bathroom. Last weekend I a) \_\_\_\_\_ (get, got, gets, getting) a very nice lamp for the living room, but unfortunately I b) \_\_\_\_\_ (break, breaks, broke, breaking) it while I

c) \_\_\_\_\_ (cleans, cleaning, was cleaning, clean) the flat. I d) \_\_\_\_\_ (is feeling, feels, feeling, am feeling ) very bad for being so clumsy! Next week I plan to go shopping again I e) \_\_\_\_\_ (will buy, will buying, buys, buy) another one then. This time I will be very careful.

I have to go now, it f) \_\_\_\_\_ (are, was, were, am) nice to g) \_\_\_\_\_ (heard, hear, hears, hearing) from you. Please get in touch again soon. You must h) \_\_\_\_\_ (came, come, comes, coming) to the housewarming party. I i) \_\_\_\_\_ (tell, tells, will tell, told) you the right day and time in a couple of weeks. Looking forward to j) \_\_\_\_\_ (sees, seeing, seen, see) you soon. Bye

**III) Imagine yourself to be a tree, write an autobiography, in about 100 words. (5M)**

### LITERATURE

**IV) Read the extract and answer the questions. (1X4=4M)**

Ill used, it will destroy,  
In perfect time and measure  
With a face of golden pleasure  
Elegantly destroy.

1. Name the poem from which this extract has been taken.
2. Name the author of the poem.
3. Whom does the poet warn?
4. What happens when "it" is well used?

**V) Answer the following in 30-40 : (2x3=6M)**

1. What is the moral of the story 'The Old Man and Death' from The Aesop's Fables?
2. Why do penguins die when kept at a zoo?
3. In the lesson Little Women, why were the sisters not able to buy their Christmas gifts?

**VI) Answer the following in 70-80-words: (5M)**

1. In the lesson Aesop's Fables, why does the labourer capture the nightingale? What advice does the nightingale give to the labourer?



SINDHI HIGH SCHOOL, K K ROAD, BENGALURU.

2 - PERIODIC TEST - 2022-23

SUBJECT: 2<sup>ND</sup> LANGUAGE KANNADA

Class: 5

Marks: 30

No of Printed Sides: 3

Time: 1 HOUR

Date: 14 /12/2022

I. ಈ ಗದ್ಯಭಾಗವನ್ನು ಓದಿ, ಕೆಳಗಿನ ಪ್ರಶ್ನೆಗಳಿಗೆ ಸರಿಯಾದ ಉತ್ತರವನ್ನು ಆರಿಸಿ ಬರೆಯಿರಿ: (5X1=5)

ಮಾನವ ಬದುಕಲು ಗಾಳಿ, ಬೆಳಕು, ನೀರು ಅತಿ ಅಗತ್ಯವಾದರೂ ಕೂಡ ಅವನ್ನು ಕಾಪಾಡಿಕೊಳ್ಳುವುದೂ ಕೂಡ ಅಷ್ಟೇ ಅಗತ್ಯವಾಗಿದೆ. ಅನಗತ್ಯವಾಗಿ ಮಾನವ ಕಾರ್ಖಾನೆಗಳನ್ನು ಸ್ಥಾಪಿಸುತ್ತಿದ್ದಾನೆ. ಅವುಗಳ ಕೊಳಕನ್ನು ನದಿಗೋ, ಕೆರೆಗೋ, ಹಳ್ಳಕ್ಕೋ ಹರಿಬಿಡುತ್ತಾನೆ. ಕಾರ್ಖಾನೆಗಳ ಹೊಗೆಯಿಂದ ವಾಯುಮಾಲಿನ್ಯ ಉಂಟಾದರೆ, ಅದರ ಕೊಳಚೆ ನೀರು ನದಿಯನ್ನು ಸೇರಿ ಜಲಮಾಲಿನ್ಯ ಉಂಟಾಗುತ್ತಿದೆ. ನೀರನ್ನು ಭೂಮಿಯ ಮೇಲಿನ ಅಮೃತ, ಜೀವಜಲ ಎಂದು ಕರೆಯುತ್ತಾರೆ. ಆದರೆ ಅದನ್ನು ನಾವು ಅಗತ್ಯಕ್ಕಿಂತ ಹೆಚ್ಚು ಬಳಸುತ್ತೇವೆ. ಕೆಲವೊಮ್ಮೆ ನಲ್ಲಿಗಳನ್ನು ಹಾಗೆಯೇ ತೆರೆದಿಟ್ಟು ಹೋಗಿಬಿಡುತ್ತೇವೆ. ಇದರಿಂದ ಅಪಾರ ನೀರು ನಷ್ಟವಾಗುತ್ತದೆ. ಕಾಡಿನ ನಾಶದಿಂದಾಗಿ ಈಗೀಗ ಮಳೆಯು ಕಡಿಮೆಯಾಗುತ್ತಿದೆ. ಇದೇ ಪರಿಸ್ಥಿತಿ ಮುಂದುವರಿದರೆ ಮುಂದೊಂದು ದಿನ ಹನಿ ನೀರಿಗೂ ಪರದಾಡಬೇಕಾಗುತ್ತದೆ. ಆದ್ದರಿಂದ ಒಂದೊಂದು ಹನಿ ನೀರನ್ನು ಕಾಪಾಡಬೇಕು. ನೀರನ್ನು ವ್ಯರ್ಥವಾಗಿ ಪೋಲು ಮಾಡಬಾರದು. ಜಲಸಂರಕ್ಷಣೆ ಪ್ರತಿಯೊಬ್ಬರ ಆದ್ಯ ಕರ್ತವ್ಯ ಎಂಬುದನ್ನು ಅರಿತುಕೊಳ್ಳಬೇಕು. ಪೋಲಾಗುವುದನ್ನು ತಡೆಗಟ್ಟಲು ಪ್ರತಿಯೊಬ್ಬರು ಮುಂದಾದರೆ ನಮ್ಮ ನೀರಿನ ಸಮಸ್ಯೆಯನ್ನು ನಾವು ಬಗೆಹರಿಸಿಕೊಳ್ಳಬಹುದು. ಹಾಗಾಗಿ ಎಲ್ಲರೂ ಆ ದಿಸೆಯಲ್ಲಿ ಪ್ರಯತ್ನಶೀಲರಾಗಬೇಕು.

ಪ್ರಶ್ನೆಗಳು

೧. 'ಜೀವಜಲ' ಎಂದು ಇದನ್ನು ಕರೆಯುತ್ತೇವೆ.

ಅ) ಗಾಳಿ ಆ) ಬೆಳಕು ಇ) ಮರ-ಗಿಡ ಈ ) ನೀರು

೨. ಕಾರ್ಖಾನೆಗಳ ಹೊಗೆಯಿಂದ \_\_\_\_\_ ಉಂಟಾಗುತ್ತಿದೆ.

ಅ) ಜಲಮಾಲಿನ್ಯ ಆ) ಶಬ್ದಮಾಲಿನ್ಯ ಇ) ವಾಯುಮಾಲಿನ್ಯ ಈ) ಭೂಮಾಲಿನ್ಯ

೩. ಈಗೀಗ ಮಳೆಯು ಕಡಿಮೆಯಾಗುತ್ತಿದೆ ಇದಕ್ಕೆ ಕಾರಣ

ಅ) ಕಾಡಿನ ನಾಶದಿಂದ ಆ) ಕಾಡಿನ ರಕ್ಷಣೆಯಿಂದ  
ಇ) ಮರಗಳನ್ನು ನೆಡುವುದರಿಂದ ಈ) ಉದ್ಯಾನ ವನಗಳಿಂದ

೪. ಕೊಳಚೆ ನೀರು ----- ಸೇರಿ ಜಲಮಾಲಿನ್ಯ ಉಂಟಾಗುತ್ತಿದೆ

ಅ) ಕಾಡಿಗೆ ಆ) ರಸ್ತೆಗೆ ಇ) ನದಿಗೆ ಈ) ಗಾಳಿಗೆ

೫. ಮಾನವ ಅನಗತ್ಯವಾಗಿ ----- ಸ್ಥಾಪಿಸಿ, ಮಾಲಿನ್ಯ ಹೆಚ್ಚು ಮಾಡುತ್ತಿದ್ದಾನೆ.

ಅ) ಉದ್ಯಾನವನಗಳನ್ನು ಆ) ರಸ್ತೆಗಳನ್ನು ಇ) ಮನೆಗಳನ್ನು ಈ) ಕಾರ್ಖಾನೆಗಳನ್ನು

II. ಕೆಳಗಿನ ವ್ಯಾಕರಣಾಂಶಗಳಿಗೆ ಸರಿಯಾದ ಉತ್ತರವನ್ನು ಆರಿಸಿ ಬರೆಯಿರಿ: (10X1 =10)

೧. ಜುಳುಜುಳು ನದಿ ಹರಿಯುತ್ತದೆ. ( ಗೆರೆ ಎಳೆದ ಪದ ವಿಶೇಷತೆಯನ್ನು ಗುರುತಿಸಿ)

ಅ) ಜೋಡಿಪದ ಆ) ರೂಢನಾಮ ಇ) ಅನುಕರಣಾವ್ಯಯ ಈ) ದ್ವಿರುಕ್ತಿಪದ

೨. 'ದುಂಬಾಲು' ಈ ಪದದ ಅರ್ಥ

ಅ) ಪಡಸಾಲೆ ಆ) ಬೆನ್ನುಹತ್ತು ಇ) ವೈಭವ ಈ) ಕಾಲಿಗೆಬೀಳು

೩. 'ತಮ್ಮ' ಈ ಪದದ ಬಹುವಚನ ರೂಪ

ಅ) ತಮ್ಮರು ಆ) ತಮ್ಮಗಳು ಇ) ತಮ್ಮಂದಿರು ಈ) ತಮ್ಮಯರು

೪. 'ತಳಿರು -ತೋರಣ' ಇದು ಈ ಪದಕ್ಕೆ ಉದಾಹರಣೆ.

ಅ) ವಿರುದ್ಧ ಪದ ಆ) ಅನುಕರಣಾವ್ಯಯ ಇ) ದ್ವಿರುಕ್ತಿ ಈ) ಜೋಡಿಪದ

೫. 'ಕರುಣೆ' ಸರಿಯಾದ ವಿರುದ್ಧ ಪದ

ಅ) ನಿಷ್ಕರುಣೆ ಆ) ನಿರಾಕರಣೆ ಇ) ಆಕರುಣೆ ಈ) ನಿಶ್ಚರುಣೆ

೬. ನಗೆ- ನೆಗೆ ಈ ಪದದ ಉಚ್ಚಾರಣಾ ಅರ್ಥ ವ್ಯತ್ಯಾಸ

ಅ) ನುಡಿ, ನಡೆ ಆ) ನಗುವುದು, ಹಾರು ಇ) ಹಾರು, ನಗುವುದು ಈ) ಅಳು, ನಗು

೭. ನಿಮಗೆ ಇದು ನೆನಪಿದೆಯಾ? ಇಲ್ಲಿ ಬಳಕೆಯ ಲೇಖನ ಚಿಹ್ನೆ

ಅ) ಪೂರ್ಣವಿರಾಮ ಆ) ಪ್ರಶ್ನಾರ್ಥಕ ಚಿಹ್ನೆ ಇ) ಅಲ್ಪವಿರಾಮ ಈ) ಭಾವಸೂಚಕ ಚಿಹ್ನೆ

೮. ಮಕ್ಕಳಿಗೆ ತಾತ ಕಥೆ ಹೇಳಿದರು. ( ಕ್ರಿಯಾಪದ ಗುರುತಿಸಿ)

ಅ) ಹೇಳಿದರು ಆ) ಕಥೆ ಇ) ತಾತ ಈ) ಮಕ್ಕಳು

೯. 'ಮಗುವನ್ನು' ಈ ಪದವನ್ನು ಬಿಡಿಸಿ ಬರೆದರೆ-----

ಅ) ಮಗು+ಅನ್ನು ಆ) ಮಗು+ವನ್ನು ಇ) ಮಗು+ಯನ್ನು ಈ) ಮಗು+ಆನ್ನು

೧೦. ಭಾಗವಹಿಸುವರು. ( ಈ ಪದದ ವರ್ತಮಾನ ಕಾಲ ಗುರುತಿಸಿ)

ಅ) ಭಾಗವಹಿಸಿದರು ಆ) ಭಾಗವಹಿಸಿದ್ದಾರೆ ಇ) ಭಾಗವಹಿಸುತ್ತಾರೆ ಈ) ಭಾಗವಹಿಸಿದಳು.

III. ಯಾವುದಾದರೂ ಒಂದು ರಾಷ್ಟ್ರೀಯ ಹಬ್ಬದ ಬಗ್ಗೆ ೬ ವಾಕ್ಯಗಳಲ್ಲಿ ಬರೆಯಿರಿ (4)

IV. ಕೆಳಗಿನ ಪ್ರಶ್ನೆಗಳಿಗೆ ಸರಿಯಾದ ಉತ್ತರವನ್ನು ಆರಿಸಿ ಬರೆಯಿರಿ: (2X1=2)

೧. ಶಿಕ್ಷಕರ ದಿನವನ್ನು ----- ರಂದು ಆಚರಿಸುತ್ತೇವೆ.

ಅ) ಜನವರಿ ೨೬ ಆ) ಆಗಸ್ಟ್ ೧೫ ಇ) ನವೆಂಬರ್ ೧೪ ಈ) ಸೆಪ್ಟೆಂಬರ್ ೫

೨. ದೀಪಾವಳಿ ಹಬ್ಬದಲ್ಲಿ ----- ಪೂಜೆ ಮಾಡುತ್ತಾರೆ.

ಅ) ಗಂಗೆ ಆ) ಗೌರಿ ಇ) ಲಕ್ಷ್ಮಿ ಈ) ಸರಸ್ವತಿ

V. ಕೆಳಗಿನ ಪ್ರಶ್ನೆಗಳಿಗೆ ಒಂದು ವಾಕ್ಯದಲ್ಲಿ ಉತ್ತರಿಸಿ: (3X1=3)

೧. ಹೈದರಾಬಾದ್ ಪ್ರಾಂತ್ಯ ಭಾರತದಲ್ಲಿ ಯಾವಾಗ ವಿಲೀನವಾಯಿತು?

೨. ಅಮ್ಮ ಯಾವುದರ ದಿಕ್ಕೊಚಿಯಾಗುತ್ತಾಳೆ?

೩. ದೀಪ ಯಾವುದರ ಸಂಕೇತ?

VI. ಕೆಳಗಿನ ಪ್ರಶ್ನೆಗಳಿಗೆ ಮೂರು / ನಾಲ್ಕು ವಾಕ್ಯಗಳಲ್ಲಿ ಉತ್ತರಿಸಿ: (3X2=6)

೧. ರಾಖಿ ಹಬ್ಬವನ್ನು ಹೇಗೆ ಆಚರಿಸಲಾಗುತ್ತದೆ?

೨. ಧ್ವಜವೇರಿಸಲು ಬಂದ ಸೀತಮ್ಮನ ರೂಪವನ್ನು ವರ್ಣಿಸಿರಿ

೩. ತಾಯಿ ತನ್ನ ಮಗುವನ್ನು ಹೇಗೆ ಅರಸಿ ಬರುತ್ತಾಳೆ? ಹಾಗೂ ಏನೆಂದು ಹರಸುತ್ತಾಳೆ?

\*\*\*\*\*



SINDHI HIGH SCHOOL, K.K.ROAD, BENGALURU-01

PERIODIC TEST - 2 (2022-23)

SUB: MATHEMATICS

No. of printed sides: 3

Class: 5

Reading Time: 8 to 8.10am

Date: 15 /12/22

Writing Time: 8.10 to 9.10am

Maximum marks: 30

**General instructions:**

1. This Question paper has 5 Sections A-E
2. Section A has 6 MCQ's carrying 1mark each.
3. Section B has 3 questions carrying 2mark each.
4. Section C has 3 questions carrying 3mark each.
5. Section D has 1 question carrying 5mark.
6. Section E has 1 case study based question with subparts of values 1, 2 and 1 mark each respectively.

**Section – A**

**Choose the correct alternative**

**(1x6=6)**

- 1) The decimal form of  $9/10 + 6/1000$  is \_\_\_\_\_ .  
(a) 9.6                      (b) 0.9 60                      (c) 0.906                      (d) 96.6
- 2) The average of first 4 odd nos. is \_\_\_\_\_ .  
(a) 8                      (b) 3                      (c) 5                      (d) 4
- 3) ₹ 14.50 is equal to \_\_\_\_\_ paise.  
(a) 1450 paise                      (b) 145 paise                      (c) 1400 paise                      (d) 14500 paise
- 4) The value of the circled digit in 24.0 3 5 is \_\_\_\_\_ .  
(a) 3tens                      (b) 3ones                      (c) 3tenths                      (d) 3hundredths
- 5) If the cost of 8 chocolates is ₹ 40, then the cost of one chocolate is \_\_\_\_\_.  
(a) ₹ 5                      (b) ₹ 320                      (c) ₹ 80                      (d) ₹ 40

6) The product of 7.5 and 20 is \_\_\_\_\_.

(a) 14

(b) 15

(c) 150

(d) 752

**Section – B**

**(2x3 = 6)**

7) Simplify  $45.6 + 17.35 - 23.475$

8) Subtract ₹ 798 from ₹ 1320

9) The heights of 6 children are 125cm, 130cm, 142cm, 132cm, 128cm and 135cm. Find their average height?

**Section – C**

**(3x3 = 9)**

10) (a) Convert 16450 paise into rupees

(b) Find the sum of ₹ 293.50 and ₹ 149.50

11) (a) Divide 3262.50 by 9

(b) Convert  $\frac{13}{20}$  into decimal.

12) (a) What should be added to 356.47 to get 500 ?

(b) Convert the following into like decimals

7.9 , 12.435 , 3.8

**Section – D**

**(5 marks)**

13) Sohan purchased the following items from Laksh Provision Store and the bill number is 485 . The rates of the following items are as follows : 5kg Rice at ₹ 56 per kg , Dal 3kg at 37 per kg and 2kg Ghee at ₹ 575 per kg . Prepare a bill .



Section-E

Case study

(4 marks)

14) Mohit, Karan and Divya participated in a group music competition and won the first prize. They received ₹ 1500 as cash prize and decided to buy a few snacks.



The rates of the snacks were as follows : Samosa – ₹15 ,  
Chocolate candy – ₹12, Kachori – ₹18 , Puff – ₹23

- a) How much amount did each child get? (1)
- b) Karan ate 2 samosas and Divya ate 4 chocolate candies. (2)  
How much did each of them spend?
- c) Mohit ate 2 puff. How much did she spend? (1)

\*\*\*\*\*



SINDHI HIGH SCHOOL, K.K. ROAD, BENGALURU- 01

Class: 5 Periodic Test -II (2022-23) Time: 1Hr





Date: 13/12/ 22 Subject: Science Marks: 30

No. of sides-2

General instructions:

- Write your name, roll number, class, section, date and subject clearly in your answer script.
- Write the page number on right hand side top corner of each side of the paper.
- All questions are compulsory.

I	<b>Complete the analogy.</b> 1. Reptiles : _____ :: Ducks : flippers 2. Skull : _____ :: Spine : 33 bones 3. Mammals : humans :: Aquatic mammals : _____ 4. Shoulder girdle : _____ :: Hip girdle : pelvic girdle	4*1=4
II	<b>Fill in the blanks.</b> 1. The brain is protected by a fluid called as _____. 2. The surrounding in which the animals live is called as _____. 3. A reflex action is an automatic reaction of the body to a _____. 4. Animals like snails and tortoise protect themselves with the help of _____.	4*1=4
III	<b>Give two examples for the following.</b> 1. Animals that breathe through their body surface . 2. Voluntary muscles. 3. Lower arm bones. 4. Two fresh water habitat.	4*1=4

IV	<p>Differentiate between the following.</p> <ol style="list-style-type: none"> <li>Herbivores and Carnivores.</li> <li>Sensory nerves and Motor nerves.</li> </ol>	2*2=4
V	<p>Answer the following.</p> <ol style="list-style-type: none"> <li> <ol style="list-style-type: none"> <li>What is migration?</li> <li>Why do animals migrate?</li> <li>Give two examples of migratory birds.</li> </ol> </li> <li>List any three functions of the skeletal system.</li> <li>Tigers and Zebra have a unique property that helps them to protect themselves in the given surrounding.           <ol style="list-style-type: none"> <li>What is that property called?</li> <li>How does it helps the animals?</li> <li>Give names of any other two animals that show this property.</li> </ol> </li> </ol>	3*3=9
VI	<p>a) What are tendons?          b) Identify the following joints and mention any one location of the same.</p> <div style="display: flex; justify-content: space-around; align-items: flex-start;"> <div style="text-align: center;">  <p>i.</p> </div> <div style="text-align: center;">  <p>ii.</p> </div> <div style="text-align: center;">  <p>iii</p> </div> <div style="text-align: center;">  <p>iv</p> </div> </div>	1 4



SINDHI HIGH SCHOOL, K.K.ROAD BENGALURU-1  
Periodic Test - 2 (2022-23)

Subject -HINDI (ADDITIONAL LANG)

CLASS 5

DATE -12/12/22

T M -30

खंड- क

1. दिए गए गद्यांश को पढ़कर प्रश्नों के उत्तर दीजिए-

5

एक बार एक किसान का बैल गहरे गड्ढे में गिर गया। वह जोर जोर से चिल्लाने लगा। किसान उसे बाहर निकलने का उपाय सोचने लगा। अंत में उसने निर्णय लिया कि बैल काफी बूढ़ा हो चुका है, इसलिए उसे गड्ढे में ही दफना देना चाहिए। किसान ने अपने सभी पड़ोसियों को मदद के लिए बुलाया। सभी मिलकर गड्ढे में मिट्टी डालने लगे। जैसे ही बैल को सब समझ में आया, वह और जोर-जोर से चिल्लाने लगा और फिर अचानक शांत हो गया।

सब लोग चुपचाप गड्ढे में मिट्टी डालते जा रहे थे। तभी किसान ने नीचे झाँक कर देखा तो वह चकित रह गया। अपनी पीठ पर पड़ने वाली मिट्टी को वह बूढ़ा हिला हिलाकर नीचे गिरा देता था और उस मिट्टी पर चढ़ जाता था। जल्दी ही वह गड्ढे के किनारे तक पहुँच गया और फिर अपनी हिम्मत और सूझ-बूझ के बल पर बाहर आने में सफल हो गया।

प्रश्नों के उत्तर दीजिये :-

(क) किसान का बैल कहाँ गिर गया ?

1. भूमि 2. गड्ढे 3. खेत 4. पानी

(ख) बैल का चिल्लाना सुन कर किसान से क्या निर्णय लिया?

1. गड्ढे में दफना, 2. पानी में फेंकना 3. बचाना 4. निकालना

(ग) किसान के पड़ोसियों ने उसकी मदद किस प्रकार की?

1. बाहर निकालने लगे 2. मिट्टी डालने लगे 3. ऊपर खींचने लगे 4. पानी डालने लगे

(घ) बैल जल्दी ही किस के किनारे पहुँच गया

1. गड्ढे के किनारे 2. नदी के किनारे 3. सागर के किनारे 4. गाँव के किनारे

(ङ) बैल किस कारण बाहर आने में सफल हुआ ?

1. चालाकी 2. लोगों की मदद 3. हिम्मत और सूझ-बूझ 4. किसान

- खण्ड -ख
- II. दिए गए शब्दों के विलोम शब्द लिखो -2  
 1. हित 2. समस्या 3. सुखद 4. सुबह
- III. दिए गए शब्दों के दो - दो पर्यायवाची शब्द लिखो -2  
 1. नया 2. घर
- IV. दिए गए शब्दों से वाक्य बनाओ- 2  
 1. विनती 2. वेशभूषा
- V. दिए गए शब्दों के वचन बदलो - 2  
 1. लकड़ी 2. शाखा 3. नदी 4. सपना
- VI. सही शब्दों से वाक्य पूरे करो - 2  
 1. लकड़हारा सूखी लकड़ियाँ लाने -----जंगल गया है।  
 2. आदमियों ---- चीता कैसे आ गया ?
- VII. एक शब्द लिखो - 2  
 1. राजा को प्यारी -  
 2. भ्रातृत्व का भाव -  
 3. पूरब की ओर से बहने वाली हवा-  
 4. जिसे मापा न जा सके -

खण्ड ग

VIII. प्रश्नों के उत्तर दीजिये :- 2X5= 10

1. पुरवाई का क्या अर्थ है ? इसके आने पर क्या होता है ?
2. जब सूरज नई सुबह लेकर आता है, तब क्या होता है ?
3. जानवर शहर की ओर भागने के लिए क्यों मजबूर हैं ?
4. वृक्ष हमें क्या क्या देते हैं ?
5. प्रकृति का सबसे बुद्धिमान प्राणी कौन है ? वह कौन सी भूले कर रहा है ?

खंड घ

IX. " मेरा देश " पर पाँच वाक्य लिखो।

3



**SINDHI HIGH SCHOOL**  
**K.K. ROAD BENGALURU -01 (2022-2023)**  
**PERIODIC TEST -2**  
**SUBJECT: SOCIAL SCIENCE**

Name: \_\_\_\_\_

Class: V A/ B/ C

Roll no: \_\_\_\_\_

Date: 16 /12/2022

Marks: 30

Time: 8.00-9.00 AM

No of sides printes: 2

Q1. Choose the correct option:

(5x1=5)

1. \_\_\_\_\_ invented the clinical thermometer. ( )  
a) Alexander    b) Daniel Gabriel Fahrenheit  
c) Wilhelm Roentgen    d) Sushruta
2. The \_\_\_\_\_ is a method that is widely used by blind people to read and write. ( )  
a) Braille system    b) printing    c) press    d) Louis Braille
3. In India the oldest scripts have been found on the seals of the \_\_\_\_\_. ( )  
a) River    b) Indus Valley Civilization    c) Egyptian Civilization  
d) British Civilization
4. George Stephenson is known as the \_\_\_\_\_. ( )  
a) Father of engine    b) Father of minerals    c) Father of railways  
d) Father of streamers.
5. The leader of group Khudai Khidmatgars was \_\_\_\_\_. ( )  
a) Mahatma Gandhi    b) Hemu Kalani    c) Britishers    d) Pessumal Kalani

**QII. Fill in the blanks :**

**(4x1=4)**

1. Engineers designed better machines which produced greater amount of electricity and these were named as \_\_\_\_\_.
2. Most of the vaccinations are administered by \_\_\_\_\_.
3. A \_\_\_\_\_ is a standard set of letters or symbols which is used to write a language.
4. The treatment of injuries or disorder of the body by incision using instrument is called \_\_\_\_\_.

**QIII. Answer the following :**

**(10x1=10)**

1. What are hieroglyphs?
2. Explain the term printing.
3. How do we make use of an microscope?
4. State the use of ECG or electrocardiogram.
5. Define language.
6. Draw stethoscope.
7. What is an antibiotic?
8. Define anaesthesia.
9. What are sources of energy?
10. Name the first fuel which was used on a large scale in machines.
11. Write a short note on the concepts of zero and decimal system. **(3)**
12. Write about the experiment of Benjamin Franklin. **(3)**
13. a) What do you mean by Industrial Revolution? **(1)**  
b) What led to beginning of the factory system? **(2)**  
c) Write any three advantages of the Industrial Revolution. **(2)**

XXXXXXXXXXXXXXXXXXXXXXXXXXXX