



SINDHI HIGH SCHOOL K.K.ROAD, BANGALORE-1

Periodic Test-II 2022-23

Subject: English

13/12/22

CLASS : VI A/ B/C

Max. Marks 50

Reading time 8.00 -8.10A.M.

Writing Time 8.10-10.10 am

No. of printed sides: 7

General Instructions

This paper contains three sections

Section A – Reading-10Marks

Section B – Writing & Grammar- 20Marks

Section C- Literature-20 Marks

All Sections are compulsory:

Section A – Reading (10Marks)

I) Read the following passages carefully:

A boy named Raj was upset because he had done poorly in his tests. He was sitting in his room when his grandmother came and comforted him. His grandmother sat beside him and gave him a pencil. Raj looked at his grandma puzzled, and said he didn't deserve a pencil after his performance in the test.

His grandma explained, "You can learn many things from this pencil because it is just like you. It experiences a painful sharpening, just the way you have experienced the pain of not doing well in your test. However, it will help you to be a better student. Just as all the good that comes from the pencil is from within itself, you will also find the strength to overcome this hurdle. And finally, just as this pencil will make its mark on any surface, you too shall leave your mark on anything you choose to."

Raj thanked his grandmother for her words of wisdom and for motivating him. He realized that, we all have the strength to be who we wish to be. The only thing we have to do is channelise ourselves in the right direction. He promised himself that he would do better.

Now answer the following questions by choosing correct options:(1x5=5M)

1. Raj had done poorly in his tests so

- (a) he was happy
- (b) he was worried
- (c) he was glad
- (d) he was partying

2. When Raju's grandmother gave him the pencil

- (a) he was perplexed
- (b) he thanked her
- (c) he was on cloud nine
- (d) he was overjoyed

3. Hurdles can be overcome by

- (a) steering oneself in the right direction
- (b) not putting sufficient effort
- (c) not to follow instructions
- (d) None of these

4."Hurdle" means

- (a) uneasy
- (b) obstacles
- (c) easier
- (d) easiest

5. The antonym of "wisdom", is

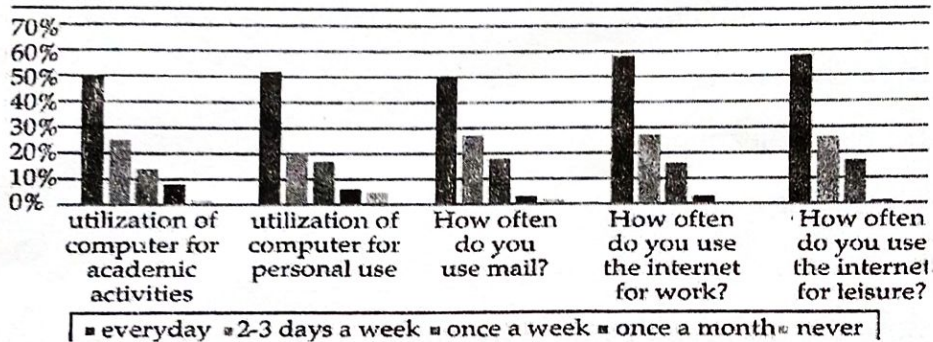
- (a) intelligent

- (b) brilliant
- (c) ignorance
- (d) clever

II) Read the following passages carefully:

(1x5=5M)

The present generation is well updated with the use of internet and computers. The rapid development in computer technology and increase in accessibility of the internet for academic purposes has changed the face of education for everyone associated with it. Let's look at the data arising out of a recent survey that was done to ascertain the time spent on utilization of the computer and internet.



At present many schools and universities have been implementing internet based learning, as it supplements the traditional teaching methods. The internet provides a wide variety of references and information to everyone. It is a tremendous resource which has to be used carefully.

According to a survey 60-70% said that they use internet for leisure everyday. When reading for pleasure, around 60% used the print media, whereas the rest of the 40% chose e-books rather than print. When asked what made E-books their favorite features, they responded that they are easy to manage, browse, portable and lightweight, making it easy to carry around. Instead of carrying multiple bulky books, one e-book reader can hold thousands of e-books. It

saves a lot of space; in your home and in your bag. With a wide variety of materials. This proves that technology has become the backbone for learning.

But is it a boon or a bane?

Now answer the following questions by choosing correct options:

1. Which of the statement is not true based on the graph?

- i) 50% of them do not use computer for academic activities
- ii) 20 % of them do not use computer for academic activities
- iii) 50% of them use computer for academic activities
- iv) All of the above

2. What supplements the conventional teaching methods?

- i) internet learning.
- ii) book learning.
- iii) picture learning
- iv) reading and writing

3. As per the graph 20-30% use mail

- i) everyday
- ii) alternate days
- iii) once a week.
- iv) on weekends

4. The word "tremendous", means

- i) tiny
- ii) small
- iii) little
- iv) huge or massive

5. E-books are popular as

- i) they are portable and bulky
- ii) easy to browse and huge
- iii) portable and lightweight
- iv) they are complicated

Section B – Writing & Grammar- 20Marks

III) The following passage has not been edited. There is one error in each line. Write the incorrect word and the correction against each line of the passage.

(1x5=5M)

Correctword

Incorrect word

Children are find of coconuts. It is the

a. _____

_____ biggest of all the nuts, and is indeed the wonderful

b. _____

_____ fruit. It grows in tall palm trees and is

c. _____

_____ found in tropical countries around a seashores.

d. _____

_____ The name was give to it by the Portuguese.

e. _____

IV) Choose the correct option from those given in brackets. (1x5=5M)

I love a) _____ (at/in/on/to) keep my room neat and clean .My books and other study materials are b) _____ (at/in/on/for) my table. My t-shirts are (c) _____ (by/ since/inside / to) the cupboard. The shoes are d) _____ (of/in/off/on) the shoe rack. There is a ceiling fan e) _____ (to/past /above / for) my bed.

V) Writing an application to the principal of your school requesting her/him to grant you two days leave. Give a suitable reason. You are Ram/Ria. (5M)

VI) Write an interesting story with the help of the given beginning. Give a suitable title. (WORD LIMIT-100 words) (5M)

My brother and I were playing hide and seek with our friends. Suddenly, a fight broke out between my brother and his bestie Raju. We were all shocked and sad. They both stopped playing. We didn't know what to do-----

LITERATURE (20Marks)

VII) Read the extract and answer the questions.

(1X2=2M)

Where do all the teachers go

When it's four O' clock?

Do they live in houses

And do they wash their socks?

Do they wear pyjamas

And do they watch TV?

i) The name of the poet is

(a) Peter Dixon

(b) L.M. Haul

(c) Harry Behn

(b) E-Yeh-Shure

ii) The speaker finds it difficult to believe that his teachers are

(a) great men

(b) ordinary people

(c) learned

(d) educated

VIII) Answer the following in 30-40 :

(2x2=4M)

- 1) In the poem "Where do all teachers go", what are the things normal people do that the poet talks about?
- 2) What did the governors of other provinces in the lesson "The Shepherd's treasure" think about the chest that the new governor carried with him?

XI) Answer the following in 50-60 words:

(2x3=6M)

- 1) In the lesson "Fair Play", narrate the incident for which Jumman was nominated as head panch to hear the case.
- 2) Sketch the character traits of Ray from the lesson "The Old Clock Shop".

X) Answer the following in 70-80-words:

(2x4=8M)

- 1) Imagine yourself to be Algu from the lesson "Fair Play", Express your feelings in the form of diary entry, when Jumman gave the verdict in favour of your aunt.
- 2) Was the shepherd worthy of being rewarded twice in the story "The Shepherd's Treasure"? If yes why?



SINDHI HIGH SCHOOL, K.K.ROAD BENGALURU-1

II PERIODIC TEST- 2022

SUBJECT : 2ND LANGUAGE KANNADA

Class: VI

Marks :50

Time:2 hour

No of sides: 7

Date:15 /12/2022

I. ಈ ಗದ್ಯಭಾಗವನ್ನು ಓದಿ, ಕೆಳಗಿನ ಪ್ರಶ್ನೆಗಳಿಗೆ ಸರಿಯಾದ ಉತ್ತರವನ್ನು ಆರಿಸಿ ಬರೆಯಿರಿ. 1x5=5

ಪೂರ್ವಕಾಲದ ಇತಿಹಾಸವನ್ನು ತಿಳಿಯಲು ಹಿಂದಿನ ಬರವಣಿಗೆಗಳನ್ನು ಸಂಗ್ರಹಿಸಿ ಓದಿ ಅರಿಯಬೇಕಾಗುತ್ತದೆ. ಹಿಂದೆ ಬರವಣಿಗೆಗಳನ್ನು ಕಲ್ಲುಗಳ ಮೇಲೆ, ತಾಳೆಗರಿಗಳ ಮೇಲೆ ಬರೆಯಲಾಗುತ್ತಿತ್ತು. ಆಗಿನ ಕಾಲದಲ್ಲಿ ಬರವಣಿಗೆಗಾರರ ವಿಶೇಷ ತಂಡಗಳು ಇರುತ್ತಿದ್ದವು. ಅವರನ್ನು ಕಾಯಸ್ಥ ಎಂದು ಕರೆಯುತ್ತಿದ್ದರು. ವಿದ್ವಾಂಸರು ಬರೆದ ಗ್ರಂಥಗಳನ್ನು ಮಠ-ಮಂದಿರ, ಬೌದ್ಧರ ವಿಹಾರ, ಜೈನರ ಚೈತ್ಯಾಲಯಗಳಲ್ಲಿ ಸಂರಕ್ಷಿಸಿ ಇಡುತ್ತಿದ್ದರು. ಕ್ರಿ.ಶ. ನಾಲ್ಕನೆಯ ಶತಮಾನದಿಂದ ಹದಿಮೂರನೇ ಶತಮಾನದವರೆಗಿನ ಬರಹಗಳನ್ನು ಅರಮನೆ, ಪಂಡಿತರ ಹಾಗೂ ಶ್ರೀಮಂತರ ಮನೆತನಗಳಲ್ಲಿ ಸಂರಕ್ಷಿಸಿರುವುದನ್ನು ಕಾಣುತ್ತೇವೆ. ರಾಜ ಮಹಾರಾಜರು ತಾವು ಹೊರಡಿಸಿದ ಆಜ್ಞೆಗಳು ಜನರಿಗೆ ತಲುಪಿಲೆಂದು ಶಾಸನಗಳನ್ನು ಕೆತ್ತಿಸುತ್ತಿದ್ದರು. ಅದನ್ನು ರಾಜ ಶಾಸನಗಳು ಎಂದು ಕರೆಯುತ್ತಿದ್ದರು.

ಹಿಂದಿನ ಕಾಲದ ರಾಜರ ಆಜ್ಞೆಗಳನ್ನು ಅರಿಯಲು ಅವರ ರಾಜಕೀಯ, ಧಾರ್ಮಿಕ, ಸಾಮಾಜಿಕ ಜೀವನ ಮೊದಲಾದವುಗಳನ್ನು ಅರಿಯಲು ಶಾಸನಗಳು ಬಹು ಮುಖ್ಯವಾಗಿವೆ. ಇದರಲ್ಲಿ ಅಶೋಕನ ಶಾಸನಗಳೇ ಹಳೆಯದು. ಅಶೋಕನ ಶಾಸನಗಳನ್ನು ' ಧರ್ಮಲಿಪಿ ' ಎಂದು ಕರೆದಿದ್ದಾರೆ.

ಪೂರ್ವಕಾಲದ ಇತಿಹಾಸವನ್ನು ತಿಳಿಯಲು ಹಿಂದಿನ ಬರವಣಿಗೆಗಳನ್ನು ಸಂಗ್ರಹಿಸಿ ಓದಿ ಅರಿಯಬೇಕಾಗುತ್ತದೆ. ಹಿಂದೆ ಕಲ್ಲುಗಳ ಮೇಲೆ, ಮರದ ತೊಗಟೆಗಳ ಮೇಲೆ ತಾಳೆಗರಿಗಳ ಮೇಲೆ ಮರದ ತೊಗಟೆಗಳ ಮೇಲೆ ತಾಳೆಗರಿಗಳ ಮೇಲೆ ಬರೆಯುತ್ತಿದ್ದರು. ಕನ್ನಡದ ಹಿಂದಿನ ಕಾವ್ಯಗಳನ್ನು ತಾಳೆಗರಿಗಳಿಂದ ಕಾಗದದ ಮುದ್ರಣ ರೂಪಕ್ಕೆ ತಂದವರು ಬಿ.ಎಲ್. ರೈಸ್. ಹಿಂದೆ ಶಾಸನಗಳನ್ನು ಬಂಡೆಗಳು, ಶಿಲಾಸ್ತಂಭಗಳು ಮತ್ತು ತಾಮ್ರಪಟಗಳ ಮೇಲೆ ಬರೆಯುತ್ತಿದ್ದರು.

ಶಾಸನಗಳನ್ನು ಅಧ್ಯಯನ ಮಾಡುವುದರಿಂದ ನಮಗೆ ಹಿಂದಿನ ಕಾಲದ ಕುರಿತು ಮಹತ್ವದ ದಾಖಲೆಗಳು ದೊರೆಯುತ್ತವೆ. ಆ ಕಾಲದ ಜನರ ಜೀವನ ಶೈಲಿಯ ಕುರಿತು ಅರಿಯಲು ಸಹಾಯವಾಗುತ್ತದೆ.

೧. ಕನ್ನಡದ ಹಿಂದಿನ ಕಾವ್ಯಗಳನ್ನು ತಾಳೆಗರಿಗಳಿಂದ ಕಾಗದದ ಮುದ್ರಣ ರೂಪಕ್ಕೆ ತಂದವರು _____

ಅ) ಬಿ.ಎಲ್ ರೈಸ್

ಆ) ಶೇಷಾದ್ರಿ ಅಯ್ಯರ್

ಇ) ಅಶೋಕ

ಈ) ಫರ್ಡಿನೆಂಡ್ ಕಿಟಲ್

೨. ಹಿಂದೆ ಶಾಸನಗಳನ್ನು ಬಂಡೆಗಳು, ಶಿಲಾಸ್ತಂಭ ಮತ್ತು _____ ಮೇಲೆ ಬರೆಸುತ್ತಿದ್ದರು.

ಅ) ಎಲೆಗಳ ಮೇಲೆ ಆ) ಬೆಳ್ಳಿ ತಟ್ಟೆ ಇ) ಚಿನ್ನದ ಹಾಳೆ ಈ) ತಾಮ್ರಪಟ

೩. ಪುರಾಣ ಕಾಲದಲ್ಲಿ ಬರವಣಿಗೆಗಾರರ ವಿಶೇಷ ತಂಡದವರನ್ನು _____ ಎಂದು ಕರೆಯುತ್ತಿದ್ದರು.

ಅ) ಪಂಡಿತರು ಆ) ಕವಿಗಳು ಇ) ಕಾಯಸ್ಥ ಈ) ಶಿಲ್ಪಿಗಳು

೪. ಅಶೋಕನ ಶಾಸನಗಳನ್ನು ಹಿಂದೆ _____ ಎಂದು ಕರೆಯುತ್ತಿದ್ದರು.

ಅ) ಅಧರ್ಮ ಲಿಪಿ ಆ) ಧರ್ಮಲಿಪಿ ಇ) ಚೈತ್ರಾಲಯ ಈ) ಬೌದ್ಧರ ವಿಹಾರ

೫. ರಾಜ ಮಹಾರಾಜರು ತಾವು ಹೊರಡಿಸಿದ ಆಜ್ಞೆಗಳು ಜನರಿಗೆ ತಲುಪಿಲೆಂದು ಕೆತ್ತಿಸಿದ ಶಾಸನಗಳನ್ನು _____ ಎಂದು ಕರೆಯುತ್ತಿದ್ದರು.

ಅ) ಮಹಾ ಶಾಸನ ಆ) ದಾನದತ್ತಿ ಇ) ರಾಜರ ಚರಿತ್ರೆ ಈ) ರಾಜ ಶಾಸನಗಳು

II. ಕೆಳಗಿನ ವ್ಯಾಕರಣಾಂಶಗಳಿಗೆ ಸರಿಯಾದ ಉತ್ತರವನ್ನು ಆರಿಸಿ
ಬರೆಯಿರಿ.

1x15 = 15

೧. 'ವೃತ್ತಿ' ಈ ಪದದ ಸಮಾನಾರ್ಥ

ಅ) ವರ ಆ) ಉದ್ಯೋಗ ಇ) ಗೌರವ ಈ) ಮಿನುಗು

೨. 'ವಿಶ್ವದಾದ್ಯಂತ' ಈ ಪದವನ್ನು ಬಿಡಿಸಿ ಬರೆದಾಗ ಬರುವ ರೂಪ.

ಅ) ವಿಶ್ವ + ಆದ್ಯಂತ ಆ) ವಿಸ್ವ + ಆದ್ಯಂತ

ಇ) ವಿಶ್ವ + ಅದ್ಯಂತ ಈ) ವಿಷ + ಆದ್ಯಂತ

೩. 'ಹಗಲು' ಈ ಪದದ ವಿರುದ್ಧ ಪದ

ಅ) ಬೆಳಕು ಆ) ಸಂಜೆ ಇ) ಇರುಳು ಈ) ಮುಂಜಾನೆ

೪. 'ಕೈಕೆಸರಾದರೆ _____ ಈ ಗಾದೆ ಮಾತನ್ನು ಪೂರ್ಣ ಮಾಡಿ.

ಅ) ಮೈಮೊಸರು ಆ) ಕಾಲು ಕೆಸರು ಇ) ಬಾಯಿ ಮೊಸರು ಈ) ಕಣ್ಣು ಕೆಸರು

೫. 'ಕಂಬನಿ' ಈ ಪದವು ಈ ಸಂಧಿಗೆ ಉದಾಹರಣೆಯಾಗಿದೆ.

ಅ) ಲೋಪಸಂಧಿ ಆ) ಆದೇಶಸಂಧಿ

ಇ) ಯ'ರಾಗಮಸಂಧಿ ಈ) 'ವ'ಕಾರಾಗಮ ಸಂಧಿ

೬. ಊರೂರು, ಅಲ್ಲಲ್ಲಿ, ಕೈಯನ್ನು ಅವನೊಬ್ಬ - ಈ ಪದಗಳಲ್ಲಿರುವ ಗುಂಪಿಗೆ ಸೇರದ ಪದವಿದು

ಅ) ಊರೂರು ಆ) ಅಲ್ಲಲ್ಲಿ ಇ) ಕೈಯನ್ನು ಈ) ಅವನೊಬ್ಬ

೭. ಹುಡುಗರು ಮೈದಾನದಲ್ಲಿ ಆಡುತ್ತಿದ್ದಾರೆ - ಈ ವಾಕ್ಯದಲ್ಲಿರುವ ಕಾಲವಿದು.

ಅ) ವರ್ತಮಾನ ಆ) ಗುಳಿಕಕಾಲ ಇ) ಭೂತಕಾಲ ಈ) ಭವಿಷ್ಯತ್ ಕಾಲ

೮. ಎಲ್ಲರ ಜೀವನದಲ್ಲಿ ನೋವು-ನಲಿವು ಸರ್ವಸಾಮಾನ್ಯ- ಈ ವಾಕ್ಯದಲ್ಲಿರುವ ಜೋಡಿಪದವಿದು.

ಅ) ಎಲ್ಲರ ಆ) ಸರ್ವಸಾಮಾನ್ಯ ಇ) ಜೀವನದಲ್ಲಿ ಈ) ನೋವು-ನಲಿವು

೯. ರಾಮ, ಕುಂಟ, ನದಿ, ಕುಂಟೆ - ಈ ಪದಗಳಲ್ಲಿ ರೂಢನಾಮ ಪದವಿದು.

ಅ) ರಾಮ ಆ) ಕುಂಟ ಇ) ನದಿ ಈ) ಕುಂಟೆ

೧೦. 'ಆಟಗಾರ' ಈ ಪದದ ಸ್ತ್ರೀಲಿಂಗ ರೂಪವಿದು

ಅ) ಆಟಾರ್ತಿ ಆ) ಆಟಗಾರ್ತಿ ಇ) ಆಟಗಾರರು ಈ) ಆಟಗಾರಿ

೧೧. 'ತೆರೆ' ಈ ಪದದ ನಾನಾರ್ಥ

ಅ) ಅಲೆ-ಪರದೆ ಆ) ತೆರಿಗೆ-ತಪ್ಪು ಇ) ಕಂದ-ಕರೆ ಈ) ತೇಲು-ತೇಗು

೧೨. 'ರಾಜನು ಪ್ರಜೆಗಳನ್ನು ರಕ್ಷಿಸಿದನು - ಗೆರೆಯೆಳೆದ ಪದದ ವಿಭಕ್ತಿ ತಿಳಿಸಿ.

ಅ) ದ್ವಿತೀಯ ವಿಭಕ್ತಿ ಆ) ತೃತೀಯ ವಿಭಕ್ತಿ

ಇ) ಪ್ರಥಮಾ ವಿಭಕ್ತಿ ಈ) ಪಂಚಮಿ ವಿಭಕ್ತಿ

೧೩. 'ಕಣ್ಣಿ' ಈ ನುಡಿಗಟ್ಟಿನ ಅರ್ಥವಿದು.

ಅ) ಅಚ್ಚುಮೆಚ್ಚಾದ ಆ) ಅನುಭವಿಯಾಗು ಇ) ಎಚ್ಚರವಾಗು ಚಾಡಿಹೇಳು

೧೪. 'ಮಗು' ಈ ಪದದ ಬಹುವಚನ ರೂಪವಿದು.

ಅ) ಮಗುಗಳು ಆ) ಮಗ ಇ) ಮಗಂದಿರು ಈ) ಮಕ್ಕಳು

೧೫. 'ಮ್ಯಾಲೆ' - ಈ ಪದದ ಗ್ರಂಥಸ್ಥ ರೂಪವಿದು

ಅ) ಮ್ಯಾಗೆ ಆ) ಮೇಲೆ ಇ) ಮಾರು ಈ) ಮಾಗು

III. ಈ ಕೆಳಗೆ ಕೊಟ್ಟಿರುವ ಮಾಲತಿ ಹೊಳೆ ರವರ ಪರಿತ ಗದ್ಯಭಾವನ್ನು ಓದಿ ಅದರ ಕೆಳಗೆ ಕೊಟ್ಟಿರುವ ಪ್ರಶ್ನೆಗಳಿಗೆ ಸರಿಯಾದ ಉತ್ತರವನ್ನು ಆರಿಸಿ ಬರೆಯಿರಿ. 1X4=4

ಎಲ್ಲಾ ಬಾಗಿಲುಗಳು ಮುಚ್ಚಿದರೂ, ಎಲ್ಲೋ ಒಂದು ಸಣ್ಣ ಕಿಂಡಿಯಿಂದ ಬೆಳಕು ಹರಿದುಬರುತ್ತದೆ. ಇದು ಮಾಲತಿ ಹೊಳೆರವರ ಬದುಕಿನ ಸತ್ಯ. ಪೋಲಿಯೋ ಎಂಬ ಭಯಂಕರ ವ್ಯಾಧಿಗೆ ತುತ್ತಾಗಿ, ಕಾಲುಗಳು ಶಕ್ತಿಹೀನವಾದರೂ, ಕ್ರೀಡಾ ಲೋಕದಲ್ಲಿ ವಿಶ್ವವೇ ಬೆರಗಾಗುವಂತೆ ಸಾಧನೆಯನ್ನು ಮಾಡಿದವರು ಮಾಲತಿ ಹೊಳೆ. ವಿಧಿ ನೀಡಿದ ಅಂಗವಿಕಲತೆ ಈ ಸಾಧಕಿಯ ಪಾಲಿಗೆ ವರವಾಯಿತು.

ಮಾಲತಿ ಹೊಳೆರ ತಂದೆ ಕೃಷ್ಣಮೂರ್ತಿ, ತಾಯಿ ಪದ್ಮಾವತಿ. ಹೋಟೆಲ್ ವೃತ್ತಿಗಾಗಿ ಉಡುಪಿ ಜಿಲ್ಲೆಯ ಮಣ್ಣೂರು ಗ್ರಾಮದಿಂದ ಬೆಂಗಳೂರಿಗೆ ಬಂದವರು. ತವರ ನಾಲ್ಕನೆಯ ಮಗುವಾಗಿ ಜುಲೈ ೬, ೧೯೫೮ರಂದು ಮಾಲತಿ ಜನಿಸಿದರು.

ದುರದೃಷ್ಟವಶಾತ್ ಒಂದು ವರ್ಷದ ಮಾಲತಿಗೆ ಪೋಲಿಯೋ ಆಗಿದ್ದರಿಂದ ಅವರನ್ನು ದತ್ತಾತ್ರೇಯ ಮೆಡಿಕಲ್ ಸೆಂಟರ್ ಎಂಬ ಪುನರ್ವಸತಿ ಕೇಂದ್ರಕ್ಕೆ ಚಿಕಿತ್ಸೆಗಾಗಿ ಸೇರಿಸಿದರು. ಆಕೆಯ ಬಹುಭಾಗ ಇಲ್ಲಿಯೇ ಕಳೆಯಿತು.

ದೇಹದ ನರಗಳೆಲ್ಲ ಚೆಂಡಿನಂತೆ ಒಂದುಗೂಡುವುದು ಈ ಕಾಯಲೆಯ ಸ್ವರೂಪ. ಇದನ್ನು ತಪ್ಪಿಸಲು ಪ್ರತಿ ಆರು ತಿಂಗಳಿಗೊಮ್ಮೆ ಮಾಲತಿಗೆ ಶಸ್ತ್ರಚಿಕಿತ್ಸೆ ಆಗುತ್ತಿತ್ತು. ಸುಮಾರು ಇವರಿಗೆ ೩೨ ಶಸ್ತ್ರಚಿಕಿತ್ಸೆಗಳನ್ನು ಅವರು ಎದುರಿಸಿದರು.

೧. ಮಾಲತಿಹೊಳೆರವರು _____ ಎಂಬ ಭಯಂಕರ ವ್ಯಾಧಿಗೆ ತುತ್ತಾಗಿದ್ದರು.

ಅ) ಮೆದುಳುಜ್ವರ ಆ) ಅಸ್ತಮಾ ಇ) ಪೋಲಿಯೋ ಈ) ನೆಗಡಿ

೧. ಮಾಲತಿಹೊಳ್ಳರವರ ತಂದೆ ತಾಯಿರ ಉರು _____ ಜಿಲ್ಲೆಯಲ್ಲಿದೆ.

ಅ) ಮೈಸೂರು ಆ)ಉಡುಪಿ ಇ) ಮಂಗಳೂರು ಈ)ಬೀದರ್

೨. ಮಾಲತಿಹೊಳ್ಳರವರು ಚೆನ್ನೈನಲ್ಲಿ ದತ್ತಾತ್ರೇಯ ಮೆಡಿಕಲ್ ಸೆಂಟರ್ ಎಂಬ
_____ ಕೇಂದ್ರದಲ್ಲಿ ತಮ್ಮ ಬಾಲ್ಯದಿನಗಳನ್ನು ಕಳೆದರು.

ಅ)ಶಿಕ್ಷಣ ಆ)ಪುನರ್ವಸತಿ ಇ)ಉದ್ಯೋಗ ಈ)ವಿದೇಶ

೪. ಮಾಲತಿ ಹೊಳ್ಳರವರು ಸುಮಾರು ತಮ್ಮ ಕಾಯಿಲೆಯನ್ನು ಸರಿಮಾಡಲು
ಸುಮಾರು _____ ಶಸ್ತ್ರಚಿಕಿತ್ಸೆಗಳನ್ನು ಮಾಡಿಸಿದ್ದರು.

ಅ) ೨೩ ಆ)೩೨ ಇ) ೬೩ ಈ) ೩೧

IV. ನಿಮ್ಮ ಶಾಲೆಯಲ್ಲಿ ನಡೆದ 'ಶಾಲಾ ವಾರ್ಷಿಕೋತ್ಸವ' ಕುರಿತು
ದಾವಣಗೆರೆಯಲ್ಲಿರುವ ನಿಮ್ಮ ಸ್ನೇಹಿತ ಹರ್ಷಿತ/ಹರೀಶ ಅವರಿಗೆ ಒಂದು
ಪತ್ರ ಬರೆಯಿರಿ. (4)

V. ಕೆಳಗೆ ಕೊಟ್ಟಿರುವ ವಿಷಯಗಳಲ್ಲಿ ಒಂದನ್ನು ಕುರಿತು ಆ-೧೦
ವಾಕ್ಯಗಳಲ್ಲಿ ಪ್ರಬಂಧ ರಚಿಸಿ. (4)

೧. ರಾಷ್ಟ್ರೀಯ ಹಬ್ಬಗಳ ಮಹತ್ವ

೨. ನನ್ನ ನೆಚ್ಚಿನ ಹವ್ಯಾಸ

VI. ಕೆಳಗಿನ ಪ್ರಶ್ನೆಗಳಿಗೆ ಒಂದು ವಾಕ್ಯದಲ್ಲಿ ಉತ್ತರಿಸಿ. 1x3=3

೧. ಜೂಲಿಯೋ ಇಗ್ನೇಶಿಯಸ್ ಹೊರತಂದ ಹಾಡುಗಳ ಆಲ್ಬಂ ಯಾವುದು?

೨. ಕನ್ನಡಮ್ ಈ ನಾಡ ಮಣ್ಣಿನಲ್ಲಿ ಏನನ್ನು ಇರಿಸಿದ್ದಾಳೆ?

೩. ಹೈದರಾಬಾದ್ ನಿಜಾಮನ ಆಸ್ಥಾನದಲ್ಲಿ ಕುಸ್ತಿಪಟುಗಳು ಯಾರು ಯಾರು?

VII. ಕೆಳಗಿನ ಪ್ರಶ್ನೆಗಳಿಗೆ ಎರಡು-ಮೂರು ವಾಕ್ಯಗಳಲ್ಲಿ ಉತ್ತರಿಸಿ. $3 \times 2 = 6$

೧. ಜೂಲಿಯೋ ಯಾವ ಕನಸು ಹೊಂದಿದ್ದನು?

೨. ನಮ್ಮ ತಾಯಿ ನಮ್ಮನ್ನು ಯಾವ ರೀತಿ ಸಾಕಿ ಸಲಹುತ್ತಾಳೆ?

೩. ಸಾಮಾಜಿಕ ಸೇವೆಯಲ್ಲಿ ಮಾಲತಿ ಹೇಗೆ ಕ್ರಿಯಾಶೀಲರಾಗಿದ್ದಾರೆ?

VIII. ಈ ಮಾತನ್ನು ಯಾರು-ಯಾರಿಗೆ ಹೇಳಿದರು? ವಿವರಿಸಿ. $2 \times 3 = 6$

೧. "ಕಂಬದ ತುದಿ ಮುಟ್ಟುತ್ತಾನಂದ್ರ ಪಸಕ್ಕನೆ ಜಾರಿಬಿಟ್ಟು"

೨. "ಹಲವು ಬಣ್ಣಗಳ ಹಸುಗಳ ಕರೆಯುವ ಹಾಲಿನ ಬಿಳುಪೊಂದೇ"

IX. ಈ ಕೆಳಗಿನ ಪ್ರಶ್ನೆಗಳಿಗೆ ೨-೨ ವಾಕ್ಯಗಳಲ್ಲಿ ಉತ್ತರಿಸಿ. $1 \times 3 = 3$

೧. ಬಾಳಂಭಟ್ಟನು ಕುಸ್ತಿ ಪಟ್ಟುಗಳನ್ನು ಹೇಗೆ ಕಲಿತು?

ಅಥವಾ

ಐಕ್ಯಗಾನ ಪದ್ಯದಲ್ಲಿ ಕವಿ ನೀಡಿರುವ ಸಂದೇಶವೇನು?



KK Road,
SINDHI HIGH SCHOOL, BENGALURU

II Periodic Test 2022-2023

Mathematics

No. of printed sides: 4

Class 6

Reading Time: 8 to 8.10am

Writing Time: 8.10 to 10.10am

Max marks: 50

Date: 12/12/2022

General instructions:

Write your name, roll number, class and section, date and subject clearly in your answer script.

Write the page number on the right hand side top corner of each side of the paper.

All questions are compulsory.

This Question paper has 5 Sections.

1. Section **A** has 12 MCQ's of 1mark each.
2. Section **B** has 4 questions of 2marks each.
3. Section **C** has 4 questions of 3marks each.
4. Section **D** has 2 questions of 5marks each.
5. Section **E** has 2 case study based question carrying 4marks each.

SECTION - A

I Choose the correct answers.

12x1 = 12

1. _____ has definite length.
 a. line segment b. ray c. line d. none of these
2. A cuboid has _____ number of edges.
 a. 6 b. 8 c. 10 d. 12
3. A die is an example of _____.
 a. A cone b. A cube c. A cylinder d. A cuboid
4. There are _____ faces in a triangular pyramid.
 a. 4 b. 3 c. 8 d. 6

5. The solid figure which has no vertex and no edge is _____.
- a. cone b. cylinder c. sphere d. tetrahedron
6. The total number of diameters of a circle is _____.
- a. 2 b. 10 c. infinite d. finite
7. The decimal form of - three hundred four and five hundredth is _____.
- a. 300.05 b. 300.045 c. 300.45 d. 304.05
8. The short form of: $\frac{1}{10} + 400 + 5 + \frac{7}{100} + 90$
- a. 471.59 b. 459.71 c. 495.17 d. 719.45
9. $0.1 + 0.03 + 60 + 0.007 + 8$ is _____.
- a. 60.317 b. 68.137 c. 68.713 d. 60.37
10. The number of vertices in a cuboid is _____.
- a. 10 b. 8 c. 4 d. 6
11. The diameter of a circle is the _____ chord of the circle.
- a. shortest b. longest c. equal to radius d. none of these
12. The value of $\frac{42}{1000}$ is _____.
- a. 0.42 b. 0.0042 c. 0.042 d. 4.42

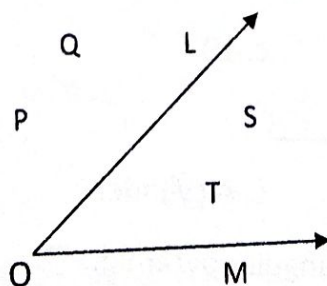
SECTION B

4x2 = 8

13. Draw any two open curves

14. Name a) the interior points and

b) the exterior points.



15. Express 0.0056 as a fraction in the lowest form.

16. Evaluate $18.4 - 12.351 - 1.43 - 2.999$

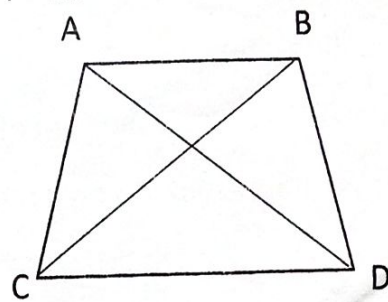
SECTION C

$4 \times 3 = 12$


17a. Name any two pairs of adjacent sides of the polygon.

b. Name the diagonals of the polygon.

c. All the sides of the polygon.



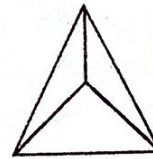
18. Name the following figures




b




c



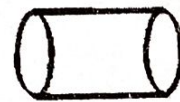
d



e



f



19. The weight of a cylinder filled with gas is 30kg. If the weight of the empty cylinder is 14kg 80g, find the weight of the gas contained in it.

20. Give an example seen from the daily life situations for the following:

a. A line segment

b. Parallel lines

c. A Ray

SECTION D

2x5=10

- 21a. Draw a rectangle-based prism and mention the number of
- (i) Faces
 - (ii) Edges
 - (iii) Corners
- b. Name the types of triangles based on its
- (i) sides
 - (ii) angles
- 22a. Subtract the sum of 114.753 and 70.14 from the sum of 93.12 and 212.15.
- b. Represent 1.8 on a number line.

SECTION E

2x4 = 8

CASE STUDY

23. This is a picture of a honey comb after extracting honey. Observe the given picture and answer the following questions.
- a. Name the shape of each honey comb.
 - b. Give two examples of the same shape.
 - c. Draw the diagonals for the figure obtained in question 23a.
- 24a. Monika went to a market with Rs.3000 in cash. Out of this money she purchased one frock, one toy and one bag costing Rs.578.75, Rs.309 and Rs.1862.85 respectively. How much money is left with her?
- b. Write the place value of each of the digits of the remaining money with Monika.



15. Express 0.0056 as a fraction in the lowest form.

16. Evaluate $18.4 - 12.351 - 1.43 - 2.999$

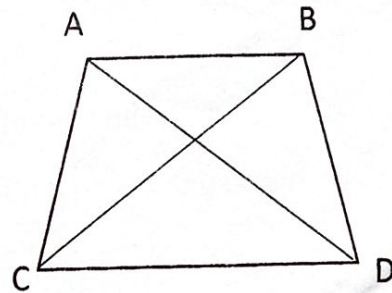
SECTION C

$4 \times 3 = 12$


17a. Name any two pairs of adjacent sides of the polygon.

b. Name the diagonals of the polygon.

c. All the sides of the polygon.



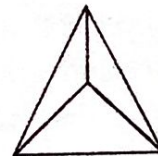
18. Name the following figures



b



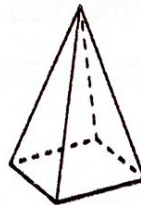
c




d



e



f



19. The weight of a cylinder filled with gas is 30kg. If the weight of the empty cylinder is 14kg 80g, find the weight of the gas contained in it.

20. Give an example seen from the daily life situations for the following:

a. A line segment

b. Parallel lines

c. A Ray



SINDHI HIGH SCHOOL . K.K ROAD

BENGALURU

SECOND PERIODIC TEST -2022-23

THIRD LANGUAGE SANSKRIT

CLASS -6 A B C

MARKS -10

DATE 09 -12-2022

TIME – 1HOUR

NAME -----

ROLL NO -----

1 अधोलिखितम् गद्यांशम् पठित्वा प्रश्नानाम् उत्तराणि लिखत

इदम् शरीरम् । अत्र पञ्च ज्ञानेन्द्रियाणि सन्ति । तानि नयनम्, श्रवणम्, घ्राणम्, रसना, त्वक् च । वयम् नेत्रभ्यम् रूपं पश्यामः । नेत्रविहीनः अन्धः । एकेन नेत्रेण विहीनः काणः । नेत्राभ्याम् विना जीवनम् न सुखकरम् । सर्वेन्द्रियाणाम् नयनं प्रधानम् ।

रसनया विविधान् रसान् आस्वादयामः । तथा एवा वदामः । रसनेन्द्रियेण विहीनः मूको भवति । रसनया विना वक्तुं न पारयामः । घ्राणेन गन्धं जिघ्रामः । गावः गन्धेन पश्यन्ति । श्रवणाभ्याम् शब्दम् आकर्णयामः । श्रवणेन्द्रिय विहीनः बधिरः । श्रुत्वा श्रुत्वा एव आज्ञः प्राज्ञः भवति । अतः सत्कथाश्रवणम् एव कर्णाभरणम् ।

त्वचा स्पृशामः । त्वगिन्द्रियं शरीरे सर्वत्र व्याप्तम् अस्ति । त्वचा विना शीतम् उष्णम् च ज्ञातुम् न पारयामः । एवं पञ्चेन्द्रियाणि जनान् उपकुर्वन्ति । एतेषाम् इन्द्रियाणाम् निग्रहं कृत्वा सर्वत्र विजयते जनः । अतः इन्द्रियनिग्रहाय यत्नः विधेयः ।

एकपदेन उत्तरत

(1)

सर्वेन्द्रियाणाम् प्रधानम् किम् ?

कति ज्ञानेन्द्रियाणि सन्ति?

पूर्णवाक्येन उत्तरत

(2)

शरीरे किम् सर्वत्र व्याप्तम् अस्ति?

कर्णाभारणम् किम् ?

2 अधोलिखितम् गद्यांशम् पठित्वा प्रश्नानाम् उत्तराणि लिखत

नदीतटे एव सर्वाः संस्कृतयः समुद्धचन्ति । तत्र भरतीयासंस्कृतेः नद्य एव आधारभूताः । नदी जलम् तत्पमूल्यं पूजनीयं च । जनाः पापपरिहारार्थं पुण्यसंपादनार्थं च नदीं गत्वा तत्र स्नानं कुर्वन्ति । तां भक्त्या पूजयन्ति । तज्जलं तीर्थमिति स्वीकुर्वन्ति ।

तदिदं जलम् उपभोगाय इति स्वार्थदृष्टिः न युक्तः । जलस्य मितोपयोगः हिताय कल्पते । आधुनिकोद्यमेन नदीजलम् कलुषीक्रियते । एतेन जन्तवः मलिनजलपानेन रोगिणो भवन्ति । अतः जलस्य उपयोगः जागरूकतया करणीयः । भेदभावं विना नदीजलं सर्वान् उपकरोति ।

जलं समेषां जीवनम् । जलेन विना जन्तवः न जीवन्ति । तद्विना कृषकाः कृषिं कर्तुम् न पारयन्ति । जलाभावे उद्यमाः स्थगिता भवन्ति । मृगाः प्रणश्यन्ति । खगाः जलाभावे नश्यन्ति । नदीम् विना जलसमृद्धिः न भवति । जलसमृद्धिं विना जीवनसमृद्धिः च न भवति । अतः जीवनसमृद्धयार्थं नदीं सर्था सर्वदा रक्षणीया ।

एकपदेन उत्तरत :-

(1)

१ भारतीयाः नदीं जलम् किमिति भावयन्ति ?

२ के नदीनां कृते कृतज्ञाः भवेयुः?

पूर्णवाक्येन उत्तरत :-

(2)

१ जलस्य अभावे किम् किम् सम्भवन्ति?

२ जनाः केन रोगिणः भवन्ति?

3 चित्रम् दृष्ट्वा वाक्यानि लिखत :

(2)



shutterstock.com - 1066177093



SINDHI HIGH SCHOOL
K.K.ROAD, BANGALORE 560001
Class 6 Additional Hindi

NAME:- _____

MAX.MARKS:-10

CLASS:-VI SEC. _____

DATE:- 14-12-22.

Time:1 hour

I. अपठित गद्यांश को पढ़ कर नीचे पूछे गए प्रश्नों के उत्तर लिखिए- 3

कुछ पुस्तकालय सार्वजनिक होते हैं जो सबके लिए होते हैं। इनके खुलने और बंद होने का समय निश्चित होता है। इनमें हर तरह की पुस्तकें होती हैं। इसके सदस्य बनकर पुस्तकें घर पर भी ले जा सकते हैं। यह पुस्तकालय बहुत उपयोगी होते हैं। इनसे निर्धन विद्यार्थी भी लाभ उठाते हैं। वे महंगी पुस्तकें नहीं खरीद पाते। वे यहाँ बैठकर उन्हें पढ़ सकते हैं। कुछ समय के लिए घर भी ले जा सकते हैं।

प्र.1. सार्वजनिक पुस्तकालय किसके लिए होते हैं?

प्र.2. सार्वजनिक पुस्तकालय के सदस्य क्या कर सकते हैं?

प्र.3. निर्धन विद्यार्थी इन पुस्तकालयों से कैसे लाभ उठाते हैं?

II. मुहावरों के अर्थ लिखिए :-

1

१. दम घुटना - _____

२. किए कराए पर पानी फेरना - _____

III. पर्यायवाची शब्द लिखिए :-

1.

1. विष- _____ 2. घर - _____

IV. विलोम शब्द लिखिए :-

1.

1. बचपन X _____ 2. निश्चय X _____

V. अनेक शब्दों के लिए एक शब्द लिखिए :-

1.

1. बादशाह की पुत्री - _____

2. जो जादू का खेल दिखाता हूँ - _____

VI. प्रश्नों के उत्तर लिखिए :-

3.

1. अलादीन ने गुफा में क्या-क्या देखा ?

2. जादूगर ने दीपक के जिन्न को क्या आज्ञा दी ?

3. जादूगर का अंत कैसे हुआ ?

XXXXXXXXXX



SINDHI HIGH SCHOOL, K.K ROAD,
BENGALURU-01
PERIODIC TEST – 2 (2022-23)

Class: VI

Marks: 50

No of Printed Sides: 3

Subject: Social Science

Time: 8:00am-10:10am.

Date: 16 / 12 / 22

I. Multiple choice questions:-

1x9=9 M

1 .The Buddhism discouraged animal sacrifices

- a. True b. False

2. Buddha taught in the language of the ordinary people

- a. Hindi b. Prakrit
c. Sanskrit d. Pali

3. The last and 24th tirthankara of the Jainas

- a. Jabala b.Vardhamana Mahavira
c. Buddha d. Kashmir

4. Abida Parveen was born and raised in

- a. Mumbai b. Larkana
c. India d. Iran

5. The members of the Gram Sabha must be of ___years or more.

- a. 25 b. 28
c. 18 d. 35

6.The people of Hardas village were facing the problem of

- a. Electricity b.Unemployment
c. Water shortage d. None of the above

7.The Secretary of the Gram Sabha is an elected person.

- a. True b. False

8.The members of the Panchayat were called

- a.Panchs b.Village
c.Both of these d.None of these

9.Who calls the meeting of the Gram Sabha and the Gram Panchayat?

- a.The Secretary b.The Sarpanch
c.The Ward Member d.S H O

II. Answer the following:-

10. Write a short note on the Buddha's teachings. 3x1=3M
11. a. What is a Gram Sabha? 1+2=3M
b. Write the functions of the Zila Parishad
12. a. What is Panchayati Raj System? 1+2=3M
b. What decisions were taken by the Gram Panchayat to solve the problems of the Hardas village?
13. a. Define: Viharas 1+1+3=5M
b. What does the word Upanishad literally mean?
c. Describe the life in Sangha.
14. a. What did the Buddha do after his enlightenment? 2+3=5M
b. Describe the main teachings of the Mahavira.
15. a. Mention the work of a Gram Panchayat. 3+2=5M
b. Explain the sources of funds for the Panchayat

GEOGRAPHY

I. Multiple Choice Questions:-

1x4=4M

1. The highest mountain peak on the earth is
a. Alps b. Andes c. Himalayas d. Mt. Everest
2. Which ocean is 'S' shaped?
a. The Atlantic Ocean b. The Pacific Ocean
c. The Indian Ocean d. The Arctic ocean
3. The level of sea water remains the same everywhere.
a. True b. False
4. The world's longest river is the _____.
a. Amazon b. Nile c. Congo d. Ganga

II. Answer the following:-

6. a. Why is the ocean water not fit for human use? 1+2=3M

b. What are Continents and Oceans ?

7. a. Differentiate between Isthmus and Strait 2+2+1=5M

b. List the research stations of India in Antarctica

c. Define: Biosphere

8. a. Describe about the continent Africa. 3+2=5M

b. On the outline map of the world mark the following:-

A. The Indian Ocean

B. South America
